

策划统筹：王者 杨卫平  
责任编辑：唐年华 黄林  
责任校对：彭饒嶼 邓勇  
封面设计：殷建华

一样的假日  
不一样的收获



冬日的闹钟，总在朦胧中  
打破我甜美的梦境  
刺骨的寒意，堆成难以攀援的阶梯  
但我相信，只要努力  
就能翻山越岭，领略山那边的风景

我知道，寒风每年不断地轮回  
但是，只要朝着太阳飞奔  
便可迎来阳光倾泻的黎明  
或累或闹，或哭或笑  
不再疲惫，云淡风轻

带上父母的期盼  
带上老师殷切的叮咛  
带上我五彩的梦想  
去收获不一样的快乐



假日知新·寒假学习与生活



紧扣课标要求 凸显学以致用 倡导高效学习 体验知新假日

NEW CONCEPT HOLIDAY

# 假日知新

寒假学习与生活

高一  
文科综合

华语教育 编

高一文科综合



★系统温故知新

★生活体验知新

★趣味预习知新

★多元互动知新



答案解析 资源助学


湖南师范大学出版社



这是一个创意与智慧的展台  
一片分享成功与欢乐的园地  
只要你乐于创作、勇于投稿  
在一样的假期里  
就会收获不一样的乐趣



学生作品



1	2
3	4

1. 长沙市田家炳实验中学 梁谦谦
  2. 长沙市麓山国际实验学校 黄芊芮
  3. 益阳市南县第一中学 伍翊杨
  4. 益阳市南县第一中学 曾庆玲
- (指导老师 龙平涛 吴建立 刘清峨 唐靖宇)

师生作品



益阳市南县一中 杨露 (指导老师 唐靖宇)



岳阳临湘市第一中学 李何曼 (指导老师 李勇韬)



益阳市南县四中 袁花 (指导老师 李一梁)



长沙市周南中学 刘婕 (指导老师 吴建立)

欢迎投稿 (投稿时请注明地区、学校、班级及指导老师, 并留下联络方式)

电子投稿: 2138195118@qq.com mikeywp@126.com  
纸质投稿: 长沙市开福区北辰三角洲B1E1区5栋15楼 葛老师(收) 邮编: 410008



华语教育◎编

# 假日知新

~ 寒假学习与生活 ~



审定单位：（排名不分先后）

长沙市周南中学

长沙市田家炳实验中学

长沙市南雅中学

长沙市麓山国际实验学校

长沙市湘府中学

编写人员：王新龙 肖海燕 周美红 曹智力 周初荣

肖节长 尤先哲 肖运生 刘钢柱 邓建文

熊国庆 谢征 何界华 卓琰

湖南师范大学出版社·长沙

图书在版编目(CIP)数据

假日知新·寒假学习与生活·高一文科综合/华语教育编. —长沙: 湖南师范大学出版社, 2012.12(2022.11 重印)

ISBN 978-7-5648-1028-3

I. ①假… II. ①华… III. ①文科(教育)—课程—高中—习题集 IV. ①G634

中国版本图书馆 CIP 数据核字(2012)第 312318 号

JIARI ZHIXIN · HANJIA XUEXI YU SHENGHUO GAOYI WENKE ZONGHE

**假日知新·寒假学习与生活 高一文科综合**

华语教育◎编

- 
- ◇策划统筹: 王者 杨卫平  
◇责任编辑: 唐年华 黄林  
◇责任校对: 彭饒嶸 邓勇  
◇封面设计: 殷建华  
◇出版发行: 湖南师范大学出版社  
地址/长沙市岳麓山  
邮编/410081  
电话/0731-88872751  
◇经销: 各地新华书店  
◇印刷: 湖南版艺印刷有限公司  
◇开本: 787mm × 1092mm 1/16  
◇印张: 8  
◇字数: 130 千字  
◇版次: 2012 年 12 月第 1 版  
◇印次: 2022 年 11 月第 11 次印刷  
◇书号: ISBN 978-7-5648-1028-3  
◇审图号: GS(2018)6176 号  
◇审批号: 湘发改价费〔2017〕343 号  
◇定价: 9.86 元

---

客服电话: 0731-85515368

联系人: 蒋老师

微信号: hunanhuayujiaoyu

邮箱: 2138195118@qq.com



# 编者寄语

## PREFACE

“千里黄云白日曛，北风吹雁雪纷纷。”亲爱的同学，期盼已久的寒假如约而至！在这岭秀松寒的冬日时光里，你心中一定充满了许多度假想法和美好期望。

假期是另一片求知的天地。同学们暂别校园，回归家庭，温习所学知识之余，将有更多的时间和机会接触广阔的社会，感受多样的生活。

假期是另一个生活的课堂。同学们走入社会，体验生活，可充分利用学习与生活结合的良好机，学以致用，实现自我规划，寻求个性发展。

这本散发着清香的新书，从形式到内容均有别于传统用书，分设学习版和生活版，两者既独立又共融，全新的理念统摄全书，独特的编排彰显创意。

### 1. 系统温故知新

学习版以主题形式呈现，主要依据课程标准并综合相关教材知识点，系统梳理和有机整合上学期所学内容，引导同学们循序渐进并有所侧重地温习所学知识，巩固基本知能，帮助同学们在间隔一个假期之后，能够轻松顺利地融入新学期的学习之中。

### 2. 生活体验知新

“纸上得来终觉浅，绝知此事要躬行。”全书注重引导同学们参与社会实践，培养自主探究精神。生活版独立成篇，结合学科知识和城乡特点，精心设计栏目，密切联系学生的实际生活，并设置富于开放性、趣味性、多样性的主题体验活动或现实思考题，引领同学们在轻松愉悦的体验中思考生活、发现生活，并学会解决生活问题，形成新的学习理念，让同学们在社会生活环境中获得更多的自主成长空间。

### 3. 趣味预习知新

根据下学期学习的内容及要求，全书将某些知识背景和方法准备穿插于学习版和生活版内容之中，通过创设富含趣味性的情境，引导同学们自主预习，旨在激发同学们新的求知欲和探究欲，并为迎接新学期的学习做好心理准备。

### 4. 多元互动知新

全书将相关学科内涵有机融合，形成了学科互动、亲子互动、师生互动和编读互动等多元互动模式，使同学们在互动之中体味学习的快乐和生活的美好；同时，各科均设置了形成性阶段评价表和终结性评价卷，有利于同学们返校后学科老师对同学们做出假期综合评价，了解同学们新的进步。

一样的假日，不一样的收获。衷心祝愿同学们在本书的陪伴下，度过一段快乐如歌、感悟良多的美好假期。

编者  
2022年11月



# 目录

# Contents >>

## 学习版

## 生活版

### 思想政治 /1

- 主题一 社会主义从空想到科学、从理论到实践的发展 /1
- 主题二 只有社会主义才能救中国 /7
- 主题三 只有中国特色社会主义才能发展中国 /13
- 主题四 实现中华民族伟大复兴的必由之路 /19
- 假期总结测评卷 /25

### 历史 /31

- 主题一 中华文明的起源与封建国家的建立 /31
- 主题二 魏晋南北朝的民族交融与隋唐封建国家的发展 /36
- 主题三 辽宋夏金多民族政权的并立与元朝的统一 /41
- 主题四 明清时期中国的发展与面临的挑战 /45
- 主题五 近代中国革命道路的探索 /49
- 主题六 抗日战争和中华人民共和国的成立与建设 /54
- 主题七 改革开放与社会主义现代化建设新时期 /59
- 假期总结测评卷 /63

### 地理 /69

- 主题一 宇宙中的地球 /69
- 主题二 地球表面形态 /74
- 主题三 地球上的大气 /79
- 主题四 地球上的水 /84
- 主题五 地球上的植被与土壤 /88
- 假期总结测评卷 /92

### ☆ 开场白 /97

生活是一本精彩的书 /97

### ☆ 预习知新 /98

新航路 /98  
《中华人民共和国未成年人保护法》的新变化 /101  
人口普查 /103

### ☆ 知新悦读 /105

千年书院如何以文化人 /105  
为什么很少有人说“黄三角” /108  
沙漠上的“捕雾人” /110  
古人乱扔垃圾，处罚严苛 /111

### ☆ 活动设计 /113

中学生该如何消费 /113  
寒假去哪儿之雪树银花篇 /114

### ☆ 生活探秘 /117

元代皇帝为何没有陵墓 /117  
托普卡比宫的古地图 /119

### ☆ 图说天下 /121

印象中国 /121  
看世界 /123

一样的假日  
不一样的收获





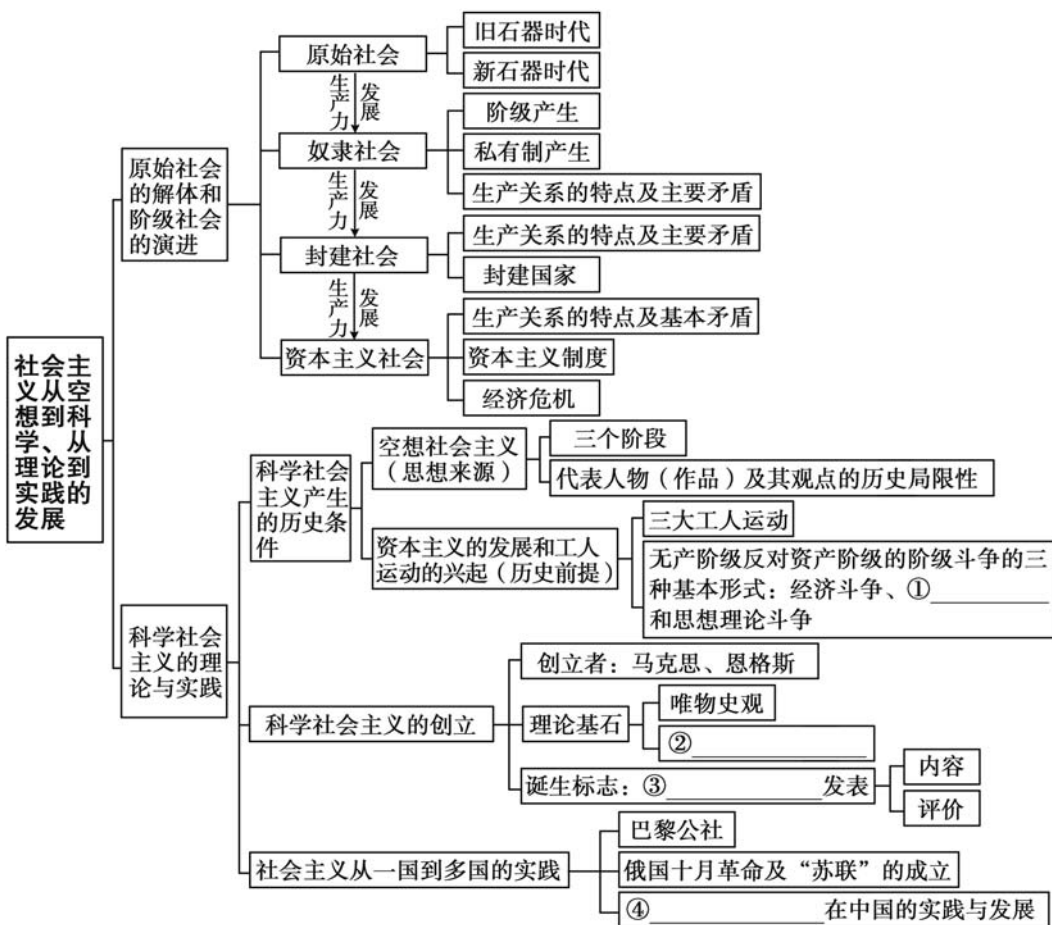
## 思想政治

**假日导学** 亲爱的同学，快乐假期如约而至！根据思想政治学科的特点，我们用心为你设计了涵盖上学期课本知识的4个主题，每个主题按“知识回顾—典例精析—学以致用”的编排体系呈现，希望能有效地帮助你系统梳理上学期所学知识，做到温故而知新。你可以根据实际情况，科学合理地制订好假期个人学习计划，自主灵活地安排好每天的学习与生活时间。愿《假日知新》伴你度过一段快乐如歌的缤纷假期！

### 主题一

## 社会主义从空想到科学、从理论到实践的发展

### 知识回顾







**【例 1】**“吃穿好一些,待遇高一些,私有财产多一些,不会消除奴隶的从属关系和对他们的剥削。雇佣工人为自己铸造的金属锁链已经够重,容许把它略微放松一点。”对这段话理解正确的有 ( )

①资产阶级与无产阶级之间的矛盾是资本主义社会的基本矛盾 ②工人生活的改善和生活水平的提高,没有也不可能改变资本主义的阶级关系 ③资本家支付高工资是以榨取更多的剩余价值为前提的 ④随着科学技术的进步,工人将最终改变受剥削的地位

A. ①②

B. ②③

C. ①③

D. ③④

**【解析】**资产阶级和无产阶级的矛盾是资本主义社会的主要矛盾,而不是资本主义社会的基本矛盾,①观点错误;材料表明工人生活的改善和生活水平的提高,没有从根本上改变资本主义剥削关系,而且资本家支付的工资都是工人创造的价值的一部分,②③符合题意;资本主义私有制不改变,工人阶级就不会改变受剥削的地位,④不符合题意。故选 B。

**【答案】**B

**【例 2】**恩格斯曾说:“圣西门、傅立叶、欧文等人的体系,是在无产阶级和资产阶级之间的斗争还不发展的最初时期出现的,他们看不到无产阶级方面的任何历史主动性,看不到它所特有的任何政治运动。”这表明 ( )

①空想社会主义者仅从理性、正义的原则出发,揭露资本主义的弊端 ②他们看到了资本主义的本质 ③空想社会主义者看不到人民群众,特别是广大无产阶级的力量 ④空想社会主义是科学社会主义的理论基石之一

A. ①②

B. ②③

C. ①③

D. ③④

**【解析】**材料中“他们看不到无产阶级方面的任何历史主动性”,表明他们对资本主义的理解是从理性的原则出发的,因此①正确,②错误;“看不到它所特有的任何政治运动”,表明空想社会主义者看不到人民群众,特别是广大无产阶级的政治力量,因此③正确;空想社会主义是科学社会主义产生的历史条件之一,而非科学社会主义的理论基石之一,因此④错误。故选 C。

**【答案】**C

**【例3】**1516年,英国人托马斯·莫尔发表了《乌托邦》一书,标志着空想社会主义的诞生。1848年,马克思、恩格斯发表了《共产党宣言》,标志着科学社会主义的诞生。科学社会主义超越空想社会主义之处有 ( )

①对资本主义进行了无情的批判 ②对未来社会进行了细致的描绘 ③揭示了资本主义必然灭亡的经济根源 ④找到了实现理想社会的现实道路

A. ①②                      B. ③④                      C. ①③                      D. ②④

**【解析】**题干要求找出二者的区别,空想社会主义和科学社会主义都对资本主义进行了揭露与批判,都表达了对未来理想社会的诉求,所以①②是科学社会主义与空想社会主义的共同之处,不选;空想社会主义只看到了资本主义必然灭亡的命运,却未能揭示资本主义必然灭亡的经济根源,其憧憬取代资本主义社会的理想社会,却找不到通往理想社会的现实道路,③④入选。

**【答案】**B

### 学以致用

#### 一、选择题

- 我国早期的人类“元谋人和北京人”,获取食物的主要方式有 ( )  
①打猎 ②种植农作物 ③采集 ④饲养家畜  
A. ①②                      B. ①③                      C. ②④                      D. ③④
- 人类历史上最早的国家是奴隶制国家。在奴隶制国家中 ( )  
①奴隶主阶级与奴隶阶级是两大对立阶级 ②奴隶主阶级要反对奴隶阶级的统治 ③奴隶不能买卖 ④建立了军队、法庭、监狱等暴力机关  
A. ①②                      B. ①④                      C. ②③                      D. ③④
- 封建制生产关系代替奴隶制生产关系,适应生产力发展的主要表现是 ( )  
①农民开始占有大部分土地 ②农民有了一定的人身自由,能够比较自主地进行劳动 ③农民有自己的生产工具和少量土地,能比较自主地安排生产 ④农民的劳动成果除大部分作为地租交给地主外,能留下一部分归自己支配,提高了生产积极性  
A. ①②③                      B. ①③④                      C. ①②④                      D. ②③④



4. 在封建社会里,封建土地所有制 ( )  
 ①是阶级社会最先进的生产关系 ②是农民受苦、地主发财的总根子 ③是地主阶级剥削农民的基础 ④一直阻碍着生产力的发展  
 A. ①②                      B. ①④                      C. ②③                      D. ③④
5. 在资本主义社会里,资产阶级为了从工人身上获得更多的剩余价值,通过 ( )  
 ①延长工人的劳动时间 ②提高劳动强度 ③采用新技术,提高劳动生产率  
 ④增加工人的工资,增加其劳动积极性  
 A. ①②③                      B. ①②④                      C. ①③④                      D. ②③④
6. 下列对经济危机的主要表现,描述正确的是 ( )  
 ①大量商品卖不出去 ②商品价格持续上涨 ③大量生产资料被闲置 ④大批工人失业  
 A. ①②③                      B. ①②④                      C. ①③④                      D. ②③④
7. 资本主义的基本矛盾是 ( )  
 A. 生产无限扩大的趋势与劳动人民有支付能力的需求相对缩小之间的矛盾  
 B. 生产社会化和生产资料资本主义私人占有之间的矛盾  
 C. 个别企业内部生产的有组织性和整个社会生产的无政府状态之间的矛盾  
 D. 无产阶级和资产阶级之间的矛盾
8. 有学者指出:社会主义就是对资本主义的批判。这表明科学社会主义出现的历史原因主要是 ( )  
 A. 资本主义制度的弊端充分暴露                      B. 社会生产力停滞不前  
 C. 资本主义的掠夺性引发世界大战                      D. 无产阶级力量的壮大
9. 空想社会主义的发展经历了三个阶段,分别是 ( )  
 ①16 世纪初到 17 世纪末的空想社会主义阶段 ②18 世纪的空想社会主义阶段  
 ③19 世纪初的空想社会主义阶段 ④19 世纪末的空想社会主义阶段  
 A. ①②③                      B. ①②④                      C. ①③④                      D. ②③④
10. 马克思和恩格斯在批判继承了前人思想智慧的基础上,加上自己的刻苦努力与智慧创造,创立了自己的科学理论。这些前人的成果不包括 ( )  
 A. 德国古典哲学                      B. 英国古典政治经济学  
 C. 英法启蒙思想                      D. 英法空想社会主义

11. “每一历史时代的经济生产以及必然由此产生的社会结构,是该时代政治的和精神的的基础。”这一论断 ( )
- A. 是对唯物史观的集中表述                      B. 标志着马克思主义的诞生  
C. 提供了社会主义革命的历史依据              D. 揭示出当时资本主义制度的腐朽
12. 《共产党宣言》说:“代替那存在着阶级和阶级对立的资产阶级旧社会的,将是这样一个联合体,在那里,每个人的自由发展是一切人自由发展的条件。”这段话表明马克思主义 ( )
- ①阐述了人的自由而全面发展的思想    ②揭示了资本主义必然崩溃的秘密  
③强调了无产阶级暴力夺权的正义性    ④昭示了未来共产主义社会的理想目标
- A. ①②                      B. ①④                      C. ②③                      D. ③④
13. “一个幽灵,共产主义的幽灵在欧洲徘徊。”马克思、恩格斯在 19 世纪中期写下了这句名言。从此,工人运动开创了一个新纪元。这里“新”的含义是 ( )
- A. 工人运动有了科学理论指导                      B. 打破了资本主义一统天下的格局  
C. 工人阶级开始争取政治权利                      D. 推翻资本主义制度的时机已成熟
14. 《共产党宣言》阐明了社会历史发展的客观规律,充分肯定了资本主义制度取代封建制度的进步作用,同时指出,随着生产力的发展,资本主义制度已经不能适应社会化大生产的需求,因此 ( )
- A. 经济危机必然周期性发生                      B. 无产阶级无须进行暴力革命  
C. 全世界无产阶级必须联合起来                      D. 资本主义必将被共产主义取代
15. “十月革命借助战争完成了一次历史性转换,俄国不再是西欧资本主义的仿效者,而是世界历史的引领者。”这表明俄国的十月革命 ( )
- A. 建立了世界上第一个无产阶级政权  
B. 开创了国际社会主义运动的新局面  
C. 鼓舞了世界被压迫民族的解放斗争  
D. 改变了世界政治力量对比及其格局



## 二、非选择题

16. 原始社会是无阶级剥削的社会,人们过着财产公有、共同劳动、共同消费的生活,原始社会又被称为原始的共产主义社会。在氏族制度下,没有人压迫人的现象,人们通过氏族议事会管理集体的事务。氏族议事会是氏族全体成年男女享有平等表决权的民主集会。氏族长和军事首领是由氏族议事会选举产生的。氏族长负责处理氏族日常内部事务,他没有强制手段,全靠风俗习惯和自己的威望解决氏族内部的问题。

(1)原始社会为什么不存在剥削?

(2)原始社会是不是人类理想的社会? 为什么?

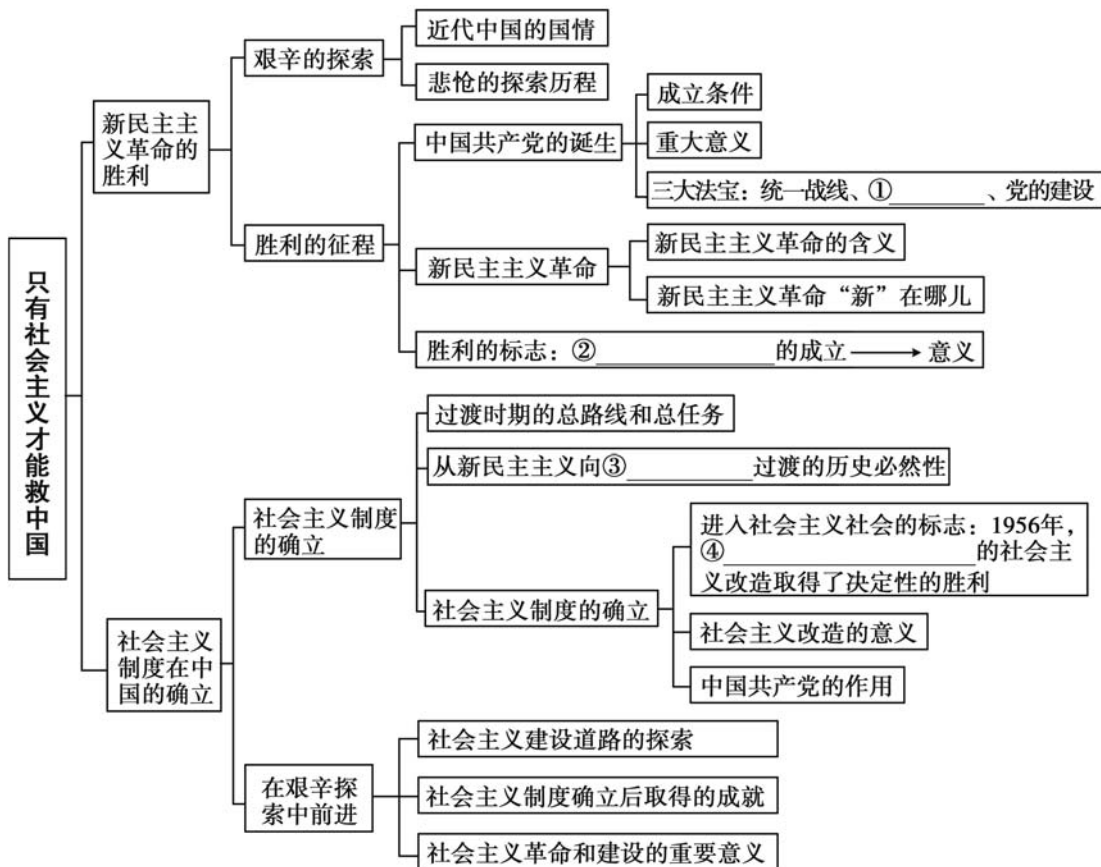
### 互动评价

	学习时间	作业质量	学习态度	学习效果	我的疑惑
自我评价		对 _____ 题 错 _____ 题	<input type="checkbox"/> 好 <input type="checkbox"/> 良好 <input type="checkbox"/> 一般	<input type="checkbox"/> 好 <input type="checkbox"/> 良好 <input type="checkbox"/> 一般	
家长评价					

# 主题二

## 只有社会主义才能救中国

### 知识回顾





## 典例精析

**【例 1】**资产阶级共和国的方案在中国行不通,资产阶级共和国让位于中华人民共和国是近代中国历史发展的必然。在当时世界发展的大格局下,我国不可能模仿欧美资本主义国家的发展道路的原因有 ( )

①当时无产阶级力量比较强大 ②帝国主义不允许中国通过走资本主义道路强大起来 ③由近代中国的基本国情决定的 ④辛亥革命没有改变中国半殖民地半封建社会的性质

- A. ①③                      B. ①④                      C. ②③                      D. ③④

**【解析】**我国不可能模仿欧美资本主义国家的发展道路是由近代中国的基本国情决定的,帝国主义要维护其在华特权,不允许中国通过走资本主义道路强大起来,②③正确;①不符合实际;④不是其原因。

**【答案】**C

**【例 2】**在过渡时期总路线的指引下,中国共产党取得了一系列伟大成就。下列说法中正确的是 ( )

①顺利实现了生产资料私有制的社会主义改造 ②为当代中国一切发展进步奠定了经济基础 ③明确了建立社会主义社会的根本任务 ④开辟了适合中国特点的社会主义改造道路

- A. ①③                      B. ①④                      C. ②③                      D. ②④

**【解析】**在过渡时期总路线的指引下,中国共产党开辟了一条适合中国特点的社会主义改造道路,顺利实现了生产资料私有制的社会主义改造,①④正确;②中“经济基础”说法错误;③是 1954 年《中华人民共和国宪法》的内容,不符合题意。

**【答案】**B

**【例 3】**在过渡时期总路线的指引下,中国共产党在一个经济文化落后的东方大国,创造性地开辟了一条适合中国特点的社会主义改造道路,顺利实现了对生产资料私有制的社会主义改造,在中国建立起社会主义制度。社会主义改造的伟大胜利 ( )

①为当代中国一切发展进步奠定了根本经济制度基础 ②为我国全面建设

社会主义奠定了坚实基础 ③完成了中华民族有史以来最深刻最伟大的社会变革 ④实现了中华民族从“东亚病夫”到站起来的伟大飞跃

- A. ①③                      B. ①④                      C. ②③                      D. ②④

**【解析】**社会主义改造的伟大胜利,极大地激发了广大人民群众建设社会主义的积极性。社会生产力有了比较迅速的发展,社会秩序更加稳定,人民民主专政更加巩固,从而为我国全面建设社会主义奠定了坚实基础,②正确。社会主义改造完成后,在中国建立起社会主义制度,完成了中华民族有史以来最深刻最伟大的社会变革,为当代中国一切发展进步奠定了根本政治前提和制度基础,③正确,①错误。新民主主义革命的胜利、中华人民共和国的诞生、社会主义基本制度的确立和社会主义建设的全面展开,实现了中华民族从“东亚病夫”到站起来的伟大飞跃,④不符合题意。

**【答案】**C

### 学以致用

#### 一、选择题

- 鸦片战争以来,中国逐步沦为半殖民地半封建社会,摆在中国人民面前的历史任务是 ( )  
①争取民族独立和人民解放 ②把日本侵略者赶出中国 ③实现国家富强和人民幸福 ④进行革命并建立民主国家  
A. ①②                      B. ③④                      C. ①③                      D. ②④
- 五四运动的性质属于 ( )  
A. 资产阶级民主革命                      B. 无产阶级领导的社会主义革命  
C. 亚洲觉醒中的民族解放运动                      D. 世界无产阶级革命
- 1939年5月,为纪念五四运动二十周年,毛泽东撰文指出:“二十年前的五四运动,表明中国反帝反封建的资产阶级民主革命已经发展到了一个新阶段。”毛泽东说的“新阶段”的含义包括 ( )  
①五四运动是中国新民主主义革命的开始 ②革命的对象开始由封建地主转变为资产阶级 ③无产阶级开始登上了历史舞台并起了领导作用 ④马克思

主义开始与工人运动相结合

- A. ①②③                      B. ②③④                      C. ①②④                      D. ①③④

4. 新民主主义革命和旧民主主义革命的根本区别是 ( )

- A. 革命的性质不同                      B. 革命的任务不同  
C. 革命的领导阶级不同                      D. 革命的前途不同

5. 下列关于新民主主义革命的说法,不符合史实的是 ( )

- A. 新中国的成立标志着新民主主义革命的基本胜利  
B. 确立了以毛泽东为代表的党中央的正确领导  
C. 统一战线和武装斗争是新民主主义革命的基本武器  
D. 新民主主义革命是世界资产阶级革命的一部分

6. 五四运动不同于辛亥革命之处在于 ( )

- ①有广泛的群众基础    ②是中国近代史上一次彻底的反帝反封建的革命运动  
③无产阶级政党起了领导作用    ④标志着中国新民主主义革命的开端

- A. ①③④                      B. ②③④                      C. ①②③                      D. ①②④

7. 中国共产党夺取政权的基础在农村,而且经历了长期的奋斗并取得胜利。俄国十月革命的特征则是在中心城市发动游行、罢工和起义,革命取得胜利的时间比中国革命短得多。造成这种差异,主要是因为 ( )

- A. 革命斗争策略不同                      B. 经济结构及水平不同  
C. 城乡人口数量不同                      D. 敌对势力的强弱不同

8. 关于毛泽东思想的历史地位,下列说法正确的是 ( )

- ①马克思主义中国化的历史性飞跃    ②中国革命和建设的科学指南    ③各国  
党和人民的宝贵精神财富    ④实现中国梦的根本指针

- A. ①②                      B. ③④                      C. ②③                      D. ①④

9. 我们通常所说的“过渡时期总路线”中的“过渡时期”是指 ( )

- A. 从解放战争爆发到新中国成立  
B. 从七届二中全会召开到新中国成立  
C. 从新中国成立到社会主义改造基本完成  
D. 从新中国成立到《中华人民共和国宪法》通过



10. 1953 年至 1955 年,国家对资本主义工商业“赎买”的方式是“四马分肥”,即企业在分配利润时,国家税收约占 30%,企业公积金余额约占 10%~30%,职工福利奖金约占 5%~15%,资本家红利、酬金约占 25%。这一措施表明 ( )
- A. 国家对私营企业实行代购代销制度  
B. 工人阶级获得对企业的民主管理权  
C. 对资本主义工商业的改造已经完成  
D. 这类企业已带有明显社会主义性质
11. 1954 年制定的《中华人民共和国宪法》 ( )
- ①是新中国的第一部社会主义类型的宪法 ②标志着社会主义三大改造的最终完成 ③以法律形式确认了中国人民掌握国家权力 ④标志着社会主义制度的初步确立
- A. ①②                      B. ③④                      C. ①③                      D. ②④
12. 中共八大最重要的贡献是 ( )
- ①制定了过渡时期的总路线 ②正确分析了国内主要矛盾 ③确定了党和人民的主要任务 ④成为社会主义建设的转折点
- A. ①②                      B. ③④                      C. ②③                      D. ①④
13. 社会主义改造基本完成,标志着 ( )
- ①社会主义基本经济制度的确立 ②我国从新民主主义社会进入社会主义社会 ③我国进入了社会主义初级阶段 ④“三座大山”被推翻 ⑤我国正式步入社会主义改革
- A. ①②③                      B. ②③④                      C. ②④⑤                      D. ③④⑤
14. 1956 年,陈云在中共八大上提出:“在工商经营方面,以国家经营和集体经营为主,附有一定数量的个体经营为补充;在生产计划方面,全国工农业产品的主要部分按计划生产,附有一部分计划外的生产为补充;在市场方面,以国家市场为主体,附有一定范围的由国家领导的自由市场作为补充。”这一提法 ( )
- A. 未突破单一计划经济模式                      B. 是符合国情的有益探索  
C. 推动了“一化三改”的开展                      D. 掀起了新民主主义革命

15. 毛泽东在中国共产党第八次全国代表大会开幕词中说：“我们这次大会的任务是，总结从七次大会以来的经验，团结全党，团结国内外一切可能团结的力量，为了建设一个伟大的社会主义的中国而奋斗。”这表明当时国内的主要矛盾是（ ）
- ①无产阶级同资产阶级之间的矛盾 ②计划多一点还是市场多一点之间的矛盾  
③人民对于建立先进的工业国的要求同落后的农业国的现实之间的矛盾  
④人民对于经济文化迅速发展的需要同当前经济文化不能满足人民需要的状况之间的矛盾
- A. ①②                      B. ①③                      C. ②④                      D. ③④

## 二、非选择题

16. 1956 年秋，中共八大的决议指出：我国国内的主要矛盾是“先进的社会主义制度同落后的社会生产力之间的矛盾”。中共八大对我国自己的建设社会主义道路进行了一次比较成功的探索，提出的许多方针和设想富有创造性。

试结合过渡时期的历史内容分析作出有关我国国内主要矛盾这一科学论断的根据。

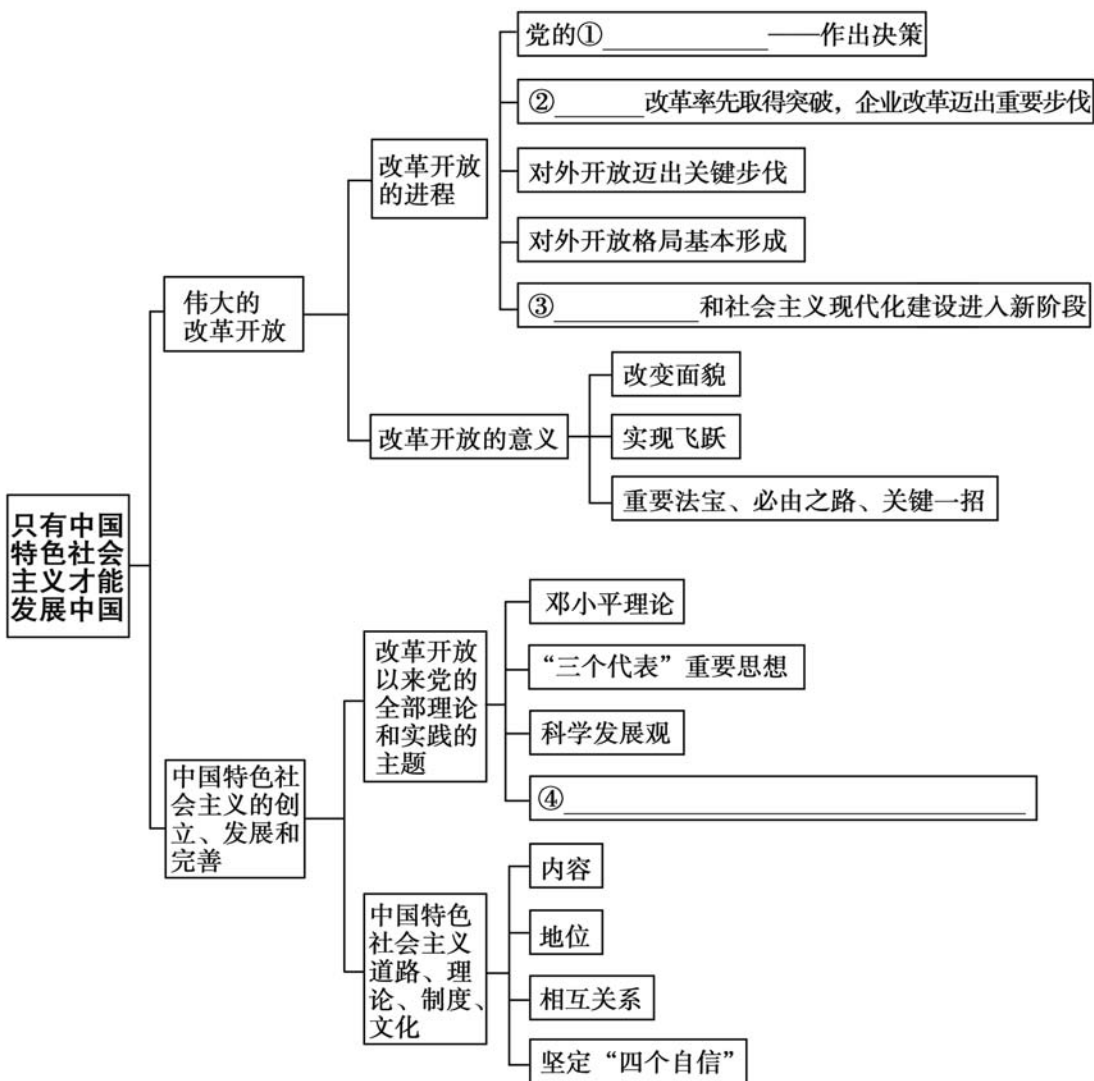
## 互动评价

	学习时间	作业质量	学习态度	学习效果	我的疑惑
自我评价		对 _____ 题 错 _____ 题	<input type="checkbox"/> 好 <input type="checkbox"/> 良好 <input type="checkbox"/> 一般	<input type="checkbox"/> 好 <input type="checkbox"/> 良好 <input type="checkbox"/> 一般	
家长评价					

主题三

只有中国特色社会主义才能发展中国

知识回顾







**【例 1】**“21 世纪始于中国的 1978 年”，这是英国专栏作家马丁·雅克作出的断言。那一年，“一个社会主义国家开始从平均主义向市场经济走出了尝试性的一步……它创造了一个完全不同的历史。中国的转变已经使世界的重心东移”。对此理解正确的是 ( )

- A. 党的十一届三中全会决定建立社会主义市场经济体制
- B. 党的十一届三中全会使中国进入社会主义现代化建设的新时期
- C. 1978 年党的十一届三中全会作出的决策为世界和平作出了贡献
- D. 1978 年党的十一届三中全会使我国建立起市场经济体制

**【解析】**根据材料“21 世纪始于中国的 1978 年”“开始从平均主义向市场经济走出了尝试性的一步”，并结合所学知识可知，1978 年党的十一届三中全会决定实行改革开放，使中国进入社会主义现代化建设的新时期，故 B 项正确；1992 年党的十四大决定建立社会主义市场经济体制，故 A 项错误；21 世纪初中国初步建立起社会主义市场经济体制，故 D 项错误；C 项不符合题意，题干不涉及和平问题。

**【答案】**B

**【例 2】**文化立世，文化兴邦。“欲人勿疑，必先自信”，只有对自己的文化有坚定的信心，才能获得坚持坚守的从容，鼓起奋发进取的勇气，焕发创新创造的活力。文化自信的核心内涵包括社会主义先进文化、优秀传统文化和红色革命文化。这要求我们 ( )

①自觉抵制一切外来文化作品，努力发展中华优秀传统文化 ②在中国特色社会主义实践中不断发展中国特色社会主义文化 ③在文化建设中自觉坚持马克思主义的指导地位 ④在文化建设中自觉建设多种价值体系，培养多元文化意识

- A. ①②
- B. ②③
- C. ①④
- D. ③④

**【解析】**本题考查文化自信。树立文化自信不等于抵制一切外来文化，①错误；文化自信，来自对时代发展潮流、中国特色社会主义伟大实践的深刻把握，来自对文化价值的充分肯定、对自身文化生命力的坚定信念，所以②③正确；在文化建设中要自觉培育社会主义核心价值观，而非多元文化意识，④错误。

**【答案】**B

## 一、选择题

1. 1978年中国共产党十一届三中全会召开后,中国历史发展进入新时期。下列关于新时期特征的表述,正确的是 ( )
- A. 先改革后开放,以国内改革带动对外开放  
B. 实行改革开放,开启了社会主义事业发展新时期  
C. 家庭联产承包责任制成为农村发展的动力  
D. 始终以建立社会主义市场经济体制为目标
2. 到1987年,上海金融保险业贡献的GDP由1980年的7.02亿元,增长到34.04亿元,第三产业占国内生产总值的比重从10.87%上升到21.34%。对此,《上海通史》认为,上海金融保险业高速增长的根本原因是制度释放。“制度释放”的具体表现有 ( )
- ①经济特区的设立 ②城市经济体制改革的实行 ③沿海港口城市的开放  
④浦东的开发开放
- A. ②③                      B. ③④                      C. ①②                      D. ①④
3. 1984年初,邓小平为深圳特区题词:“深圳的发展和经验证明,我们建立经济特区的政策是正确的。”从此中国改革开放进入一个全新时期。此后中国开始 ( )
- A. 全面深化改革,设立自由贸易试验区  
B. 开放沿海城市,兴办经济技术开发区  
C. 着手加速建立社会主义市场经济体制  
D. 加入世界贸易组织,融入全球化进程
4. 1961年,中共中央农村工作部的一份报告指出:现在部分干部和农民对集体生产信心不足,以致发展到变相恢复单干,有的地方出现了“父子队”“兄弟队”式家庭作业。这则材料为例证,可用于说明 ( )
- A. 当时土地所有制发生改变                      B. 农业合作化运动的历史背景  
C. 当时国民经济调整成效显著                      D. 家庭联产承包责任制的起源

5. “可以划出一个有明确地域界线的区域,实行类似特区的政策……引进先进技术和科技项目,开发新产品,兴办新企业。同时,促进老企业的技术改造,优化经济结构,带动各自腹地经济的发展……”材料中的“区域”是 ( )
- A. 特别行政区  
B. 民族自治区  
C. 沿海经济开放区  
D. 浦东新区
6. 实行改革开放是决定当代中国命运的关键抉择,是基于改革开放 ( )
- ①推动中华民族实现由持续衰落到走向繁荣富强的伟大飞跃 ②推动中国人民迎来了从温饱不足到小康富裕的伟大飞跃 ③使得中华民族迎来了从站起来、富起来到强起来的伟大飞跃 ④是立国之本,实现了中国从几千年封建专制政治向人民民主的伟大飞跃
- A. ①②  
B. ②③  
C. ①④  
D. ③④
7. 习近平总书记强调:“改革开放是决定当代中国命运的关键一招,也是决定实现‘两个一百年’奋斗目标、实现中华民族伟大复兴的关键一招。”这说明 ( )
- A. 社会主义现代化建设必须以改革开放为中心  
B. 改革开放是兴国之要  
C. 改革开放是强国富民之路  
D. 社会主义的根本任务是进一步改革开放
8. “邓小平理论是当代中国的马克思主义”这一命题说明 ( )
- ①邓小平理论修正了马克思主义 ②邓小平理论是当代中国发展了的马克思主义 ③邓小平理论把马克思主义推向了一个新的阶段 ④邓小平理论是马克思主义与中国革命和建设的结合
- A. ①②  
B. ②③  
C. ①④  
D. ③④
9. 邓小平理论首要的基本理论问题是 ( )
- A. 什么是解放思想,怎样坚持解放思想  
B. 什么是实事求是,怎样坚持实事求是  
C. 什么是改革开放,怎样实施改革开放  
D. 什么是社会主义,怎样建设社会主义
10. 下列内容中,不属于“三个代表”重要思想的科学内涵的是 ( )
- A. 始终代表中国先进生产力的发展要求



- B. 始终代表中国先进科技的发展方向  
 C. 始终代表中国先进文化的前进方向  
 D. 始终代表中国最广大人民的根本利益
11. 伟大的时代需要伟大思想的领航,十九大通过了关于《中国共产党章程(修正案)》的决议。习近平新时代中国特色社会主义思想写入中国共产党章程,写在党的旗帜上。习近平新时代中国特色社会主义思想 ( )  
 ①顺应时代要求,体现了全党共同的心声 ②加深了对怎样建设社会主义的认识 ③丰富和发展了中国特色社会主义理论体系 ④开辟了社会主义事业发展的新时期  
 A. ①②                      B. ③④                      C. ①③                      D. ②④
12. 实现社会主义现代化、创造人民美好生活的必由之路是 ( )  
 A. 中国特色社会主义道路                      B. 中国特色社会主义理论体系  
 C. 中国特色社会主义制度                      D. 中国特色社会主义文化
13. 中国特色社会主义是不是好,要看 ( )  
 ①中国社会发展的事实 ②世界各国人民的判断 ③中国人民的判断 ④其指导思想是否科学  
 A. ①②                      B. ③④                      C. ①③                      D. ②④
14. 在当代中国,坚持和发展中国特色社会主义 ( )  
 ①主要任务是集中力量发展社会生产力,把落后的农业国变为先进的工业国  
 ②要坚定道路自信、理论自信、制度自信、文化自信 ③要根植于中国特色社会主义的伟大实践 ④要确立习近平新时代中国特色社会主义思想的领导核心地位  
 A. ①②                      B. ②③                      C. ①④                      D. ③④
15. 中国特色社会主义道路、理论、制度、文化相互联系、相互作用,统一于中国特色社会主义伟大实践。对此,下列表述正确的是 ( )  
 ①中国特色社会主义道路是必由之路 ②中国特色社会主义理论体系是强大精神力量 ③中国特色社会主义文化是正确的理论 ④中国特色社会主义制度是根本制度保障  
 A. ①②                      B. ①④                      C. ②③                      D. ③④

## 二、非选择题

16. 改革开放 40 多年来,中国人民实现了从站起来、富起来到强起来的历史性飞跃。但是,我们还面临许多困难和挑战。改革只有进行时,没有完成时。习近平总书记指出,改革开放是当代中国发展进步的必由之路,是实现中国梦的必由之路。我们要逢山开路,遇水架桥,将改革进行到底。

请结合中国特色社会主义的相关知识,分析新时代我们应如何在改革开放的征途中“逢山开路,遇水架桥,将改革进行到底”。

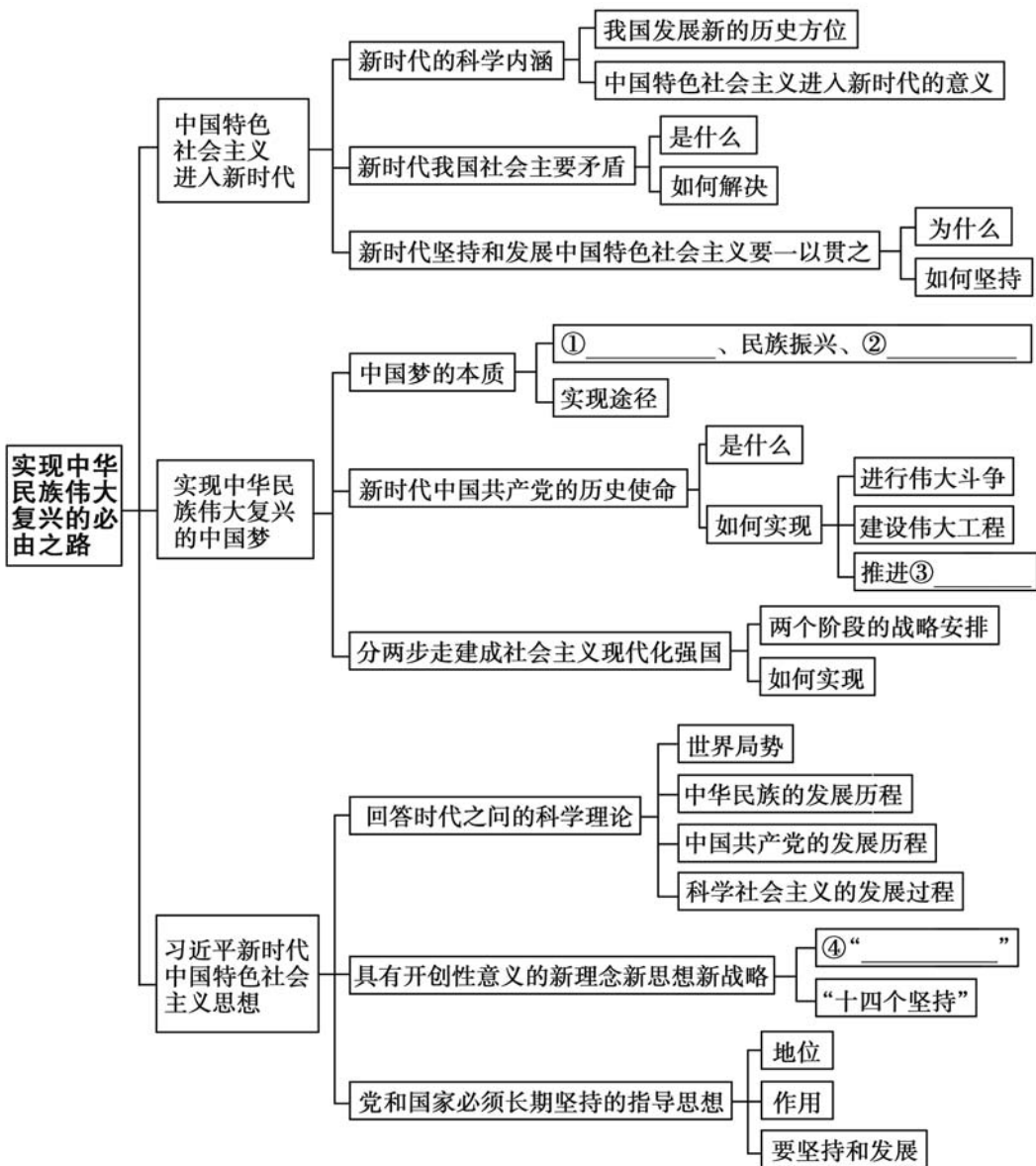
### 互动评价

	学习时间	作业质量	学习态度	学习效果	我的疑惑
自我评价		对 _____ 题 错 _____ 题	<input type="checkbox"/> 好 <input type="checkbox"/> 良好 <input type="checkbox"/> 一般	<input type="checkbox"/> 好 <input type="checkbox"/> 良好 <input type="checkbox"/> 一般	
家长评价					

# 主题四

## 实现中华民族伟大复兴的必由之路

### 知识回顾





典例精析

**【例1】**中国特色社会主义进入新时代,我国社会主要矛盾已由“人民日益增长的物质文化需要同落后的社会生产之间的矛盾”转化为“人民日益增长的美好生活需要和不平衡不充分的发展之间的矛盾”。下列对这一转化理解正确的是 ( )

①“不充分”是“不平衡”的客观基础,“不平衡”会加剧“不充分” ②我国社会生产力得到空前发展,社会创造力和发展活力大幅增强 ③统筹地区、城乡经济社会全面发展,让改革成果惠及全体人民 ④从“物质文化需要”到“美好生活需要”反映了当前人民需要的全面性

- A. ①②                      B. ①③                      C. ③④                      D. ②④

**【解析】**本题考查我们对我国社会主要矛盾转化的认识,侧重考查我们获取和解读信息的能力。①是对“不平衡”和“不充分”的关系的认识,不符合题意,排除。③是解决不平衡不充分问题的措施,不符合题意,排除。②④分别是分别从供给侧和需求侧角度来分析我国社会主要矛盾的转化,说法正确且符合题意。

**【答案】**D

**【例2】**习近平新时代中国特色社会主义思想的主要内容可以用“十个明确”和“十四个坚持”来表达。下列对“十个明确”和“十四个坚持”理解正确的是 ( )

①“十四个坚持”从思想层面回答了新时代坚持和发展什么样的中国特色社会主义 ②二者互为表里、相辅相成、辩证统一,分别回答了“是什么”和“怎么办”的问题 ③“十个明确”是“十四个坚持”的理论源头和旗帜方向 ④“十个明确”回答了我们在新的历史方位中,怎样坚持和发展中国特色社会主义

- A. ①②                      B. ①④                      C. ③④                      D. ②③

**【解析】**本题考查习近平新时代中国特色社会主义思想的主要内容。“十个明确”从思想层面回答了新时代坚持和发展什么样的中国特色社会主义,排除①;“十四个坚持”回答了我们在新的历史方位中,怎样坚持和发展中国特色社会主义,排除④。“十个明确”和“十四个坚持”相辅相成,②是对二者关系的正确表述,入选;“十个明确”是“十四个坚持”的理论源头和旗帜方向,③入选。

**【答案】**D

## 一、选择题

1. 习近平强调,无论将来中国怎么发展,都永远属于发展中国家,都会坚定支持广大发展中国家发展,都会继续致力于同大家发展紧密的伙伴关系。这要求 ( )  
 ①着力解决好发展不平衡问题,提升发展质量和效益 ②全党深刻认识我国是世界上最大的发展中国家的国际地位没有变 ③牢牢坚持中国共产党在社会主义初级阶段的基本路线 ④发扬奋斗精神,推动经济高速发展  
 A. ①②                      B. ③④                      C. ②③                      D. ①④
2. 建设“富强、民主、文明、和谐、美丽的社会主义现代化国家” ( )  
 ①与基本路线规定的党在社会主义初级阶段的奋斗目标相吻合 ②揭示了现阶段党和国家的中心工作 ③体现了社会主义的经济、政治、文化和社会全面发展的要求 ④体现了我国社会现阶段主要矛盾的变化  
 A. ①②                      B. ③④                      C. ①③                      D. ②④
3. 我们党在社会主义初级阶段的基本路线,可以概括为 ( )  
 ①以经济建设为中心 ②坚持四项基本原则 ③解放和发展生产力 ④坚持改革开放  
 A. ①②③                      B. ②③④                      C. ①③④                      D. ①②④
4. 建设现代化经济体系是紧扣新时代中国社会主要矛盾转化,落实中国特色社会主义经济建设布局的内在要求,也是适应中国经济由高速增长阶段转向高质量发展阶段,转变经济发展方式、转换发展动能和全面均衡发展的迫切需要。这表明 ( )  
 ①要大力提升发展质量和效益 ②当前我们应着力解决好发展不平衡不充分的问题 ③我国仍处于社会主义初级阶段的基本国情没有变 ④我国经济发展进入新时代,社会基本矛盾已经转化  
 A. ①②                      B. ①④                      C. ②③                      D. ③④
5. 长江经济带覆盖 11 个省市,人口和经济总量均超过全国的 40%。中共中央、国务院明确要求充分发挥长江经济带横跨东中西三大板块的区位优势,以生态优先、绿色发展为引领,推动长江上中下游地区协调发展和沿江地区高质量发展。长江经济带协同发展 ( )  
 A. 体现了新时代我国社会主要矛盾的要求

- B. 要牢牢立足社会主义高级阶段这个最大实际
- C. 是决胜全面建设小康社会的要求
- D. 能解决人民日益增长的物质文化需要同落后的社会生产之间的矛盾
6. 进入新时代,中华民族迎来伟大复兴重大机遇。伟大梦想不是等得来、喊得来的,而是拼出来、干出来的。由此可见,实现中华民族伟大复兴,必须 ( )
- ①进行伟大斗争 ②坚持实干兴邦,推进中国特色社会主义伟大事业 ③坚持以经济为中心的发展思想 ④保持经济高速增长
- A. ①②                      B. ③④                      C. ①③                      D. ②④
7. 伟大梦想是奋斗目标,伟大斗争是精神状态,伟大事业是必由之路,伟大工程是领导力量。“四个伟大”这一有机整体,统一于中国共产党治国理政的伟大实践之中。材料 ( )
- ①体现了“四个伟大”紧密联系、相互贯通、相互作用 ②表明“四个伟大”中起决定性作用的是党的建设新的伟大工程 ③要求确保党始终成为时代主题、民族脊梁和坚强核心 ④表明新时代中国共产党的历史使命是为中华民族谋复兴
- A. ①②                      B. ③④                      C. ①③                      D. ②④
8. 全面从严治党是有力推进“伟大斗争”“伟大事业”和如期实现“伟大复兴”的必然要求。只有全面从严治党,我们党才能带领人民全面深化改革和全面建成小康社会;只有全面从严治党,我们党才能涉险滩、下深水、啃下硬骨头。这要求我们党 ( )
- ①在应对国内外各种风险和考验的历史进程中始终成为全国人民的主心骨  
②在坚持和发展中国特色社会主义的历史进程中始终成为坚强的领导核心  
③在世界局势深刻变化的历史进程中始终走在时代前列,坚持对外开放  
④牢牢立足于社会主义初级阶段的基本国情,完善社会主义市场经济体制
- A. ①②                      B. ③④                      C. ①③                      D. ②④
9. 我国的阶段性发展目标是,\_\_\_\_\_基本实现社会主义现代化,达到中等发达国家水平。 ( )
- A. 2020年                      B. 2035年                      C. 2050年                      D. 2065年
10. “青年是标志时代的最灵敏的晴雨表”,一代青年有一代青年的历史际遇。当代青年的代际特征与新时代中国特色社会主义事业高度契合,为青年的成长成才提供了良好条件。这个条件包括 ( )
- ①中国特色社会主义进入新时代,这是青年成长成才的历史方位 ②新时代

的中国,迎来了从站起来、富起来到强起来的伟大飞跃 ③已经实现全面小康社会和全面建设社会主义现代化强国的目标 ④青年在思想政治状况、物质生活、精神生活等方面有很大进步

A. ①②                      B. ③④                      C. ①③                      D. ②④

11. 将习近平新时代中国特色社会主义思想写入党章,使其成为全党必须长期坚持的指导思想的会议是 ( )

A. 中国共产党第十九次全国代表大会  
B. 第十三届全国人民代表大会第一次会议  
C. 中国共产党第十九届中央委员会第一次全体会议  
D. 第十二届全国人民代表大会第五次会议

12. 时代是思想之母,实践是理论之源。对任何思想的认识和评价都依据于它对其赖以产生的那个时代及其特征的把握程度。习近平新时代中国特色社会主义思想产生的时代背景是 ( )

①中国特色社会主义进入新时代 ②当今世界危机四伏、乱象丛生 ③科学社会主义实现了从理论到现实的历史性飞跃 ④中国共产党执政面临新考验  
A. ①③                      B. ①④                      C. ②③                      D. ②④

13. 坚持党对一切工作的领导;坚持以人民为中心;坚持全面深化改革;坚持新发展理念……党的十九大提出的“十四个坚持”是 ( )

①新时代坚持和发展中国特色社会主义的基本方略 ②党中央治国理政的总方略 ③习近平新时代中国特色社会主义思想最为核心关键的组成部分 ④实现中华民族伟大复兴中国梦的“路线图”和“方法论”  
A. ①②                      B. ③④                      C. ①④                      D. ②③

14. 下列对习近平新时代中国特色社会主义思想与科学社会主义的关系的认识,正确的是 ( )

①习近平新时代中国特色社会主义思想是对时代所提出的重大实践和理论问题的科学回答 ②习近平新时代中国特色社会主义思想是中国特色社会主义理论体系的重要组成部分 ③习近平新时代中国特色社会主义思想极大地推动了科学社会主义在当今时代的原创性发展 ④习近平新时代中国特色社会主义思想从实践和理论的结合上丰富和发展了科学社会主义理论

A. ①②                      B. ③④                      C. ①③                      D. ②④



15. 下列对“十个明确”的地位认识正确的是 ( )

- ①“十个明确”是习近平新时代中国特色社会主义思想最为核心关键的组成部分  
 ②“十个明确”是支撑习近平新时代中国特色社会主义思想的“四梁八柱”  
 ③“十个明确”涵盖坚持党的领导和“五位一体”总体布局、“四个全面”战略布局  
 ④“十个明确”是实现中华民族伟大复兴中国梦的“路线图”和“方法论”

A. ①②                      B. ①④                      C. ②③                      D. ③④

## 二、非选择题

16. 党的十九大报告指出,中国特色社会主义进入新时代,我国社会主要矛盾已经转化为人民日益增长的美好生活需要和不平衡不充分的发展之间的矛盾。我国稳定解决了十几亿人的温饱问题,总体上实现了小康,不久将全面建成小康社会,人民美好生活需要日益广泛,不仅对物质文化生活提出了更高要求,而且在民主、法治、公平、正义、安全、环境等方面的要求日益增长。同时,我国社会生产力水平总体上显著提高,社会生产能力在很多方面进入世界前列,更加突出的问题是发展不平衡不充分,这已经成为满足人民日益增长的美好生活需要的主要制约因素。

社会主要矛盾转化集中反映出我国社会发展新的阶段性特征。运用所学知识,说明我党作出社会主要矛盾转化的正确判断有什么重要意义。

## 互动评价

	学习时间	作业质量	学习态度	学习效果	我的疑惑
自我评价		对 _____ 题 错 _____ 题	<input type="checkbox"/> 好 <input type="checkbox"/> 良好 <input type="checkbox"/> 一般	<input type="checkbox"/> 好 <input type="checkbox"/> 良好 <input type="checkbox"/> 一般	
家长评价					

## 假期总结测评卷

(思想政治)

满分:100分 时量:90分钟

### 一、选择题(每小题3分,共48分)

- “大道之行也,天下为公。”这是古代人们对人类社会历史进程的认识,提出了人类对美好社会的展望,把握了人类社会的最初阶段——原始社会没有剥削、没有压迫的本质。原始社会之所以没有剥削、没有压迫,根本原因在于 ( )  
 ①整个社会的生产力水平极端低下 ②原始人通过氏族议事会管理集体的事务  
 ③原始社会生产资料归集体所有 ④原始社会劳动对象范围狭窄、工具简陋  
 A. ①③                      B. ②③                      C. ①④                      D. ②④
- 资本主义社会,资本家与工人的关系,形式上是“自由”“平等”的买卖关系,而实质上是资本家支配和剥削工人的雇佣劳动关系。这表明资本主义生产关系的特点是 ( )  
 ①资本家占有一切生产资料 ②大规模使用机器制造机器 ③劳动者受雇于资本家 ④人们在工场劳动,分工协作  
 A. ①②                      B. ①③                      C. ③④                      D. ②③
- 文艺复兴时意大利政治思想家康帕内拉写有《太阳城》一书。书中的太阳城居民实行普遍的义务劳动,一切产品和财富均为公有,由公职人员分配。书中还提出劳动光荣,教育与劳动相结合的思想,主张对儿童进行普遍的社会教育。康帕内拉的这些思想深刻影响了 ( )  
 A. 理性主义思想                      B. 空想社会主义思想  
 C. 浪漫主义思想                      D. 西方社会福利思想
- 1917年俄国十月革命的胜利,开启了人类历史的新纪元,主要是因为它 ( )  
 ①标志着社会主义从理论变为现实 ②首次将马克思主义理论与工人运动相结合 ③是建立无产阶级专政的伟大尝试 ④建立了世界上第一个社会主义国家  
 A. ①②                      B. ③④                      C. ①④                      D. ②③
- 新民主主义革命是无产阶级领导的,工农联盟为基础的,人民大众的,反对帝国主义、封建主义和官僚资本主义的民主革命。新民主主义革命的“新”主要体现在革命 ( )  
 ①不是由资产阶级领导,而是由无产阶级领导 ②是反帝反封建的资产阶级民

- 主革命 ③指导思想是马列主义、毛泽东思想和邓小平理论 ④是属于世界无产阶级革命的一部分
- A. ②④                      B. ②③                      C. ①③                      D. ①④
6. 从中华人民共和国成立到社会主义改造基本完成,是我国从新民主主义到社会主义的过渡时期。这一时期中国社会的主要矛盾逐渐转变为 ( )
- ①工人阶级与资产阶级之间的矛盾 ②社会主义道路与资本主义道路之间的矛盾 ③人们对美好生活的需要与发展不平衡不充分之间的矛盾 ④无产阶级和封建主义、官僚资本主义之间的矛盾
- A. ①②                      B. ②③                      C. ③④                      D. ①③
7. “社会主义好,社会主义好!社会主义国家人民地位高……全国人民大团结,掀起了社会主义建设高潮。”我国进入社会主义社会的标志是 ( )
- ①中华人民共和国的成立 ②第一个五年计划的完成 ③我国“三大改造”的完成 ④生产资料私有制的社会主义改造取得了决定性的胜利
- A. ①②                      B. ②③                      C. ③④                      D. ①③
8. 党的八大是新中国成立后我们党召开的第一次全国代表大会。这次大会最重要的贡献是 ( )
- ①规定了我国的基本政治制度、经济制度和文化制度 ②对三大改造基本完成后中国社会的主要矛盾作出了规定 ③对三大改造基本完成后中国社会的根本任务作出了规定 ④为当代中国一切发展进步奠定了根本政治前提和制度基础
- A. ①②                      B. ②③                      C. ③④                      D. ①③
9. 党的十八大以来,改革开放进入新时代。2013年召开的十八届三中全会作出全面深化改革的重要部署,提出 ( )
- ①要使市场在资源配置中发挥决定性作用 ②建立社会主义市场经济体制目标 ③建立全方位、多层次、宽领域的对外开放格局 ④更好发挥政府作用,全面深化改革取得重大突破
- A. ①②                      B. ②③                      C. ②④                      D. ①④
10. 道路问题是关系党的事业兴衰成败第一位的问题,道路就是党的生命。以下符合中国特色社会主义道路要求的是 ( )
- ①解放和发展社会生产力,建设社会主义市场经济 ②促进人的全面发展,建

设社会主义和谐社会 ③实现全体人民同步富裕,发展成果由人民共享

④坚持中国共产党领导的多党合作和政治协商制度

A. ①③                  B. ①②                  C. ②④                  D. ③④

11. 中国特色社会主义进入新时代,在中华人民共和国发展史上、中华民族发展史上、世界社会主义发展史上,都具有重大意义。这一重大政治论断意味着

( )

①中华民族迎来了从站起来、富起来到强起来的伟大飞跃 ②中华民族迎来了实现中华民族伟大复兴的光明前景 ③中国特色社会主义道路、革命、建设、改革不断发展 ④科学社会主义在 21 世纪的中国开始焕发生机活力

A. ①②                  B. ①③                  C. ②④                  D. ③④

12. “中国特色社会主义进入了新时代,我国的社会主要矛盾已经转化为人民日益增长的美好生活需要和不平衡不充分的发展之间的矛盾。”这一论断的提出有着充分的现实依据,表现在

( )

①新时代人民美好生活需要日益广泛 ②我国社会生产力水平总体上显著提高 ③我国已经走出了社会主义初级阶段 ④我国产品供给处于供给充足且过剩状态

A. ①②                  B. ②③                  C. ①④                  D. ③④

13. 一以贯之坚持和发展中国特色社会主义,需要眺望未来,看一看新时代中国特色社会主义的历史走向和发展趋势,深刻把握其科学内涵,深入理解中国特色社会主义进入新时代所产生的重要影响和具有的重大意义。对中国特色社会主义进入新时代所产生的重要影响,认识正确的有

( )

①拓展了发展中国家走向现代化的途径 ②给世界各国和民族发展提供了全新选择 ③为解决人类问题贡献了中国智慧和方案 ④使中国日益走近世界舞台中央,成为全球发展主导者

A. ①②                  B. ②④                  C. ①③                  D. ③④

14. 在革命、建设、改革各个时期,我们党都高度重视党的政治建设,形成了讲政治的优良传统。旗帜鲜明讲政治是中国共产党的优良传统,新时代加强党的政治建设

( )

①是决定当代中国命运的关键一招 ②是党的根本性建设,决定党的建设方向和效果 ③能进一步确立中国共产党的领导和执政地位 ④能为实现中华



中华民族伟大复兴的中国梦提供坚强政治保证

- A. ①③                  B. ①④                  C. ②③                  D. ②④

15. 实现新时代中国特色社会主义发展的战略安排,我们要 ( )

①贯彻发展理念,建设现代化经济体系 ②健全人民民主制度体系,发展社会主义民主政治 ③坚定文化自信,推动社会主义文化繁荣兴盛 ④提高保障和改善民生水平,加强和创新社会治理

- A. ①②                  B. ②④                  C. ①③                  D. ③④

16. 习近平新时代中国特色社会主义思想内容十分丰富,涵盖改革发展稳定、内政外交国防、治党治国治军等各个领域、各个方面,构成了一个系统完整、逻辑严密、相互贯通的思想理论体系。下列选项中,属于这一思想的是 ( )

①一个中心,两个基本点 ②以人为本,全面协调可持续发展 ③推动构建人类命运共同体 ④坚定道路自信、理论自信、制度自信、文化自信

- A. ①②                  B. ②③                  C. ①④                  D. ③④

## 二、非选择题(共 52 分)

17. (12 分)进入封建社会后,经济的发展、科技文化的繁荣,使封建社会生产力的发展迈上了一个新的台阶。

运用所学知识分析出现这种现象的原因。

18. (12分)恩格斯在《反杜林论》中阐述了科学社会主义产生的历史过程,指出唯物辩证法使马克思作出了唯物史观和剩余价值学说这两大发现,而两大发现又使社会主义学说从空想变成了科学。文中还指出:“这种历史情况也决定了社会主义创始人的观点。不成熟的理论是和不成熟的资本主义状况、不成熟的阶级状况相适应的。”

材料中“不成熟的理论”指什么?根据上述结论简述科学社会主义诞生的历史条件。

19. (14分)1978年12月,我们党召开了具有重大历史意义的十一届三中全会,由此开始了建设中国特色社会主义的新征程。40多年的不断探索,40多年的努力奋斗,40多年的伟大实践,才有了今天的辉煌成就,我们的国家、我们的党、我们的人民都发生了巨大的变化,中国经济高速增长,社会主义民主政治展现出旺盛的生命力,中国特色社会主义文化建设繁荣发展,人民生活不断改善,和谐社会建设成效显著,国际影响力日益提升。40多年的实践证明,改革开放是发展中国特色社会主义、实现中华民族伟大复兴的必由之路。

(1)党的十一届三中全会作出了什么重大决策?(6分)

(2)结合材料,说明改革开放是实现中华民族伟大复兴的必由之路的正确性。

(8分)

20. (14分) 中国梦,生动地表达了人民的共同理想,形象地描绘了国家富强、民族振兴、人民幸福的美好蓝图。中国梦是融国家追求、民族向往和人民期盼为一体的伟大梦想,集中体现了中华民族和中国人民的整体利益,深刻表达了中华儿女的共同心愿,是凝聚党心民心、激励我们党和人民为建成社会主义现代化强国而奋斗的强大精神力量。中国梦是国家的梦、民族的梦,同时也是每一个中国人的梦。

结合材料,谈谈你对“中国梦是国家的梦、民族的梦,同时也是每个中国人的梦”的理解。

## 互动评价

	学习时间	作业质量	学习态度	学习效果	我的疑惑
自我评价		对_____题 错_____题	<input type="checkbox"/> 好 <input type="checkbox"/> 良好 <input type="checkbox"/> 一般	<input type="checkbox"/> 好 <input type="checkbox"/> 良好 <input type="checkbox"/> 一般	
家长评价					

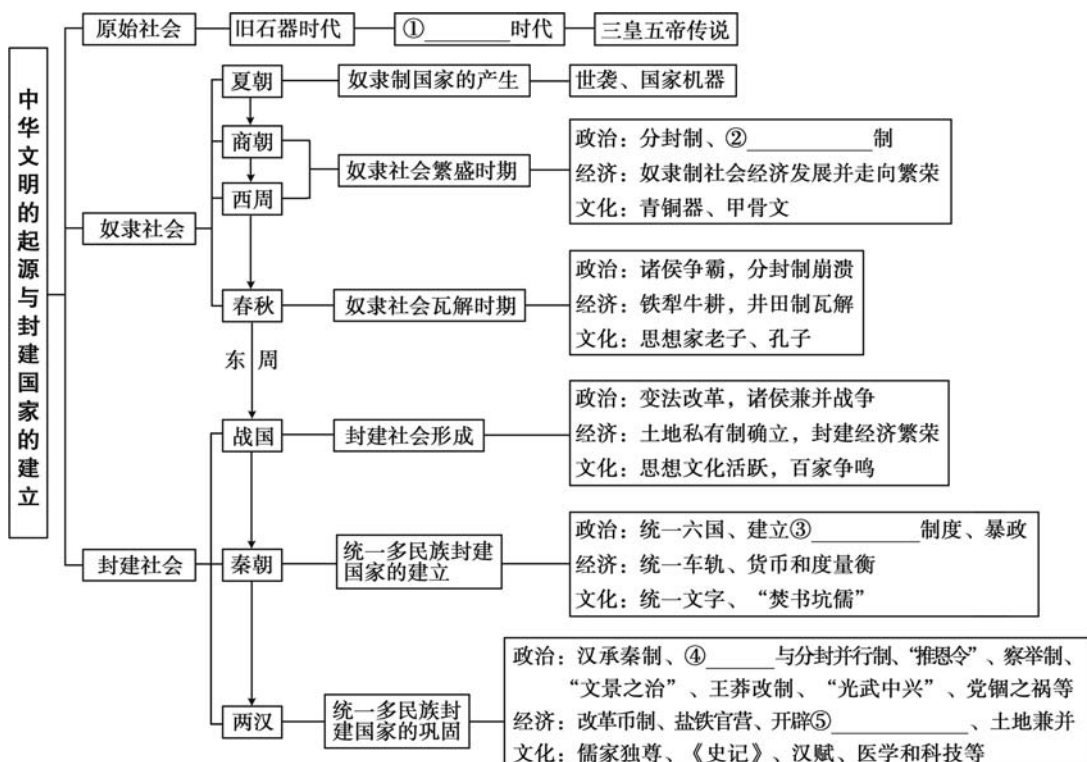
# 历史

**假日导学** “温故而知新，可以为师矣。”为了让同学们在假期里更轻松高效地学习，提高假期生活品质，我们根据历史学科的特点，精心设计了涵盖上学期学习重点的7个主题，每个主题按“知识回顾—典例精析—学以致用”的编排体系呈现，希望能帮助同学们有重点地对所学知识进行系统梳理和有机整合，做到温故而知新。同学们根据实际情况，科学合理地安排好每天的学习与生活。愿《假日知新》陪伴同学们度过一段快乐如歌的缤纷假期！

## 主题一

### 中华文明的起源与封建国家的建立

#### 知识回顾







**【例 1】**现藏于上海博物馆的西周大克鼎被誉为“国之重器”。史载西周“天子九鼎,诸侯七鼎,卿大夫五鼎,士三鼎或一鼎”。它反映的实质问题是 ( )

- A. 西周有严格的等级制度  
B. 西周青铜器数量比较少  
C. 西周的冶铜业十分落后  
D. 西周的经济的发展不平衡

**【解析】**由材料“天子九鼎,诸侯七鼎,卿大夫五鼎,士三鼎或一鼎”可知,西周有严格的等级制度,故选 A 项;题干材料看不出青铜器数量的多少和冶铜业是否发达,B、C 两项错误;题干材料与经济发展不平衡无关,D 项错误。

**【答案】**A

**【例 2】**古人对秦朝短命而亡的原因分析,最接近史实的是 ( )

- A. “废先王之道,焚百家之言,以愚黔首(百姓)。”  
B. “秦灭四维(指礼义廉耻)而不张,故君臣乖乱,六亲殃戮,奸人并起,万民离叛。”  
C. “所以殄灭而降辱者,六王之后也。”  
D. “内兴功作,外攘夷狄,收泰半之赋,发闾左之戍。”

**【解析】**D 项指的是赋税沉重,徭役、兵役繁多,体现的是秦的暴政,是秦速亡的主要原因。

**【答案】**D

**【例 3】**阅读下列材料,回答问题。

材料 子曰:“道之以政,齐之以刑,民免而无耻;道之以德,齐之以礼,有耻且格。”

——《论语·为政》

“不仁而得国者,有之矣;不仁而得天下者,未之有也。”“民为贵,社稷次之,君为轻。”

——《孟子·尽心章句下》

根据材料,指出孔子和孟子思想的异同。结合所学知识评价两人的主要思想。

**【解析】**根据材料中孔子和孟子的主张可以得出,相同点是二人都反对暴政,以民为本。不同点是孔子主张“克己复礼”,以礼治国;孟子主张仁政和“民贵君轻”。评价应紧扣孔子和孟子所处的时代背景和阶级立场分析。

**【答案】**相同点:都主张仁政,重视道德教化。不同点:孔子主张维持周礼,而孟子要求重新调整社会关系,提出“民贵君轻”。

评价:孔子的思想反映了奴隶主贵族面对春秋时期诸侯争霸、礼崩乐坏、社会矛盾尖锐的局面,希望缓和社会矛盾,继续维护奴隶主统治的愿望;战国时期的孟子主张仁政和“民贵君轻”,反映了新兴地主阶级要求提高政治地位、调和社会矛盾、改造社会的愿望。



## 一、选择题

- 西周的国家格局与商代颇为相似,商代方国林立,西周则有许多诸侯国。然而,商代的方国多是依靠自己的力量发展起来的,西周的诸侯国则多是通过分封制建立起来的,这就决定了 ( )
  - 商王位卑与方国首领地位平等
  - 周王能够完全控制各个诸侯国
  - 商周两代行使王权的强弱差异
  - 血缘关系开始影响国家的政权
- 《礼记·王制》中有西周“田里不鬻(卖)”的记载。后在恭王三年(前 920 年)制作的卫禾皿上发现“贮”字,并释义为“贾、价、租典、特殊的土地易手”等。该现象 ( )
  - 丰富了井田制研究的视角
  - 质疑了《礼记·王制》的真伪
  - 进一步证实铁犁牛耕的成因
  - 证实了宗法制和分封制的存在
- 汉武帝时,朝廷制作出许多一尺见方的白鹿皮,称为“皮币”,定价为 40 万钱一张。诸侯王参加献礼时,必须购皮币用来置放礼物,而当时一个“千户侯”一年的租税收入约为 20 万钱。朝廷这种做法 ( )
  - 加强了货币管理
  - 确立了思想上的统一
  - 削弱了诸侯实力
  - 实现了对地方的控制

4. 孔子教导弟子:礼不只是行为方式,还必须包含对君主的尊敬、对朋友的信义、对死者的追慕等真情;读书识字,更要从中学到政治的理想、胜利者的圣德、失败者的愚蠢行为,并应用于实践。由此看来,孔子教学 ( )
- A. 注重实用才能与德育相结合                      B. 注重礼、文字与实践结合
- C. 坚持古代优秀文化教育                          D. 适应当时的社会功利现实
5. 《墨子》中有关于“圆”“直线”“正方形”“倍”的定义,对杠杆原理、声音传播、小孔成像等也有论述,还有机械制造方面的记载。这反映出,《墨子》 ( )
- A. 汇集了诸子百家的思想精华                      B. 形成了完整的科学体系
- C. 包含了劳动人民智慧的结晶                      D. 体现了贵族阶层的旨趣
6. 秦汉时期,面对农耕民族与游牧民族间的冲突,为了保卫自己的文明系统,帝国采取“用制险塞”的隔绝固守与“导途凿空”的外拓互通并举之策。这表现在 ( )
- A. 联络西域、夹击匈奴、通婚和亲                      B. 北讨匈奴、南征北战、开凿灵渠
- C. 修建驿道、收复河套、开发象郡                      D. 构筑长城、通使西域、开辟丝路
7. “竹帛烟销帝业虚,关河空锁祖龙居。坑灰未冷山东乱,刘项原来不读书。”该诗中提到的秦朝的历史事件是 ( )
- A. 统一六国,焚书坑儒                                  B. 政治改革,平定山东
- C. 焚书坑儒,农民起义                                  D. 农民起义,刘项文盲
8. 下列科技成就中,深刻影响人类文明进程的是 ( )
- A. 蔡伦改进造纸术    B. 张衡发明地动仪
- C. 华佗发明麻沸散    D. 关于日食的记录

## 二、非选择题

9. 阅读下列材料,回答问题。

材料一 下列为反映春秋战国时期社会经济变化的一组图片。



铁制农具

图一



图二



记载田租的竹筒

图三


**材料二** 令民为什伍，而相收司连坐。不告奸者腰斩，告奸者与斩敌首同赏，匿奸者与降敌同罚……有军功者，各以率受上爵……僇(勑)力本业，耕织致粟帛多者复其身。事未利及怠而贫者，举以为收孥(官奴婢)。宗室非有军功论，不得为属籍。明尊卑爵秩等级，各以差次名田宅，臣妾衣服以家次……而集小都乡邑聚为县，置令、丞，凡三十一县。为田开阡陌封疆，而赋税平。平斗桶权衡丈尺。

——摘自《史记·商君列传》

(1)材料一反映了春秋战国时期哪些史实？

(2)根据材料二，指出商鞅变法的措施，并简评这些措施的历史作用。

(3)指出材料二与材料一两个历史事件之间的内在联系。

 互动评价

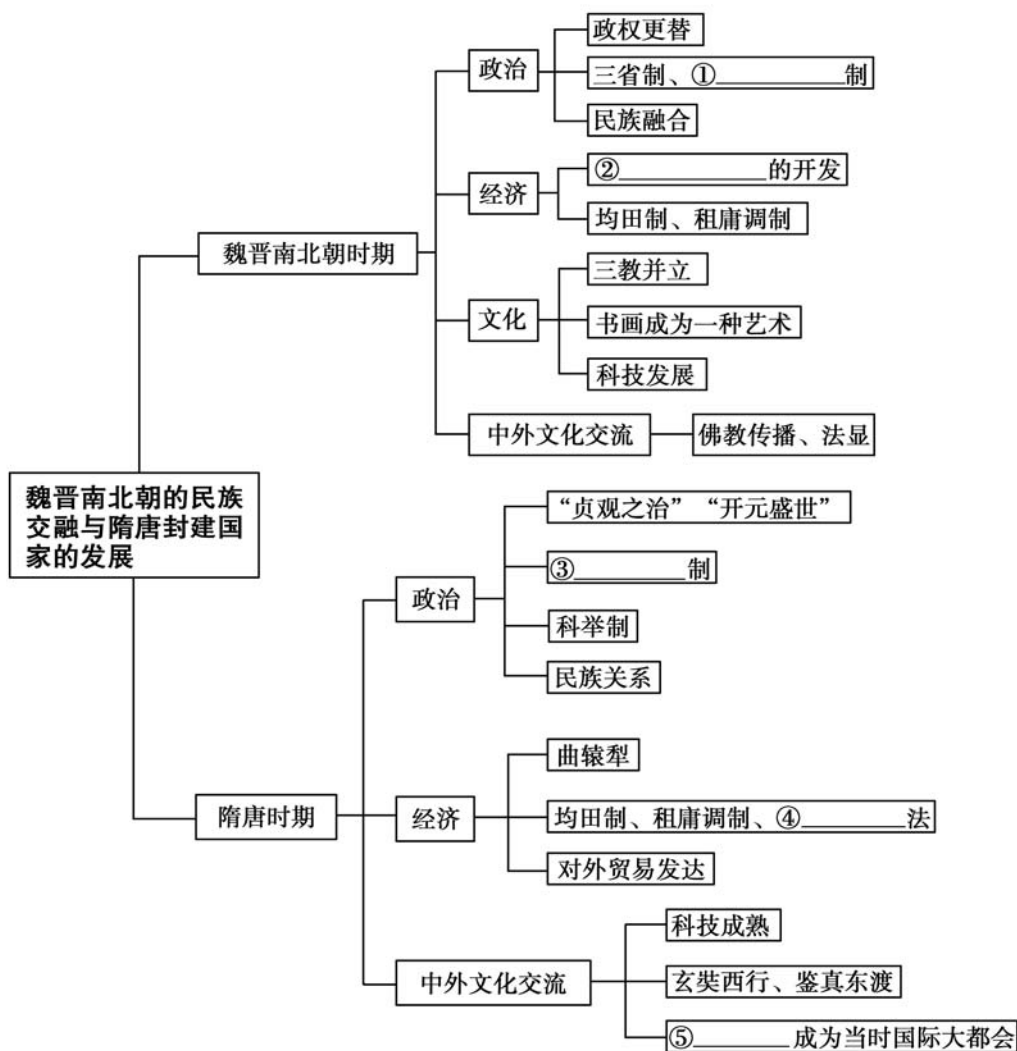
	学习时间	作业质量	学习态度	学习效果	我的疑惑
自我评价		对_____题 错_____题	<input type="checkbox"/> 好 <input type="checkbox"/> 良好 <input type="checkbox"/> 一般	<input type="checkbox"/> 好 <input type="checkbox"/> 良好 <input type="checkbox"/> 一般	
家长评价					



主题二

魏晋南北朝的民族交融与隋唐封建国家的发展

知识回顾



## 典例精析

**【例 1】**唐蕃和亲促进了汉藏经济文化交流,唐蕃会盟使唐蕃间基本上停止了纷争。唐与吐蕃“和同为一家”是指 ( )

- A. 唐朝实现了对吐蕃的有效管辖
- B. 汉藏两族的融合进程大为加快
- C. 唐蕃之间建立了牢不可破的军事同盟
- D. 唐蕃之间的友好关系得到了巩固

**【解析】**唐蕃会盟后唐蕃双方为甥舅关系,双方友好的关系得到了巩固,故选 D 项;唐蕃不是上下级管理关系,排除 A 项;唐蕃友好的经济文化交流并不能加快两族的融合,排除 B 项;C 项说法与史实不符,排除。

**【答案】**D

**【例 2】**武则天时期,将中书、门下二省名称分别改为凤阁、鸾台,通过加授“同凤阁鸾台平章事”头衔,使低品级官员得以与凤阁、鸾台长官共同议政。宰相数量大增,且更替频繁。这一做法的目的是 ( )

- A. 扩大中书、门下二省的职权
- B. 为官员提供迅速晋升的机会
- C. 便于实现对朝政的全面控制
- D. 强化宰相参政议政职能

**【解析】**在中书、门下省中增加低品级官员入职的宰相数量,是为了牵制以前身居高位的宰相权力,从而进一步分散弱化相权,以加强皇帝对朝政的控制,故选 C 项;中书、门下二省名称的变化和宰相数量的增加,都没有改变二省的职权范围,排除 A 项;题干中的措施客观上为某些官员提供了迅速晋升的机会,但不是实行该措施的目的,排除 B 项;在中书、门下省中增加低品级官员入职的宰相数量,进一步分散弱化了相权,排除 D 项。

**【答案】**C

**【例 3】**阅读下列材料,回答问题。

**材料一** 每州各取大历中一年科率钱谷数最多者,便为两税定额,此乃采非法之权令以为经制,总无名之暴赋以立恒规。

——陆贽

**材料二** 国家定两税,本意在忧人。厥初防其淫,明敕内外臣:税外加一物,皆以枉法论。奈何岁月久,贪吏得因循。浚我以求宠,敛索无冬春。织绢未成匹,缣丝未盈斤。里胥迫我纳,不许暂逡巡……昨日输残税,因窥官库门:缿帛如山积,丝絮似云屯。号为羨馀物,随月献至尊。夺我身上暖,买尔眼前恩。进入琼林库,岁久化为尘。

——白居易《重赋》

(1)根据材料一、二,分别概括关于两税法观点。

(2)根据材料和所学知识,谈谈你对两税法的认识。

**【解析】**(1)根据材料一“采非法之权令以为经制,总无名之暴赋以立恒规”和材料二“贪吏得因循”“夺我身上暖,买尔眼前恩”等信息分析作答即可。(2)综合两则材料并结合所学知识回答,只要言之成理即可。

**【答案】**(1)材料一认为两税法在实施的过程中制度欠缺,增加了人民的负担。材料二认为政府连年增税、钱重物轻;吏治昏庸,加重了人民负担。

(2)认识:两税法保证了政府的财政收入,减轻了政府对农民的人身控制;但地主千方百计地把赋税转嫁到农民身上,使农民的负担更加沉重。

## 学以致用

### 一、选择题

- 我们现在坐的方凳、圆凳,吃的烧饼、蒸馍等,都是我国古代民族交融的产物。极大地促进了北魏时期我国北方民族交融的是 ( )  
A. 张骞通西域      B. 人口大量南迁      C. 江南的开发      D. 孝文帝改革
- 《旧唐书》载:“文武将吏,擅自署置,贡赋不入于朝廷。虽称藩臣,实非王臣。”对材料的理解,正确的是 ( )  
A. 反映了方国对中央的威胁  
B. 反映了“天下共主”地位受到地方势力冲击  
C. 反映了藩镇割据威胁到中央集权  
D. 反映了藩镇问题得到解决
- 钱穆在《国史新论》中说:“汉代宰相是首长制,唐代宰相是委员制。”这反映的实质问题是 ( )  
A. 汉代宰相位高权重      B. 唐代宰相权力下降  
C. 皇权不断加强      D. 宰相数量逐渐增加

4. 道教产生于东汉末年,并成为黄巾起义的工具。而东晋道教代表人物葛洪认为黄巾军领袖张角“诳眩黎庶,纠合群愚……招集奸党,称合逆乱”;同时强调“道者,儒之本也;儒者,道之末也”,信道求仙者应“以忠孝和顺仁信为本”。葛洪的主张 ( )
- A. 体现了“三教合一”的趋势  
B. 有利于社会的和谐发展  
C. 反映了下层民众的诉求  
D. 动摇了儒学的统治地位
5. 史书记载:“居人之税,秋、夏两征之,俗有不便者正之。”这一税法实施的直接原因是 ( )
- A. 土地兼并之风盛行  
B. 均田制被破坏  
C. 租庸调制无法维持  
D. 封建经济发展
6. 据《爱日斋丛抄》载:“大概唐末渐有印书,特未能盛行,遂以为始于蜀也。当五季乱离之际,经籍方有托而流布于四方,天之不绝斯文,信矣!”这说明 ( )
- A. 唐代雕版印刷术已得到普遍使用  
B. 活字印刷的书籍逐渐得到了推广  
C. 学术文化的传播仅依靠手抄书籍  
D. 雕版印刷术的进步促进文化发展

## 二、非选择题

7. 唐朝社会繁荣开放,唐是当时世界上最强盛的国家之一。阅读下列材料,回答问题。

**材料一** (隋唐开始的)科举选官制度,使一些本来无立锥之地的平民书生,通过科场也得以晋身于官僚、贵族的行列,其中包括一大批极为出色的、有着高度文化素养的政治家和行政管理专家。这样一来,在社会的等级阶层之间,也就必然会出现等级中的升降,甚至贵贱间的对流,这种流动性同时为那些原来既非官僚也不是地主的人步入官僚队伍,提供了可能性。

——摘编自胡平《试论科举对中国古代政治制度的影响》

**材料二** 唐朝以来海上丝绸之路以中国的扬州、明州(宁波)、泉州、番禺(广州)为起点。丝绸之路不仅仅运输丝绸,而且也运输瓷器、糖、五金等出口货物和香料、药材、宝石等进口货物。海上丝绸之路形成主要是因为中国东南沿海山多平原少,内部往来不易,因此许多人便积极向海上发展。

——摘编自李庆新《海上丝绸之路》



**材料三** 唐政府有太常寺等机构专管乐舞,当时知名的音乐家有万宝常、许和子、段善本,舞蹈家有公孙大娘、段旻等。唐玄宗和杨贵妃也分别是音乐家和舞蹈家。乐舞方面的著作也很多,《新唐书·艺文志》载唐代有 31 家、38 部专著共 257 卷。唐太宗贞观十四年,形成十部乐,即燕乐、清商乐、西凉乐、天竺乐、高丽乐、龟兹乐、安国乐、疏勒乐、康国乐、高昌乐。

——摘编自张岂之主编《中国历史·隋唐辽宋金卷》

(1)根据材料一并结合所学知识,概括科举制对中国古代政治的影响。

(2)根据材料二,概括唐朝海上丝绸之路的特点及兴盛的原因。

(3)材料三反映了唐朝哪一社会现象?造成这一现象的原因有哪些?

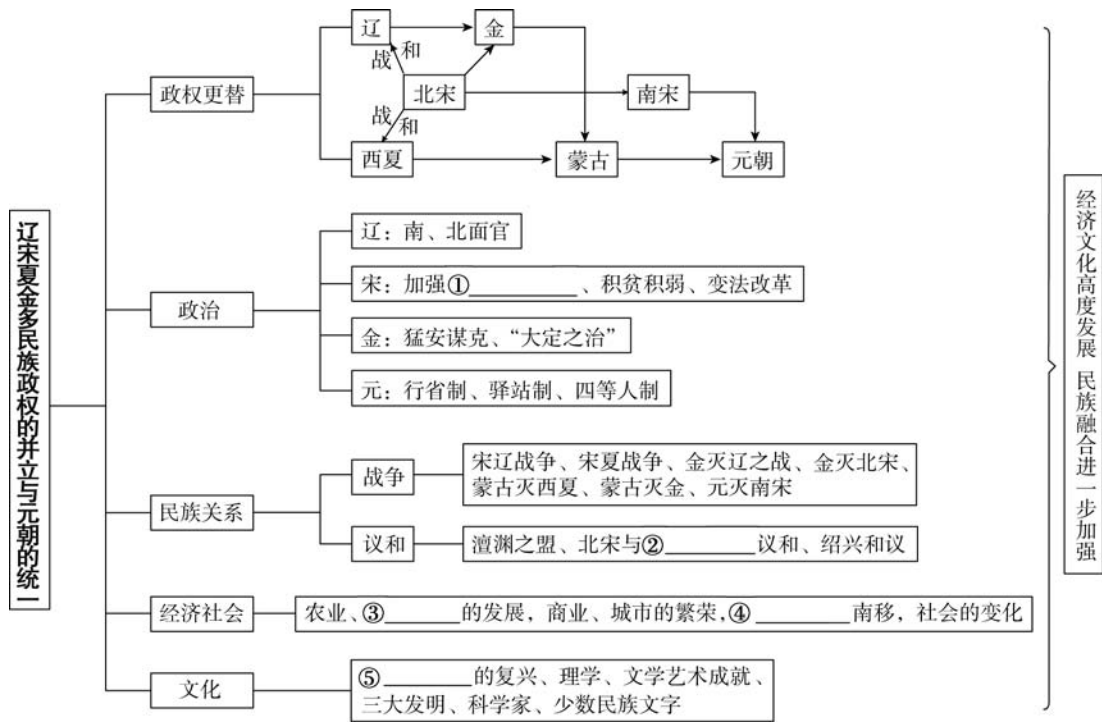


### 互动评价

	学习时间	作业质量	学习态度	学习效果	我的疑惑
自我评价		对_____题 错_____题	<input type="checkbox"/> 好 <input type="checkbox"/> 良好 <input type="checkbox"/> 一般	<input type="checkbox"/> 好 <input type="checkbox"/> 良好 <input type="checkbox"/> 一般	
家长评价					

# 主题三 辽宋夏金多民族政权的并立与元朝的统一

## 知识回顾



## 典例精析

【例 1】司马光评价王安石变法时说：“中户以下大抵乏食……而州县之吏督迫青苗、助役钱不敢少缓，鞭笞縲继唯恐不迨。”司马光的说法 ( )

- A. 完全是保守势力的政治攻击
- B. 实事求是地反映了现实问题
- C. 既是政治攻击，也反映了客观问题
- D. 只是代表了其个人的偏见

**【解析】**司马光的评价是政治攻击,但也在一定程度上反映了新法的负面影响:实行过程中加重了百姓的负担,用人不善,导致青苗法变质为官府放高利贷的苛政。故 C 项正确。

**【答案】**C

**【例 2】**元代推行行省制,设河南行省统辖黄河以南和长江以北的广大地区,但在黄河下游则以沂蒙山南麓为界与中书省直辖区“腹里”相邻;将江西、广东合为江西行省,治所在南昌;将湘、鄂、桂并入湖广行省,治所设于武昌。这一规划和设置 ( )

- A. 体现了“山河形便”的习惯做法      B. 有助于加强中央对地方的控制  
C. 保障了蒙古贵族的统治特权      D. 是对南宋统治区实施的特殊政策

**【解析】**元代的行省划界不利于地方割据,有利于中央集权的加强,故选 B 项;行省制打破了以往依据山河等自然因素划分行政区的做法,故 A 项错误;题干材料未体现特权与政策的特殊性,C、D 两项错误。

**【答案】**B



### 一、选择题

- 北宋统治者为了“息天下之兵”采取的措施,不包括 ( )
 

A. “杯酒释兵权”,解除功臣兵权      B. 将调兵权与统兵权分离  
C. 编制禁军,拱卫京师      D. 三分相权,互不统属
- 《大夏国葬舍利碣铭》为西夏碑铭,记载了元昊为安放佛舍利而建造连云宝塔之事。碑文由元昊重臣汉人张陟署名“右仆射兼中枢侍郎平章事臣张陟奉制撰”,由此可以得出的结论是 ( )
 

A. 元昊所用臣僚均为汉族儒士      B. 西夏的相权威胁皇权  
C. 西夏以宗教维系上下级关系      D. 西夏仿宋建立官制
- “山外青山楼外楼,西湖歌舞几时休? 暖风熏得游人醉,直把杭州作汴州。”该诗反映的时代背景应该是 ( )
 

A. 宋辽对抗      B. 南宋与金对峙  
C. 宋夏和议      D. 北宋与金对峙

4. 元朝委派官员到各地署事,行使中书省职权。在距离省治较偏远的地区,分道设宣慰司,处理当地军民事务,且多选用土官任职。对此材料理解正确的是( )
- A. 反映了国内各民族的大融合      B. 行省是元朝管辖地方的唯一机构  
C. 行省长官多为汉人并且掌握实权      D. 中央加强了对地方的有效管理
5. 金朝制度基本沿袭唐宋,但却保持了一套女真民族的管理系统。金朝猛安谋克制度的性质是( )
- A. 民族部落组织      B. 兵民合一制度  
C. 地方行政组织      D. 军事组织
6. “秦汉以前,西北壮而东南稚也。魏晋而下,壮者之齿益衰,稚者之年方长。至于宋朝,而壮者已老,稚者已壮矣!”造成以上经济现象的主要原因是( )
- A. 北方地区经过长期开发而资源耗竭      B. 人口和生产技术不断向南方迁移  
C. 政治中心由西北地区转向东部地区      D. 海上丝绸之路取代了陆路丝绸之路
7. 《马可·波罗行纪》在介绍中国时说:大汗国中,商人所至之处,用此纸币以给赏用,以购商物,以取其货物之售价,竟与纯金无别。这一记载佐证了( )
- A. 宋朝南方商业的繁荣      B. 元朝商品经济的发展  
C. 宋代繁华的都市生活      D. 宋元海外贸易的发达
8. 在南宋临安,街头吆喝,小贩叫卖,勾栏表演,汴京话声声入耳。杭州杂剧,以中原音韵为主,杂以杭州土语。徽州婺源灵祠在杭州有7个行祠。受市民喜爱的济公和尚是一名来自天台山的外来和尚。上述现象反映了南宋临安( )
- A. 娱乐文化日益商品化与市场化      B. 本地区的文化日趋式微  
C. 娱乐文化由特权化趋向大众化      D. 移民特性影响城市文化特色

## 二、非选择题

9. 阅读下列材料,回答问题。

**材料** 宋代城市功能由单一的维护封建统治的堡垒,日趋走向多样化,它的社会、商业贸易、文化消费等功能日益显露出来。最明显的就是城市生活由原来只为统治集团、贵族官僚服务开始面向下层,面向一般市民生活需求,史载,“今闾阎之卑,倡优之贱,男子服带犀玉,妇人涂饰金珠,尚多僭侈,未合古制”。城市突破了居民区和商业区的区分,中世纪前期的城市管理制度“坊市






制”被十分发达的“厢坊制”所取代,到南宋中叶,不少城市又演变为“偶巷(坊)制”,坊不再是封闭式的居民区,实际上是商业与居住混杂在一起的街区。南方以自然经济区域为范围,以经济发展为驱动力,推动交通、人文方面的发展,形成一个个独具风格和特色的多功能城市,走上了经济型城市的发展道路。正是这场宋代的“城市革命”,推动了封建城市规划的变革,中国城市的发展,开始了多元化的道路。

——摘编自吴刚《中国古代的城市生活》

(1)根据材料,概括宋代“城市革命”的主要表现。

(2)根据材料并结合所学知识,简析宋代“城市革命”发生的主要原因。

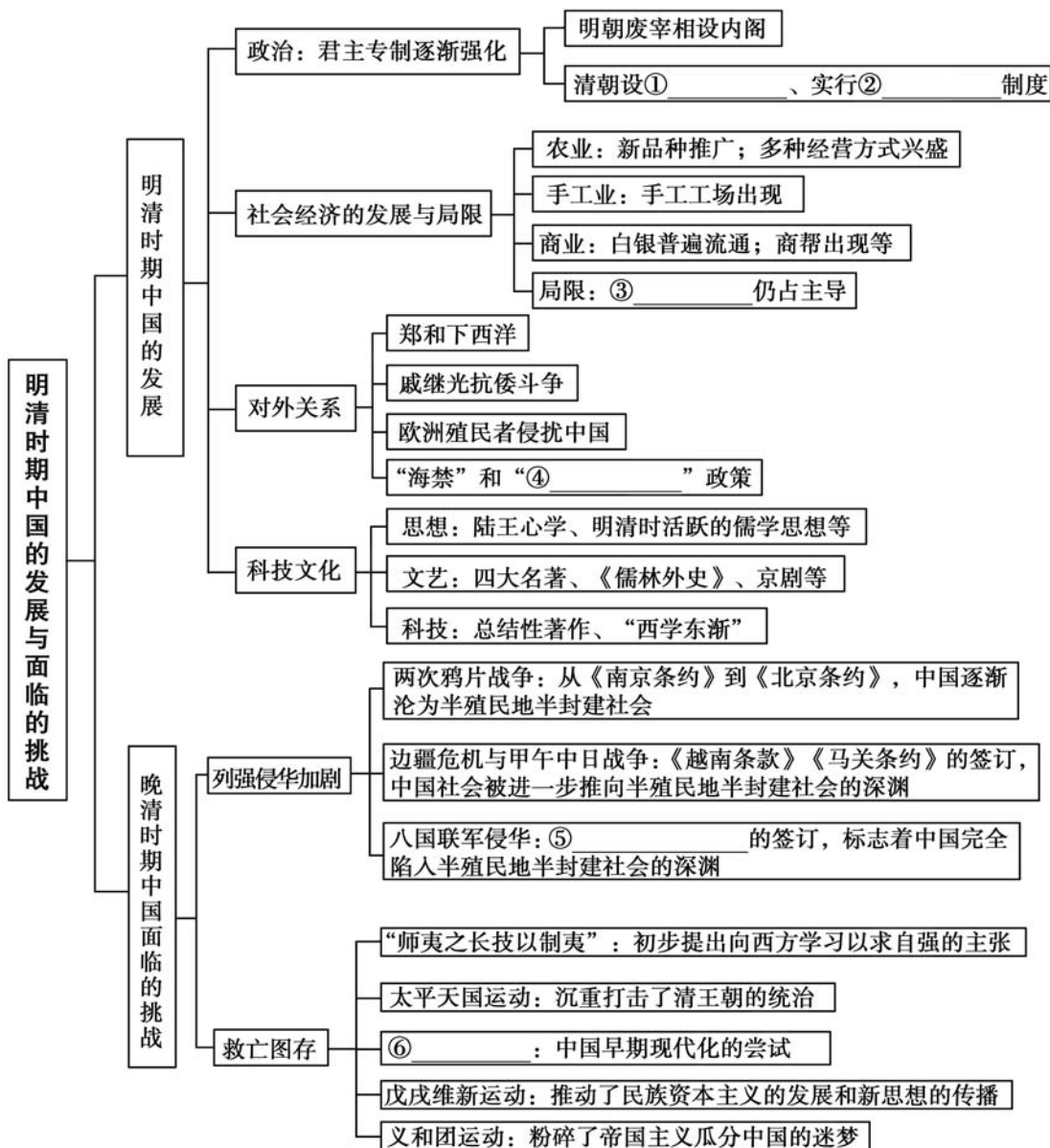


	学习时间	作业质量	学习态度	学习效果	我的疑惑
自我评价		对____题 错____题	<input type="checkbox"/> 好 <input type="checkbox"/> 良好 <input type="checkbox"/> 一般	<input type="checkbox"/> 好 <input type="checkbox"/> 良好 <input type="checkbox"/> 一般	
家长评价					

## 主题四

# 明清时期中国的发展与面临的挑战

### 知识回顾





**【例 1】**明朝前期,在北方设立九边重镇防范蒙古,但蒙古军队多次南下掳掠,甚至俘虏了皇帝,威逼北京。明朝后期,明王朝与蒙古达成协议,恢复通贡,边镇开设互市,听边民自行贸易,从此蒙古基本不再对边境构成威胁。这一变化反映出 ( )

- A. 中原经济是蒙古政权的生存基础
- B. 诸王守边削弱了边地的防御力量
- C. 明朝对蒙古采取堵疏并用的政策
- D. 经贸往来利于民族之间亲善和睦

**【解析】**根据材料“设立九边重镇防范蒙古”的结果是“威逼北京”,而“恢复通贡,边镇开设互市”的结果是“不再对边境构成威胁”可知,这一变化说明经贸往来利于民族之间亲善和睦,故选 D 项;蒙古政权的生存基础是游牧经济,A 项错误;材料“设立九边重镇防范蒙古”说明,诸王守边是为了加强防御力量,B 项错误;材料“明朝前期”和“明朝后期”说明,明朝每个时间段采取的政策不同,不能说明采取了“堵疏并用”的政策,C 项错误。

**【答案】**D

**【例 2】**鸦片战争后的“开眼看世界”是一种寻求“制夷”之策与挽救中国于危亡的开放思想。它的着眼点是 ( )

- A. 新思想新文化
- B. 历史地理方面
- C. 社会制度方面
- D. 军事技术方面

**【解析】**鸦片战争后,先进知识分子看到西方的坚船利炮,认识到军事技术先进的重要性。因此,他们主张向西方学习先进的军事技术,故选 D 项;A、C 两项不是鸦片战争之后开始寻求的,排除;鸦片战争之后,出现了介绍外国历史地理的书籍,但不是先进知识分子寻求的“制夷”之策,排除 B 项。

**【答案】**D

## 一、选择题

1. 从明代中期开始,民间的图书编纂出版事业出现了一个高潮,包括历史在内的各个学术领域名著不断。出现这一现象的背景可能是 ( )  
A. 社会经济的繁荣发展  
B. 杂剧散曲等市民文学兴盛  
C. 官府放松了思想控制  
D. 明清之际思想启蒙的影响
2. 明代汤显祖在《牡丹亭》中说:“天下女子有情,宁有如杜丽娘者乎……如丽娘者,乃可谓之有情人耳。情不知所起,一往而深,生者可以死,死可以生。”材料体现了作者的思想内涵是 ( )  
A. 主张精神自由与个性解放  
B. 否定传统思想的主流地位  
C. 主张“存天理,灭人欲”  
D. 提倡经世致用思想
3. 乾隆元年修的《山东通志》改旧志的《赋役志》为《田赋志》,稍后修的《福建续志》也改《户役》为《户口》。这些改动反映了清朝前期 ( )  
A. 专制集权继续加强  
B. 重农抑商政策日益弱化  
C. 文化控制趋于严密  
D. 人身依附关系渐趋松弛
4. 1860年,中法《北京条约》规定,“将以前被充公的天主教产赔还”“并任法国传教士在各省租买田地”。这些规定 ( )  
A. 促进了中西方之间的文化交流  
B. 促成了中外反动势力的勾结  
C. 为列强在华建立租界提供依据  
D. 便利了列强对中国进行文化侵略
5. 有学者在评论某场战争时指出:“(战争)是中国战场上的胜利,外交上的失败。”这场战争不仅使侵略者在中国取得了铁路修筑权,而且使中国的西南门户大开。这场战争是 ( )  
A. 鸦片战争  
B. 甲午中日战争  
C. 中法战争  
D. 八国联军侵华战争
6. 康有为在自己的回忆录里记载了组织公车上书的行动,而当代学者茅海建称在清朝历史档案中未发现上书的文件,由此他认为上书的行动可能不存在。这说明 ( )  
A. 历史人物的回忆录没有历史价值  
B. 历史档案完全反映了历史的真相  
C. 寻求历史的真实需要从多方考证  
D. 回忆录的史料价值高于历史档案





## 二、非选择题

7. 阅读下列材料,回答问题。

**材料一** 市镇,亦称市集、墟、场,往往在多个村庄的中心地带。明正德年间松江府青浦县的朱家角“商贾凑聚,贸易花布,为今巨镇”。在江南地区,史载“鬻诸双林镇,为织包头纱之用”。在17世纪,仅荷兰东印度公司就运出景德镇等中国瓷器1 600万件。制瓷业的发展不仅带来巨额的利润,也带来了更多的自由雇工。

——摘编自《明代工商业城镇的形成与经济关系的内在关系》

**材料二** 朱棣重视阁臣个人素质,阁臣的进退完全取决于成祖朱棣对他们能力的认同。后设立制敕房、诰敕房等机构,完善内阁制度。宣宗时,以票拟批答的方式处理政务,加强了内阁的权力。但由于权力制衡的需要,宣宗培植宦官势力,赋予司礼监太监批红权。

——《明代内阁的发展演变与皇权的关系》

(1)根据材料一,概括明后期江南工商业市镇的特点。

(2)根据材料二,概述明代内阁的发展状况。综合材料一、二,指出明代后期社会变迁的新态势。



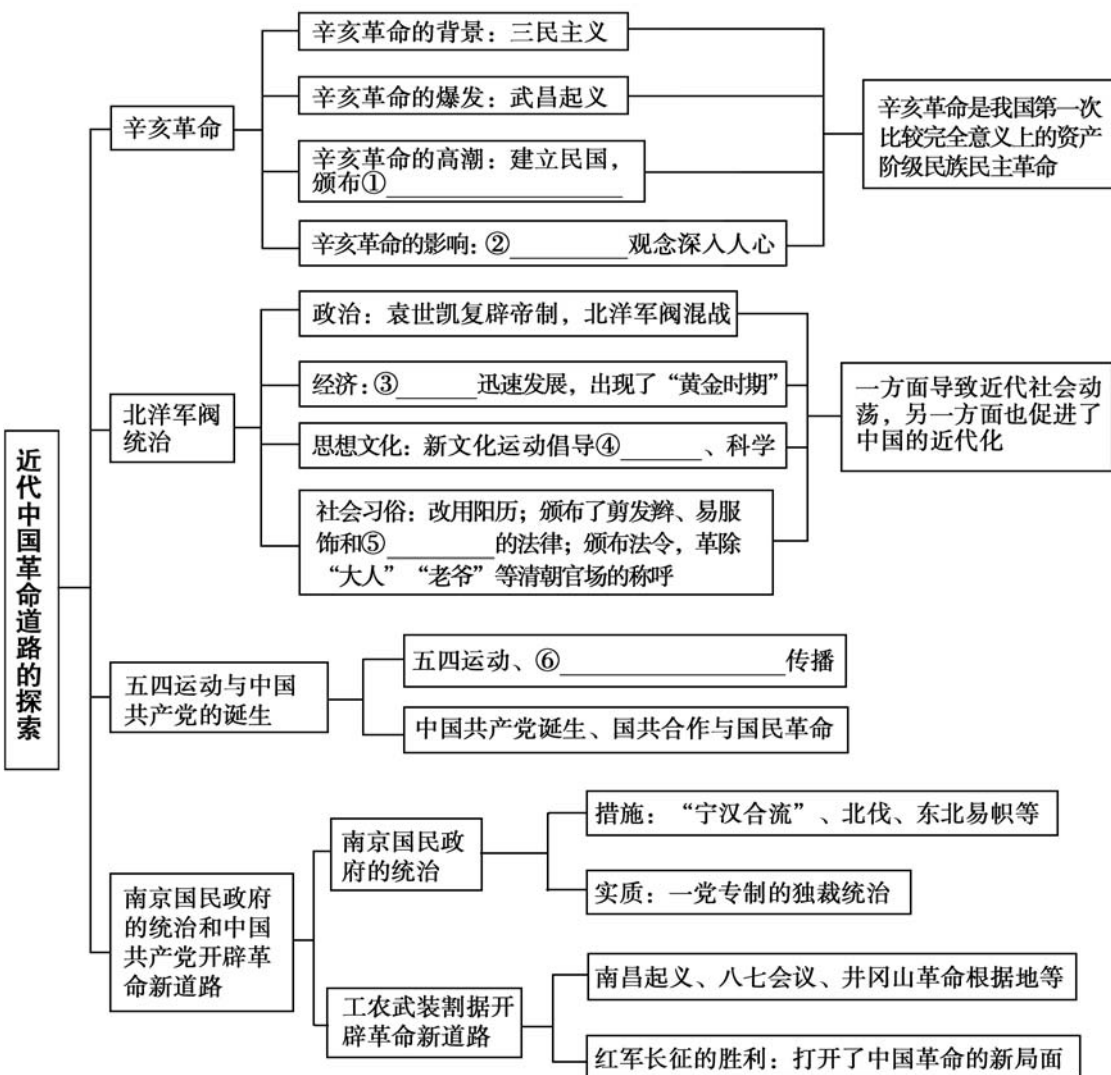
### 互动评价

	学习时间	作业质量	学习态度	学习效果	我的疑惑
自我评价		对_____题 错_____题	<input type="checkbox"/> 好 <input type="checkbox"/> 良好 <input type="checkbox"/> 一般	<input type="checkbox"/> 好 <input type="checkbox"/> 良好 <input type="checkbox"/> 一般	
家长评价					

# 主题五

## 近代中国革命道路的探索

### 知识回顾





**【例 1】**陈独秀在《吾人最后之觉悟》中说“吾人于共和国体之下，备受专制政治之痛苦”。这主要是因为辛亥革命 ( )

- A. 没有改变中国半殖民地半封建社会性质
- B. 没有推翻君主专制制度
- C. 未动摇中国根深蒂固的封建思想
- D. 民主共和理念尚未深入人心

**【解析】**“吾人于共和国体之下，备受专制政治之痛苦”说明辛亥革命后表面是共和政体，但实际上中国仍然受到专制残余的影响，原因是辛亥革命没有改变中国半殖民地半封建的社会性质，故选 A 项；辛亥革命已经推翻君主专制制度，实行民主共和制，排除 B 项；材料强调政治方面，C、D 两项强调的是思想，排除。

**【答案】**A

**【例 2】**美国作家哈里森说：“(长征)不是战役，也不是胜利，它是一曲人类求生存的凯歌……是……一次生死攸关、征途漫漫的撤退……它终为毛泽东和共产党赢得了中国，在本世纪没有哪一个事件如此地触发世界的想象。”表明了长征 ( )

- A. 翻开中国革命的新篇章
- B. 传播了中共革命的精神
- C. 改变了中国革命的性质
- D. 对世界局势产生了影响

**【解析】**A 项与材料“终为毛泽东和共产党赢得了中国”相符，正确；B 项与材料“它终为毛泽东和共产党赢得了中国”无关，错误；长征仍旧属于新民主主义革命，C 项错误；D 项与材料“触发世界的想象”不符，错误。

**【答案】**A

**【例 3】**观察右边的图片，回答问题。

思考：图片中的船见证了哪一重大历史事件？如何理解“一船红天下”？



一船红天下，万众跟党走

**【解析】**图片中的船指的是嘉兴南湖的游船，中共一大最后一天在这条游船上举行，故这条船见证了中共一大的召开。中共一大的召开标志着中国共产党的成立。自从有了中国共产党，中

国革命的面貌就焕然一新了(或中国共产党的诞生,是一个开天辟地的大事变)。

**【答案】**中共一大的召开(或中国共产党的诞生)。自从有了中国共产党,中国革命的面貌就焕然一新了(或中国共产党的诞生,是一个开天辟地的大事变)。



### 一、选择题

- 史学家陈旭麓在《近代中国社会的新陈代谢》一书中说:革命过后的社会民众心理“呼唤一个能迅速结束动乱、稳定政局的人物……”他还说:“袁世凯是选举出来的,于法有据。”陈旭麓的论证旨在说明 ( )
  - 袁世凯依法担任大皇帝
  - 袁世凯上台具有必然性
  - 辛亥革命引发社会动荡
  - 改良更有利于社会稳定
- 《剑桥中华民国史》一书中说:尽管 1915—1916 年以及 1917 年曾经有过企图抹杀辛亥革命的尝试,但主张共和政体的革命党人还是达到了最低目标——推翻清朝,建立民国。这里提到的“企图”是 ( )
  - 签署“中日民四条约”
  - 段祺瑞与黎元洪“府院之争”
  - 袁世凯和张勋复辟帝制
  - 颁布了《修正大总统选举法》
- 《中华民国临时约法》第五章规定:“国务员辅佐临时大总统负其责任。国务员于临时大总统提出法律案、公布法律及发布命令时须副署之。”此规定旨在 ( )
  - 实行三权分立
  - 限制总统权力
  - 规定主权在民
  - 保障自由平等
- 近代中国向西方学习经历了从器物到制度再到思想文化的过程。其中主张从文化层面学习西方的是 ( )
  - 太平天国运动
  - 洋务运动
  - 戊戌变法
  - 新文化运动
- 1912 年秋天,一位年轻人怅然若失地在其照片的背面留下题识:“壬子秋八月,将欲剪发(辫),故用大镜照后影,以留纪念。八月初三日即新历九月十三日拍于劝业场楼上之丽芙照相馆。”这实质上反映了 ( )
  - 剪辫易服难以推广
  - 变革心态新旧杂陈
  - 传统精华悉心保留
  - 共和观念深入人心



6. 在 1919 年 6 月 3 日之前,五四运动的中心和主力是知识分子,之后,无产阶级以历史上空前的政治大罢工投入斗争,跃进成为革命运动的中心和主力,帮助斗争迅速取得胜利。可见,五四运动 ( )
- A. 是北伐战争重要组成部分                      B. 打击了封建军阀腐朽统治
- C. 开始了民主革命的新阶段                      D. 以马克思主义为指导思想
7. 1919 年春夏之交,上海“大世界”娱乐场的跑马生意萧条,有人在其大门上张贴了一副对联,“正应筹策补亡羊,哪有心思看跑马”。其中“亡羊”是指 ( )
- A. 中国被迫签订《辛丑条约》                      B. 辛亥革命的胜利成果被窃取
- C. 日本强加“二十一条”给中国                      D. 中国在巴黎和会上外交失败
8. 20 世纪 20 年代,中国共产党某次全国代表大会指出:当前中国革命的性质是民主主义革命;民族资产阶级也是革命的力量之一;革命的对象是帝国主义和封建军阀。这次全国代表大会 ( )
- A. 正式宣告了中国共产党成立                      B. 推动了革命统一战线的建立
- C. 标志着国民革命运动的兴起                      D. 标志着中共由幼稚走向成熟
9. 鉴于大革命失败的教训,毛泽东在某次会议的发言中提出“以后要非常注意军事,须知政权是由枪杆子中取得的”。这次会议是指 ( )
- A. 中国共产党第一次全国代表大会                      B. 八七会议
- C. 中国共产党第七次全国代表大会                      D. 遵义会议

## 二、非选择题

10. 阅读下列材料,回答问题。

**材料一** 英国驻华商务监督义律 1839 年 4 月 3 日在广州发给英国外相巴麦尊的机密信中说:“我以最最忠诚的心情建议陛下政府,立刻用武力占领舟山岛,严密封锁广州、宁波两港以及从海口直到运河口的扬子江江面。陛下政府将从此获取最适意的满足。”

——摘自人教版高中《中国近代现代史》上册教参

**材料二** 情景再现

情景一 这次革命结束了中国长达两千年的君主专制制度,是一次伟大的革命运动。

情景二 ……提出“外争国权,内除国贼”的口号。


材料三 1928年1月,毛泽东率军攻占遂川县城……不久,遂川人民传出这样的歌谣:“过新年,过新年,今年不比往常年,共产党军来到了,又分谷子又分田。过新年,过新年,你拿斧子我拿镰,高举红旗开大会,工农翻身掌政权。”

(1)结合所学知识及材料一,指出英国政府是怎样获取“最适意的满足”的。

(2)材料二中情景各出现于近代中国的哪个时期?

(3)材料三中的政权指的是什么政权? 1928年1月毛泽东率军攻占遂川县城,说明中国工农红军走的革命道路是什么?

(4)分析三则材料并结合所学知识,概述近代中国民主革命的任务。

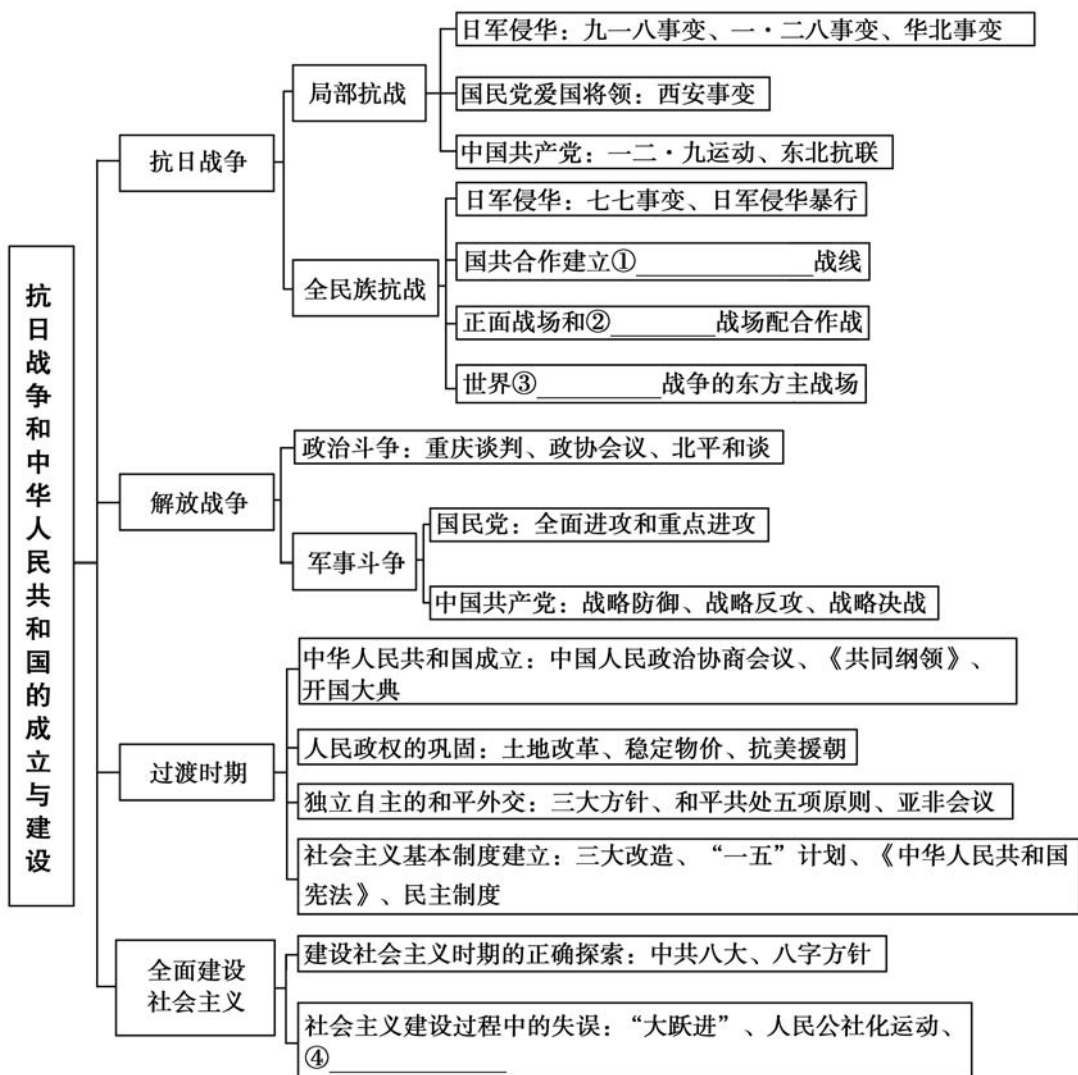
 互动评价

	学习时间	作业质量	学习态度	学习效果	我的疑惑
自我评价		对_____题 错_____题	<input type="checkbox"/> 好 <input type="checkbox"/> 良好 <input type="checkbox"/> 一般	<input type="checkbox"/> 好 <input type="checkbox"/> 良好 <input type="checkbox"/> 一般	
家长评价					

主题六

抗日战争和中华人民共和国的成立与建设

知识回顾



## 典例精析

**【例 1】**日记是记录历史事件的有力证据。一位日本兵在日记中写道：“我们不清楚为什么杀掉这么多的俘虏。但是总觉得太不人道，太残酷了。……七千人的生命转眼之间就从地球上消失，这是个不争的事实。”这位当事人的回忆最可能指证的历史是 ( )

- A. 日军攻陷上海  
B. 日军实施细菌战  
C. 日军屠城南京  
D. 日军占领台儿庄

**【解析】**根据题干材料并结合所学知识可知，上述日本兵的日记最可能指证的历史就是南京大屠杀。日军在占领南京后进行了长达六周的大屠杀，据统计约有 30 万人被害，故选 C 项。

**【例 2】**解放战争时期，毛泽东在给山东战区的一份电报中指出：“敌军密集不好打，忍耐待机……让敌占领莱芜、沂水、莒县，陷入极端困境，然后歼灭并不为迟。”这是为了 ( )

- A. 消灭国民党的主力  
B. 粉碎国民党军队重点进攻  
C. 揭开战略进攻的序幕  
D. 奠定解放长江以南的基础

**【解析】**从题干材料“解放战争时期”“山东战区”等信息可知，人民解放军与山东有关的军事行动是粉碎国民党军队对山东解放区的重点进攻，B 项正确；A、D 两项分别是三大战役的结果和意义，错误；C 项的标志是晋冀鲁豫解放军千里跃进大别山，错误。

**【答案】**B

**【例 3】**美国前国务卿杜勒斯说，如果亚非国家养成一种在西方缺席的情况下经常开会的习惯，由于有众多的人口，印度和中国无疑将控制局面，这可能最终形成一个反对西方的集团。他希望这次会议开不起来。杜勒斯针对的是 ( )

- A. 倡导和平共处五项原则的中印会谈  
B. 和平解决印度支那问题的日内瓦会议  
C. 以“求同存异”促进会议成功的万隆会议  
D. 通过“一边倒”方针同苏联等国建交



**【解析】**万隆会议于1955年在印尼万隆召开,与会国皆为亚非国家,旨在讨论反对殖民主义的问题,又称第一次亚非会议,该会议符合杜勒斯的描述,故C项正确。

**【答案】**C

### 一、选择题

- “所谓抗日战争的起点,简言之,就是抗日战争的重大事件的开始时间问题。中国人民的抗日战争也是一个从小到大,由局部地区抗战逐渐发展到全民族抗战的历史过程。”这一观点认为抗日战争的起点应为 ( )
  - 九一八事变
  - 一·二八事变
  - 华北事变
  - 七七事变
- 九一八事变后,东北人民革命军、察哈尔民众抗日同盟军、大刀会、红枪会等抗日武装纷纷痛击日军。这表明 ( )
  - 民族矛盾的解决已成为共识
  - 军队力量是抗日战争之本
  - 反法西斯东方战场拉开序幕
  - 日军速战速决阴谋的破产
- 著名史学家金冲及先生著有《转折年代——中国·1947》一书。下列史实可以作为此“转折”的主要依据是 ( )
  - 中华民族实现抗日战争的完全胜利
  - 国共重庆谈判达成和平建国的共识
  - 人民解放战争完成了三大战略决战
  - 人民解放战争进入了战略反攻阶段
- 1949年4月,陈毅欣然写道:“旌旗南指大江边,不尽洪流涌上天。直下金陵澄六合,万方争颂换人间。”该诗描写的历史事件应该是 ( )
  - 刘邓大军千里跃进大别山
  - 渡江战役,推翻南京国民政府
  - 平津战役,和平解放北平
  - 民众支前,淮海战役胜利
- 从1946年下半年到1949年9月的3年中,烟台各县大批支前民工随军支前,先后支援了鲁南战役、孟良崮战役、潍县战役、济南战役、淮海战役、渡江战役

- 等。以上信息表明了上述战役能够取得胜利的原因是 ( )
- A. 国民党军队战斗力低下                      B. 国民党统治腐败  
C. 人民群众积极拥护支持                      D. 解放军作战方针正确
6. 1954年1月31日《人民日报》报道,沈阳市的手工业生产合作社经过政府和国营经济的领导和扶植,生产获得显著发展,年生产总值达数亿元。这一成绩取得的主要原因是 ( )
- A. 生产关系的变革                              B. 市场经济的刺激  
C. 责权明确的促进                              D. 公私合营的激励
7. 1949年9月,叶圣陶在日记中写道:“此为重大事件,今后之立国原则与设施要点,俱在此中也。”此重大事件是指通过或发表了 ( )
- A. 《新民主主义论》                              B. 《中国人民政治协商会议共同纲领》  
C. 《论十大关系》                                D. 《中华人民共和国宪法》
8. 20世纪60年代,中国城市中的许多街道、老字号商店的名称被修改为“反修路”“东风商店”。这一现象反映出 ( )
- A. 社会主义制度不断发展                      B. 革命者应保持朴素作风  
C. 城市民众提倡革命理想                      D. 国家政治影响社会生活
9. 在社会主义建设时期,涌现出被誉为“铁人”的石油工人王进喜等模范人物。他们的先进事迹突出体现的时代精神是 ( )
- A. 艰苦创业,无私奉献                              B. 和平民主,反对独裁  
C. 改革开放,与时俱进                              D. 坚持科学,崇尚民主
10. 1964年10月19日,《参考消息》援引合众国际社东京十七日电:“红色中国……一个非白人的国家第一次打开了军事技术中的一些最深奥的秘密。中国人已插足于一个过去只有西方民族才能进入的领域。”这说明当时中国 ( )
- A. 建立了全方位的国防体系                      B. 具有了远程打击敌国的实力  
C. 打破了西方国家的核垄断                      D. 科教兴国取得了重大的成就

## 二、非选择题

11. 阅读下列材料,回答问题。

材料一 1927年,日本内阁召开东方会议,提出了先夺“满蒙”,后取整个

中国,进而吞并亚洲、称霸世界的侵略政策。两年后,世界资本主义经济危机波及日本,为了摆脱经济和政治困境,日本急于发动侵略战争。日本军部势力和关东军下决心要制造事端,武装夺取中国东北。

**材料二** 1939年1月,毛泽东在《八路军军政杂志》发刊词中谈道:“八路军的这些成绩从何而来?由于上级领导的正确,由于指战员的英勇,由于人民的拥护,由于友军的协助,这四者是八路军所以获得成绩的原因。其中友军的协助是明显的,没有正面主力军的英勇抗战,便无从顺利地展开敌人后方的游击战争;没有同处于敌后的友军之配合,也不能得到这样大的成绩。”

(1)在日本侵略中国的过程中,材料一主要说明了什么问题?结合所学知识,指出日本侵华的主要史实。

(2)根据材料二并结合所学知识,说明中国共产党在抗日战争中实行的政策及举措。

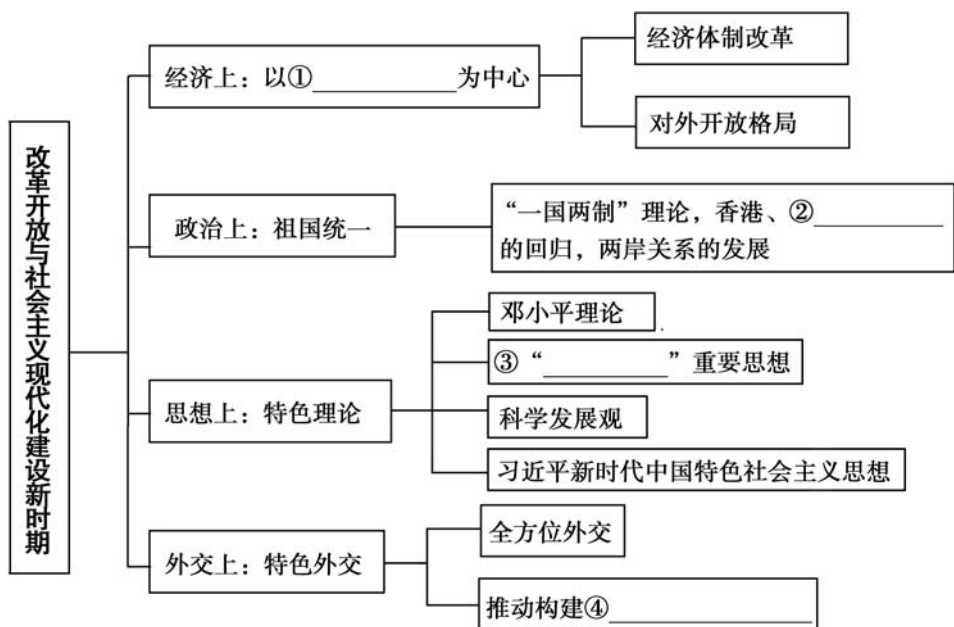
## 互动评价

	学习时间	作业质量	学习态度	学习效果	我的疑惑
自我评价		对_____题 错_____题	<input type="checkbox"/> 好 <input type="checkbox"/> 良好 <input type="checkbox"/> 一般	<input type="checkbox"/> 好 <input type="checkbox"/> 良好 <input type="checkbox"/> 一般	
家长评价					

## 主题七

# 改革开放与社会主义现代化建设新时期

### 知识回顾



### 典例精析

【例 1】中共十一届三中全会是中华人民共和国成立以来党的历史上具有转折意义的会议，“转折”体现在 ( )

- A. 从旧民主主义革命转向新民主主义革命
- B. 党的工作重心从城市转向农村
- C. 从“以阶级斗争为纲”转向以经济建设为中心
- D. 挽救了党，挽救了中国革命





**【解析】**中共十一届三中全会果断停止了“以阶级斗争为纲”的方针,将工作中心转移到经济建设上来,故 C 项符合题意;从旧民主主义革命转向新民主主义革命是指五四运动;党的工作重心从城市转向农村是 1927 年国民革命失败后;挽救了党,挽救了中国革命的是遵义会议,故 A、B、D 三项错误。

**【答案】**C

**【例 2】**以毛泽东为代表的中国共产党人探索了一条有中国特色的革命道路;以邓小平为代表的中国共产党人开创了一条中国特色社会主义建设道路。二者根本的共同点是 ( )

- A. 坚定不移地走社会主义道路
- B. 把反“左”作为革命或建设进程的重要任务
- C. 始终不渝地贯彻党的最高纲领
- D. 实事求是,从中国的国情出发

**【解析】**毛泽东思想和邓小平理论都是马克思主义中国化的产物,都遵循“实事求是,从中国的国情出发”的原则,故选 D 项。

**【答案】**D



### 一、选择题

1. 1979 年 1 月 30 日,邓小平访问美国期间,在向美参、众两院议员解释中国政府对台湾方针时说:“我们不再用‘解放台湾’这个提法了。只要台湾回归祖国,我们将尊重那里的现实和现行制度。”这一主张 ( )
  - A. 有助于中美关系开始正常化
  - B. 蕴含着“一国两制”思想
  - C. 基于两岸经济交流合作加强
  - D. 标志着两岸关系的重大转折
2. 到 1983 年,全国农村实行家庭联产承包责任制的生产队已达 93%。到 1987 年,全国已有 80%的国有企业实行了各种形式的承包经营责任制。前者对后者的借鉴意义主要体现在 ( )
  - A. 坚持发展公有制经济
  - B. 扩大经营自主权
  - C. 建立了市场经济体制
  - D. 加强了对外开放

3. 我国经济体制改革目标的确立是在 ( )
- A. 中共十一届三中全会                      B. 中共十二大  
C. 中共十三大                                  D. 中共十四大
4. “几个小时前我还是皇家警察,但现在我已是一名堂堂正正的香港警察了。”该警察说这句话的背景是 ( )
- A. 邓小平提出“一国两制”  
B. 中英签署关于香港问题的《联合声明》  
C. 《中华人民共和国香港特别行政区基本法》的颁布  
D. 中华人民共和国香港特别行政区成立
5. 探索中国模式必须从中国实际出发,吸收和借鉴别国的经验。中国发展模式可以为世界上其他国家提供某种经验,但也不能照搬到其他国家。据此可知中国模式 ( )
- A. 是当今世界上最先进的模式              B. 只能解决社会主义国家的问题  
C. 可能被其他国家成功复制                D. 是中国实际和世界经验的融合
6. 在国际关系中践行正确的义利观问题上,习近平强调,“国不以利为利,以义为利也”,要讲信义、重情义、扬正义、树道义。在国际合作中,要注重利,更要注重义。中国外交要做好对外援助工作,真正做到“弘义融利”。材料反映出,在习近平的外交思想中 ( )
- A. 彰显出中华优秀传统文化的魅力        B. 始终把正确的义利观放在第一位  
C. 继续坚持独立自主的和平外交        D. 开始重视人类命运共同体的构建
7. 我国深入实施“一带一路”倡议,筹建和成立亚洲基础设施投资银行。这体现了我国主张与各国人民携手努力,推动建设 ( )
- A. 持久和平、共同繁荣的和谐世界        B. 相互尊重、平等协商的政治关系  
C. 相互合作、优势互补的经济关系        D. 相互信任、加强合作的安全关系
8. 习近平新时代中国特色社会主义思想同马克思列宁主义、毛泽东思想、邓小平理论、“三个代表”重要思想、科学发展观一道,是党必须长期坚持的指导思想,是马克思主义中国化最新成果。材料反映的马克思主义中国化思想的共同点是 ( )
- A. 解决民主主义革命道路问题            B. 解决中国向何处发展问题  
C. 解决建设什么样的党的问题            D. 实事求是、与时俱进

## 二、非选择题

9. 阅读下列材料,回答问题。

**材料一** 我们的现代化建设,必须从中国的实际出发……把马克思主义的普遍真理同我国的具体实际结合起来,走自己的道路,建设有中国特色的社会主义,这就是我们总结长期历史经验得出的基本结论。

——邓小平在中共十二大上的讲话

**材料二** 中国改革开放是当今世界最大的创新,“一带一路”作为全方位对外开放的倡议,正在以经济走廊理论、经济带理论、21世纪的国际合作理论等创新发展理论、区域合作理论、全球化理论。“一带一路”强调共商、共建、共享原则,超越了马歇尔计划、对外援助以及走出去战略,给21世纪的国际合作带来新的理念。

(1)材料一反映了邓小平的什么思想?体现了邓小平理论的哪些特点?

(2)材料二说明了什么?

### 互动评价

	学习时间	作业质量	学习态度	学习效果	我的疑惑
自我评价		对_____题 错_____题	<input type="checkbox"/> 好 <input type="checkbox"/> 良好 <input type="checkbox"/> 一般	<input type="checkbox"/> 好 <input type="checkbox"/> 良好 <input type="checkbox"/> 一般	
家长评价					

## 假期总结测评卷

(历史)

满分:100分 时量:90分钟

## 一、选择题(每小题3分,共60分)

1. 在古代中国,“国”和“家”对统治者而言是紧密相连的,家是小的国,国是大的家。体现这一观念的制度是 ( )  
A. 禅让制            B. 宗法制            C. 郡县制            D. 行省制
2. 隋文帝曾多次下诏提倡儒家的礼仪道德,上台伊始,依照儒家典籍的规范,复汉魏之旧。然而《隋书》中却这样记载:“佛,日也;道,月也;儒,五星也。”这表明当时 ( )  
A. 复兴儒学成为士大夫首要任务            B. “三教合一”的趋势明显  
C. 统治者大力推行三教并行政策            D. 儒学的发展面临困境
3. 王安石推行变法期间,苏轼在给宋神宗的上书中说:“唯商鞅变法,不顾人言,虽能骤至富强,亦以召怨天下……虽得天下,旋踵而失也。”据此可知,苏轼 ( )  
A. 肯定商鞅变法的作用            B. 借机反对王安石变法  
C. 对商鞅变法的评价中肯            D. 与王安石的立场根本对立
4. “京剧的形成是有清以来最为重要的文化现象。清代戏曲一方面是各种声腔纷纷兴起,互相争胜;另一方面又彼此交流,实行新的综合。没有新的综合,就不会有曲调丰富、艺术表现力强大的大型新剧种的出现。”材料反映出京剧 ( )  
A. 已成为“百戏之祖”            B. 经多种艺术融合而形成  
C. 是古代戏曲的巅峰            D. 是古代戏曲艺术成熟的标志
5. 学者陈旭麓认为:“辛亥革命为2132年的历史打了一个用铁和血铸成的句号。……它是一条分界。”作者把辛亥革命作为“分界线”的史实依据是 ( )  
A. 清帝退位            B. 《中华民国临时约法》颁布  
C. 武昌起义            D. 中国同盟会建立



6. 陈独秀认为,以往历次革命之所以失败,是因为“惟有党派运动,而无国民运动也”。由他发起的新文化运动,可以说其实质是一场关于“人”的运动,即要改变“人”,要换“心”。这说明该运动 ( )
- A. 继承了明末早期启蒙思想                      B. 忽视了政党斗争的价值  
C. 聚焦意识形态领域的革新                      D. 旨在宣传国民革命运动
7. 李大钊为马克思主义在中国的传播作出了巨大的贡献。下列作品中不属于李大钊的是 ( )
- A. 《德意志社会革命家小传》                      B. 《庶民的胜利》  
C. 《布尔什维主义的胜利》                      D. 《我的马克思主义观》
8. 据《近代中国史纲》记载:“截至 1930 年初,红军约为六万人,有枪者三分之二,活动区域达一百二十余县,苏维埃区已初步建立。”红军与苏维埃区得以存在发展的最主要原因是 ( )
- A. 开展了土地革命                                      B. 实施了游击战术  
C. 建立了民主政权                                      D. 获得了苏联支持
9. 有学者认为,八七会议虽然确定了土地革命和武装反抗国民党反动派的总方针,但仍然认为工人运动是中国革命的中心力量。直到秋收起义后,一部分共产党人才有计划、有组织和有目的地将党的工作重心由城市工人运动转向农村农民运动。该学者意在强调 ( )
- A. 中国的城市革命道路是照搬苏联经验  
B. 右倾错误的纠正受到了阻挠  
C. 工人运动的影响大于农民运动  
D. 中国革命的正确道路的探索具有渐进性
10. 某学生进行了抗日战争期间有关日军暴行的研究性学习,在众多的材料中最有力的证据是 ( )
- A. 当年受害者的控诉材料  
B. 历史专著中对“南京大屠杀”的描写  
C. 侵华日军撰写的回忆录  
D. 屠杀现场遗迹与当时拍的新闻照片

11. 1945年10月17日,毛泽东从重庆回到延安以后,在延安干部会上作了《关于重庆谈判》的报告。报告指出:“谈判的结果,国民党承认了和平团结的方针。这样很好。国民党再发动内战,他们就在全国和全世界面前输了理,我们就更有理由采取自卫战争,粉碎他们的进攻。”材料体现了重庆谈判的主要意义是 ( )
- A. 使国民党承认了和平团结的方针    B. 增强了中共消灭国民党的实力  
C. 使国民党没有理由发动国内战争    D. 使共产党在政治上取得了主动
12. 1946年的政协会议通过了宪法草案,规定了中央与地方分权的原则,规定省为地方自治最高单位,省长民选,各省制定省宪,等等。政协会议作出的这些规定 ( )
- A. 加快了国民政府改组的进程        B. 延缓了国共两党全面内战的爆发  
C. 成为国共重庆和谈的政治基础        D. 有利于解放区政权的存在和发展
13. 1948年岁末,马叙伦、郭沫若等大批知识分子和民主人士北上解放区;与此同时,蒋介石亲自策划的“抢救平津学术教育界知名人士”的计划却应者寥寥,这表明 ( )
- A. 国共力量对比开始逆转              B. 辽沈及平津战役胜利结束  
C. 国民党在政治上日益孤立              D. 新政治协商会议具有广泛的代表性
14. 毛泽东为新华社写的某一年元旦新年献词中说道:“中国人民将要在伟大的解放战争中获得最后胜利,这一点,现在甚至我们的敌人也不怀疑了。”这一献词发表的直接背景是 ( )
- A. 战略反攻,刘邓大军千里跃进大别山  
B. 三大战役,国民党军事力量急剧衰退  
C. 解放南京,推翻了国民党政权的统治  
D. 开国大典,建立新生的人民民主政权
15. 1954年,第一届全国人民代表大会被称为“第一次真正的人民大会”。这次大会的主要功绩是 ( )
- A. 确立了人民代表由海选产生的制度  
B. 中国人民开始成为真正的国家主人  
C. 制定了我国第一部社会主义宪法  
D. 人民有了行使政治权力的唯一机关

16. 规定了党在社会主义初级阶段“一个中心,两个基本点”的基本路线的会议是 ( )
- A. 中共十二大 B. 中共十三大 C. 中共十四大 D. 中共十五大
17. 2021 年度《财富》世界 500 强排行榜中,中国有 143 家企业上榜,企业上榜数量居世界第一位,一批优秀的中国企业走向世界,如华为、格力、联想、海尔等。它表明了中国的 ( )
- A. 科学技术领先世界 B. 国际竞争力增强  
C. 制造业整体水平高 D. 民营企业比例较大
18. 改革开放 40 多年来,中国在世界科技舞台上由“跟跑者”变为“并跑者”,甚至是“领跑者”。据此可知,改革开放 40 多年来 ( )
- A. 中国在科技上已经遥遥领先世界  
B. 重视科技是中国奇迹的根本原因  
C. 我国在科技领域上取得巨大成就  
D. 科技创新助推国民经济协调发展
19. 习近平新时代中国特色社会主义思想不是理论家的“自我设计”,也不是简单的经济增长以后的水到渠成,而是体现了中国共产党人善于将“思想进程”与事物自身的“历史行进”相结合。这句话表明了新时代中国特色社会主义思想 ( )
- A. 根植于改革开放的伟大实践 B. 继承马克思主义理论成果  
C. 与经济发展没有密切关系 D. 是马克思主义中国化的成果
20. 1978 年 7 月,中国政府停止了对两个社会主义国家越南和阿尔巴尼亚的无偿援助;10 月,邓小平访问日本,《中日和平友好条约》正式生效;12 月 16 日,中美发表建交公报。我国外交政策的一系列微妙变化表明 ( )
- A. 十一届三中全会实现党和国家工作重心的转移  
B. 当时我国外交逐渐摆脱僵化的意识形态的束缚  
C. 国际格局的重大变化直接影响中国的外交方针  
D. 中国不再对其他的社会主义国家给予无偿援助

## 二、非选择题(共 40 分)

21. 人类文明历经千百年的隔绝、碰撞、交融,不断走向新的“解放”。阅读下列材料,回答问题。

**材料一** 在公元前 800 至公元前 200 年间发生了人类精神的奠基。这个时代称为“轴心时代”。在此时代中,许多杰出的思想家几乎同时产生于中国、印度与西方,而他们互不知晓。

——摘编自雅斯贝尔斯《智慧之路——哲学导论》

**材料二** 李贽:前三代,吾无论矣。后三代,汉唐宋是也,中间千百余年……咸以孔子是非为是非,故未尝有是非耳。

顾炎武:且叹夫百余年以来之为学者……置四海之困穷不言……以无本之人,而讲空虚之学,无见其从事于圣人而去之弥远也。

王夫之:天地之德不易,而天地之化日新……日之有昼夜,犹人之有生死,世之有鼎革也。纪世者以一君为一世,一夜为一代足矣。

——李贽《藏书》、顾炎武《亭林文集》、王夫之《思问录》

(1)结合所学,指出“轴心时代”中国思想家孔子、老子思想的主要内容。(10 分)

(2)根据材料二,分别概括李贽、顾炎武、王夫之的思想。(10 分)

22. 阅读下列材料,回答问题。

**材料一** 毛泽东是最早的探索者……起了先导的作用……毛泽东在探索中的失误和挫折也为开创建设中国特色社会主义道路提供了历史的借鉴。

邓小平作为党的第二代领导集体的核心,继续对社会主义道路进行了探索,纠正、创新地发展了毛泽东思想。他第一次比较系统地初步回答了在中国这样落后的国家如何建设、巩固和发展社会主义的一系列基本问题。

**材料二** 中国特色社会主义进入了新时代的重大判断,深刻揭示了我国发展所处的新的历史方位,丰富和发展了马克思主义的时代理论,是我们党科学制定具有全局性、战略性、前瞻性的行动纲领的根本依据,对于新形势下进行具有许多新的历史特点的伟大斗争、推进党的建设新的伟大工程、推进中国特色社会主义伟大事业、实现中华民族伟大复兴伟大梦想具有重大的理论意义和实践意义。

——摘编自刘靖北《中国特色社会主义何以进入新时代》

(1)根据材料一并结合所学知识,回答邓小平对中国特色社会主义道路的探索有哪些重要贡献。其思想核心和奋斗目标是什么?(8分)

(2)根据材料一并结合所学知识,说明毛泽东、邓小平对中国特色社会主义道路的探索有何内在联系。(6分)

(3)根据材料二并结合所学知识,指出中国特色社会主义进入新时代的意义。(6分)

### 互动评价

	学习时间	作业质量	学习态度	学习效果	我的疑惑
自我评价		对_____题 错_____题	<input type="checkbox"/> 好 <input type="checkbox"/> 良好 <input type="checkbox"/> 一般	<input type="checkbox"/> 好 <input type="checkbox"/> 良好 <input type="checkbox"/> 一般	
家长评价					

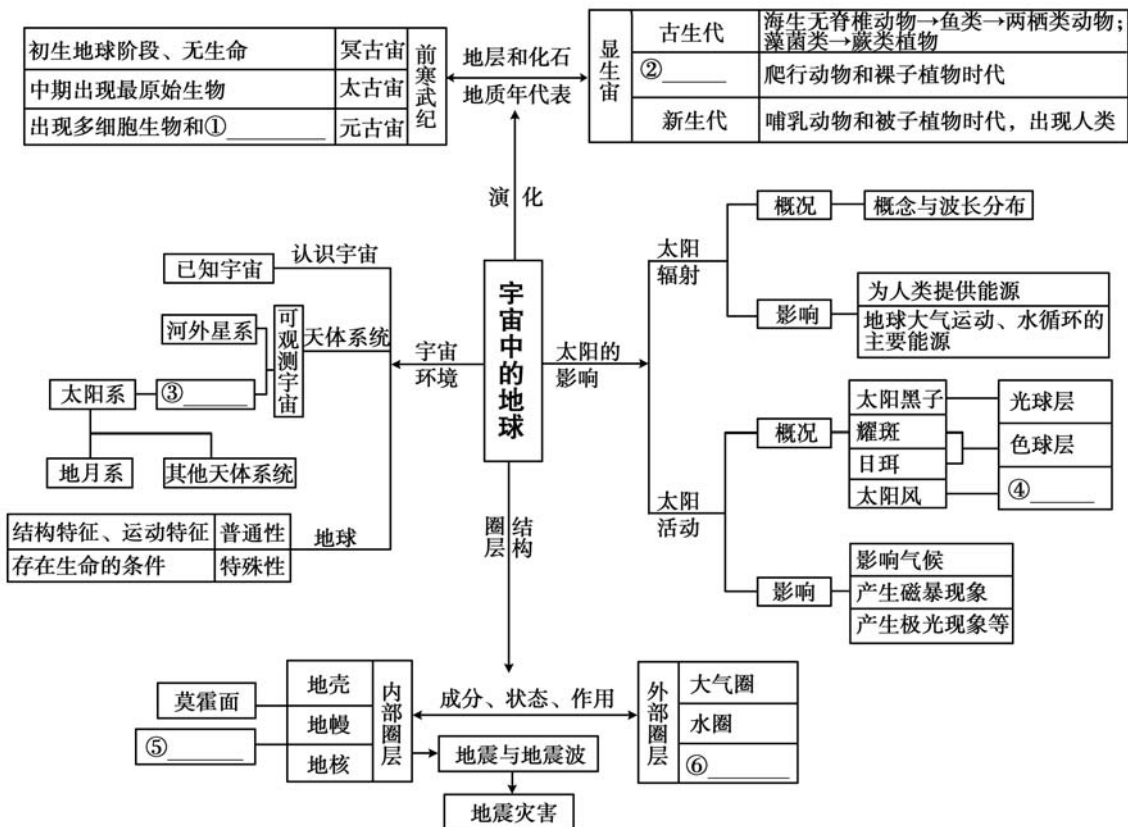


# 地理

**假日导学** 亲爱的同学，快乐寒假如约而至！为倡导高效学习，引领品质生活，体验知新假日，我们根据地理学科的特点及上期所学内容，结合假日环境特点，有针对性地精心设计了5个学习主题，每个主题按“知识回顾—典例精析—学以致用”的编排体系呈现，每次学习一个主题，希望能帮助你有针对性地重点对上期所学知识进行系统梳理和有机整合，达到温故而知新的效果。你可以根据实际情况，科学合理地制订好假期个人学习计划，自主灵活地安排好每天的学习与生活时间。愿《假日知新》陪伴你度过一段快乐如歌的缤纷假期！

## 主题一 宇宙中的地球

### 知识回顾





**【例 1】**火星探测器在靠近火星过程中会被火星引力捕获,进入环火轨道并环火星飞行,对火星开展多维度探测,为后期设立火星基地提供资料。据此回答下列问题。

- (1)在探测器被火星引力捕获环绕火星飞行阶段,探测器属于 ( )  
 A. 恒星                      B. 行星                      C. 卫星                      D. 流星
- (2)科学家推断火星上可能有生命存在,与这一推断无关的依据是 ( )  
 A. 火星距离太阳比地球距离太阳更远  
 B. 火星上有大气  
 C. 火星自转周期与地球自转周期相差不大  
 D. 火星上曾有液态水

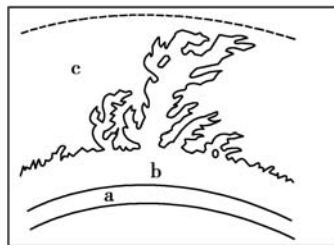
**【解析】**(1)探测器被火星引力捕获环绕火星飞行阶段,火星为行星,因此该阶段探测器属于火星的卫星。故选 C。(2)适合生物呼吸的大气、适宜的温度、液态水的存在、稳定的太阳光照是生命存在的必要条件。火星上有大气可供生物呼吸,B 不符合题意。火星自转周期与地球自转周期相差不大,昼夜更替的周期相差不大,昼夜温差适宜,C 不符合题意。液态水的存在有利于生命存活,D 不符合题意。火星距离太阳比地球距离太阳更远,这是火星与地球的区别,不能成为推断的依据,A 符合题意。故选 A。

**【答案】**(1)C (2)A

**【例 2】**读太阳外部结构示意图,据此回答下列问题。

- (1)下列太阳活动与其出现的部位对应正确的是 ( )

- A. 耀斑——a              B. 耀斑——c  
 C. 太阳黑子——b        D. 太阳黑子——a



- (2)下列关于太阳活动的影响,叙述错误的是 ( )

- A. 世界许多地区降水量的年际变化与太阳黑子 22 年的周期有关  
 B. 太阳大气抛出的高能粒子引起大气电离层中强烈的电磁扰动,产生磁暴现象

C. 耀斑爆发时,发射的电磁波会引起电离层扰动,干扰短波通信

D. 高能粒子喷发可能威胁运行在太空中的宇航器的安全

**【解析】**(1)图中 a、b、c 分别是太阳的光球层、色球层和日冕层,对应的太阳活动分别为太阳黑子、耀斑和太阳风。(2)太阳黑子活动大体以 11 年为周期,而世界许多地区降水量的年际变化与太阳黑子 11 年的周期有关。

**【答案】**(1)D (2)A



### 一、选择题

1. 下列天体系统中,不包括地球的是 ( )

A. 可观测宇宙      B. 银河系      C. 河外星系      D. 太阳系

2. 下列关于太阳辐射及其对地球的影响,叙述正确的是 ( )

A. 太阳源源不断地以电磁波的形式向四周放射能量,这种现象即太阳辐射  
 B. 太阳能量来源于强劲的太阳风  
 C. 太阳辐射能量巨大,是目前人们生产、生活所使用的唯一能源  
 D. 由于日地距离适中,地球上单位面积所获得的太阳辐射能比其他行星多

3. 太阳黑子和耀斑分别出现在 ( )

①光球层    ②日冕层    ③色球层    ④地球表面

A. ①②      B. ①③      C. ②③      D. ①④

读某地地震波传播速度随深度的变化图,回答

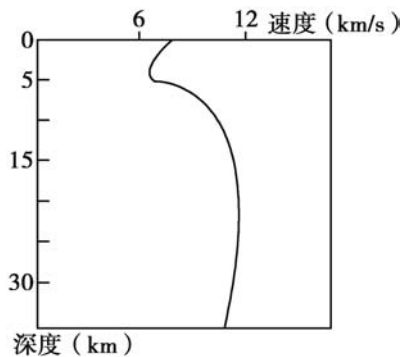
4~5 题。

4. 该地莫霍面大约位于地下 ( )

A. 5 km 处      B. 17 km 处  
 C. 33 km 处      D. 2 900 km 处

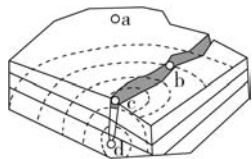
5. 下列关于图中表示的地震波及其判断理由正确的是 ( )

A. 横波——传播速度较慢      B. 纵波——传播速度较慢  
 C. 纵波——传播速度较快      D. 横波——传播速度较快



6. 右图为地震发生示意图,震中位于图中 ( )

- A. a 处                      B. b 处  
C. c 处                      D. d 处



7. 某地层分布有右图所示的化石,该地层形成时间最不可能是 ( )

- A. 二叠纪                      B. 石炭纪  
C. 泥盆纪                      D. 寒武纪



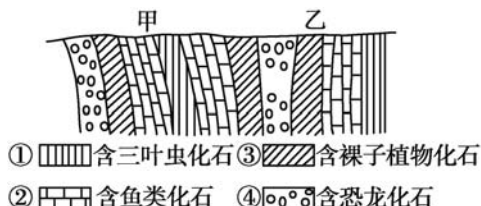
8. 关于地层的叙述,正确的是 ( )

- A. 地层是具有空间差异的层状岩石  
B. 地层中一定含有生物化石  
C. 越古老的地层含有越低级、越简单的生物化石  
D. 先沉积的地层在上,后沉积的地层在下

读某地地质剖面略图,回答 9~10 题。

9. 图中化石形成年代相对较早的是 ( )

- A. ①②                      B. ①③  
C. ①④                      D. ②③



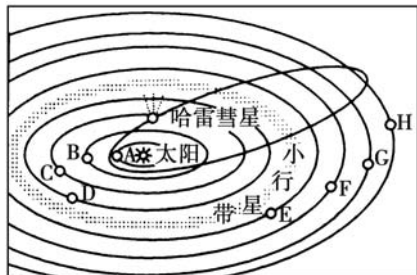
10. 根据图中化石,动物在这一时期经历的演化过程是 ( )

- A. 海洋无脊椎动物→爬行动物→两栖动物→鱼类  
B. 海洋无脊椎动物→鱼类→两栖动物→爬行动物  
C. 爬行动物→海洋无脊椎动物→鱼类→两栖动物  
D. 爬行动物→鱼类→两栖动物→海洋无脊椎动物

## 二、非选择题

11. 读太阳系示意图,回答下列问题。

- (1) 八颗行星中,离太阳最近的是\_\_\_\_\_,  
太阳系中的小行星带位于\_\_\_\_\_轨道  
和\_\_\_\_\_轨道之间。(填行星名称)



- (2) 八颗行星绕日公转具有\_\_\_\_\_,即都是  
自\_\_\_\_\_向\_\_\_\_\_。请在图中地球的公转轨道上用箭头表示出来。

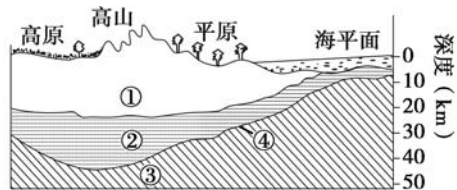
- (3)图中所示宇宙空间范围内共包括\_\_\_\_\_级天体系统,其中最高一级天体系统是\_\_\_\_\_,其中心天体是\_\_\_\_\_。
- (4)地球上存在生命物质与其所处的宇宙环境关系密切,此图所反映的有利的宇宙环境是\_\_\_\_\_。
- (5)地球上存在生命物质的几个自身条件中,此图反映出来的是\_\_\_\_\_。

12. 读下面相关材料,回答问题。

**材料一** 我国最大的深水钻井船“大连开拓者号”由大连中远船务工程集团有限公司建造完成,其钻井深度可达 12 000 米。

**材料二** 右图为岩石圈部分构造图。

- (1)图中形成人类赖以生存和发展的自然环境的地球外部圈层有哪些?



- (2)①②两部分构成地壳,写出④分界面的名称。
- (3)据图写出“大连开拓者号”钻探到最大深度时的地层序号、名称。

互动评价

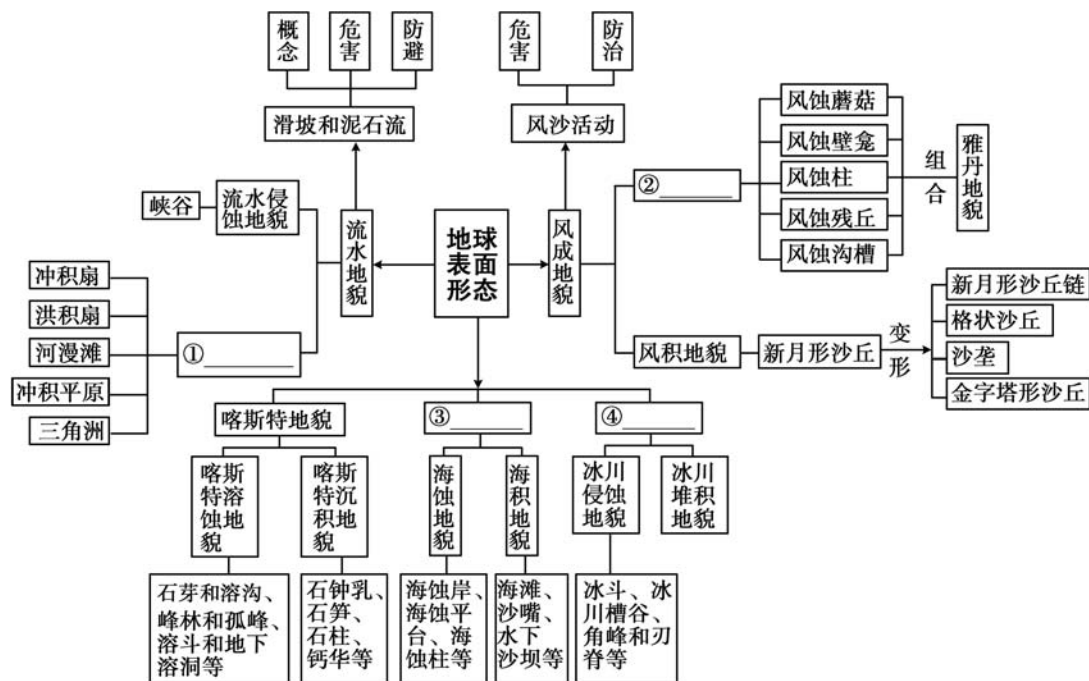
	学习时间	作业质量	学习态度	学习效果	我的疑惑
自我评价		对_____题 错_____题	<input type="checkbox"/> 好 <input type="checkbox"/> 良好 <input type="checkbox"/> 一般	<input type="checkbox"/> 好 <input type="checkbox"/> 良好 <input type="checkbox"/> 一般	
家长评价					



主题二

地球表面形态

知识回顾



典例精析

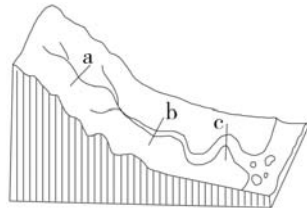
【例 1】读右图，回答下列问题。

(1)图中河流 a、b、c 三处主要的流水作用是 ( )

- A. 侵蚀、搬运、堆积 B. 搬运、侵蚀、堆积  
C. 侵蚀、堆积、搬运 D. 堆积、搬运、侵蚀

(2)图中 a 处最有可能形成的河流地貌是 ( )

- A. 洪积扇 B. 峡谷 C. 三角洲 D. 冲积平原



【解析】(1)本题考查流水作用的形式。一般来讲，流水作用在河流的上中游主要表现为侵蚀和搬运，在下游表现为堆积。根据位置分析，a 处在河流的上游，

以侵蚀作用为主；b处在河流的中游，以搬运作用为主；c处在河流的下游，以堆积作用为主。故选A项。(2)a处位于河流的上游，下蚀作用强烈易形成峡谷，B项正确。洪积扇形成于河流山谷出口处，A项错误。三角洲形成于河流入海口处，C项错误。冲积平原形成于河流中下游或河流流经盆地时，D项错误。

**【答案】**(1)A (2)B

**【例2】**沙产业是指积极利用沙漠、戈壁的土地和景观资源，在科学技术的支撑下，变“沙害”为“沙利”，向沙漠要效益的新兴产业。右图是宁夏沙坡头地区草方格沙障景观图。据此回答下列问题。



(1)构筑草方格沙障的主要目的是 ( )

- ①削减风力 ②改变气候类型 ③增加旅游景观 ④提高沙层含水量  
A. ①③                      B. ②③                      C. ①④                      D. ②④

(2)下列不适合在该地区发展的沙产业是 ( )

- A. 建材产业                      B. 沙漠旅游休闲业  
C. 光伏发电产业                      D. 沙生中药材产业

**【解析】**(1)本题考查风沙灾害的防治。设置草方格沙障主要是为了削减风力、提高沙层含水量。(2)该区域气候干旱，沙漠广布，适合发展沙漠旅游休闲业；西北地区光照充足适合发展光伏发电产业；有些沙漠中生长着中药植物，可利用其发展沙生中药材产业；沙漠地区不适合发展建材产业。

**【答案】**(1)C (2)A



## 一、选择题

读图，回答1~2题。

1. 形成图甲地貌的主要外力作用是 ( )

- A. 流水堆积作用  
B. 流水侵蚀作用  
C. 风力侵蚀作用  
D. 流水溶蚀作用



甲 长江三峡



乙 河漫滩

2. 下列关于图甲和图乙的说法,正确的是 ( )

- A. 都是河流侵蚀地貌
- B. 图甲中河谷的横剖面呈槽形
- C. 图乙凹岸侵蚀作用较强,凸岸堆积作用较强
- D. 图甲河段没有堆积作用,图乙河段没有侵蚀作用

3. 下列关于山体滑坡的预防及应对措施,叙述不正确的是 ( )

- A. 遇到山体滑坡时,可利用衣物裹住头部,顺着滚石方向快速向山下跑
- B. 无法逃离时,要迅速抱住身边的树木等固定物体
- C. 居住在灾害隐患点周边的人们,暴雨天要及时观察周围山体是否松动,主动转移避难
- D. 遇到山体滑坡时,可躲避在结实的障碍物下

4. 下图中,属于风蚀地貌的是 ( )



A



B




C



D

“雅丹”在维吾尔语中的意思是“陡壁的小丘”,广泛分布于干旱地区。右图为我国某地雅丹地貌景观图,读图完成5~6题。



5. 该地盛行风向可能是 ( )

- A. 西北
- B. 西南
- C. 正南
- D. 正北

6. 该图最可能拍摄于 ( )

- A. 西欧平原
- B. 甘肃敦煌
- C. 云南大理
- D. 亚马孙平原

7. 下列属于海岸堆积地貌的是 ( )



A



B



C



D

8. 与图示地区山体岩石、地貌类型相对应的是 ( )

- A. 石灰岩、海蚀地貌
- B. 花岗岩、喀斯特溶蚀地貌
- C. 花岗岩、流水堆积地貌
- D. 石灰岩、喀斯特溶蚀地貌



9. 下列属于冰川地貌遗迹的地区是 ( )

- ①波德平原 ②亚马孙平原 ③北美五大湖地区 ④华北平原

- A. ①②
- B. ②③
- C. ①③
- D. ③④

10. 下列地貌与形成原因对应关系正确的是 ( )

- A. 黄土高原沟壑纵横——风力侵蚀
- B. 云南的路南石林——冰川侵蚀
- C. 长江三角洲——流水堆积
- D. 挪威的峡湾海岸——流水侵蚀

## 二、非选择题

11. 阅读图文资料,回答下列问题。

一位澳大利亚的游客在博客中写下这样一段话:这里的“十二使徒岩”像哨兵一样站立在陡峭的石灰岩悬崖之前,守卫



甲



乙

着澳大利亚大陆。这些宛如“十二使徒”的石柱群,是大自然造就的“海岸雕塑”。

日复一日,年复一年,随着岁月的洗礼,原来的“十二使徒”现在只余下七个……

(1)乙图与甲图比较,指出其明显变化并说明变化的自然原因。

(2)推测随着时间的推移,“十二使徒岩”海岸地带未来将会发生的自然变化。

12. 阅读图文资料,完成下列题目。

地表每时每刻都受到外力作用的塑造,风力、流水等外力在不断地塑造着地表形态。右图是我国西北地区常见的地貌景观。



(1) 写出形成图示地貌的主要外力作用。

(2) 推测图示景观所在区域的气候特征。

(3) 说出该景观的地貌类型名称并简述其形成过程。

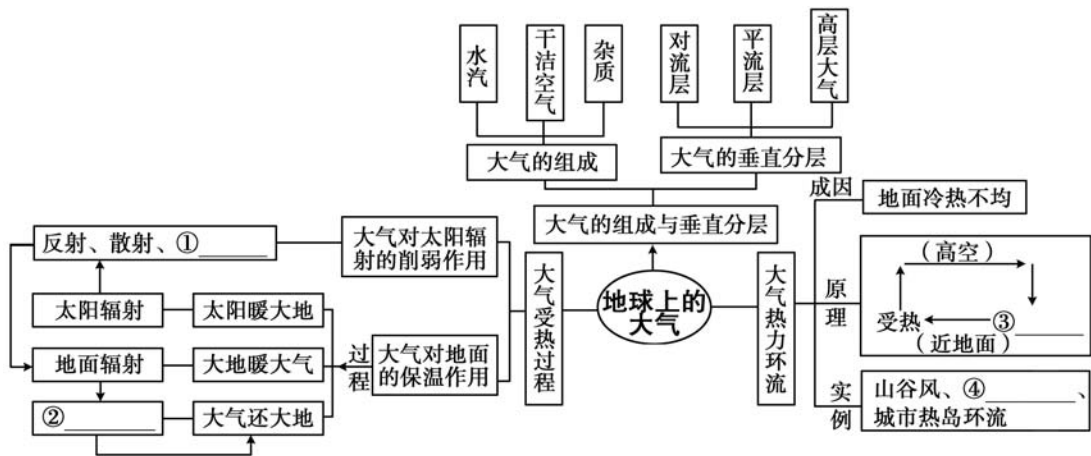
互动评价

	学习时间	作业质量	学习态度	学习效果	我的疑惑
自我评价		对_____题 错_____题	<input type="checkbox"/> 好 <input type="checkbox"/> 良好 <input type="checkbox"/> 一般	<input type="checkbox"/> 好 <input type="checkbox"/> 良好 <input type="checkbox"/> 一般	
家长评价					



# 主题三 地球上的大气

## 知识回顾



## 典例精析


【例1】读图文材料，回答问题。

材料一 “中星2D”卫星于2019年1月11日1时11分在西昌卫星发射中心发射成功。“中星2D”卫星是我国研制的通信广播卫星，可为全国广播电台、电视台、无线发射台和有线电视网等机构提供广播电视及宽带多媒体等传输服务。

材料二 右图为大气垂直分层示意图。

(1) A是\_\_\_\_\_层，该层气温随高度的变化特点是\_\_\_\_\_。

(2) B是\_\_\_\_\_层，该层气流平稳，适合\_\_\_\_\_飞行。



(3)我国发射的“中星 2D”卫星运行期间,主要是在大气中的\_\_\_\_\_中运行,其返回时,在距地面 1 000 米的高度内所经历的气温变化特点是\_\_\_\_\_。

**【解析】**从图中各层高度数值可以看出,A 是对流层,B 是平流层,50 千米以上是高层大气。(1)读图可知,A 为对流层,气温随高度的增加而降低。(2)读图可知,B 为平流层,平流层内大气平稳,天气晴朗,有利于航空飞机飞行。(3)“中星 2D”卫星是通信广播卫星,而在 60~500 km 的高空有若干电离层,电离层能反射无线电波,故“中星 2D”卫星主要在高层大气中运行;读图可知,距离地面 1 000 米的高度内,气温随高度降低逐渐升高。

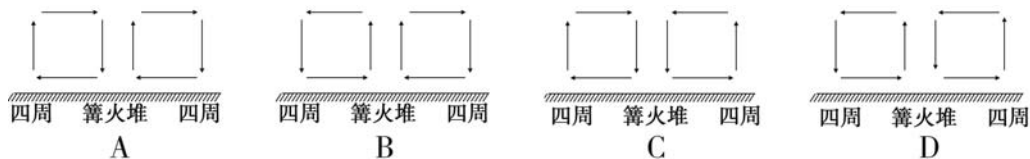
**【答案】**(1)对流 气温随高度的增加而降低 (2)平流 航空飞机 (3)高层大气 气温逐渐升高

**【例 2】**坝上草原的篝火晚会是最吸引人的旅游项目,参与晚会的游客发现,篝火越大,烟气上升越高。据此回答下列问题。

(1)“篝火越大,烟气上升越高”的主要原因是篝火附近 ( )

A. 风力大      B. 亮度大      C. 气温高      D. 气压高

(2)下列能够反映篝火及其周边烟气运动情况的是 ( )



**【解析】**(1)点燃篝火,人为制造了同一水平面的温度差异,会形成小型的热力环流。篝火越大,附近温度越高,烟气上升越高。故 C 正确。(2)篝火中心温度高,气流上升;周边温度低,气流下沉。近地面的空气从气压较高的四周流向气压较低的篝火,高空空气则从气压较高的篝火上空流向气压较低的篝火周边上空,从而形成了热力环流。

**【答案】**(1)C (2)B

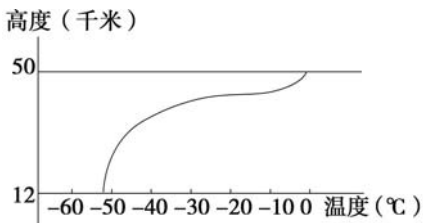
学以致用

一、选择题

1. 人类活动造成的大气污染已导致大气中一些成分的比例发生明显变化,具体表现在 ( )

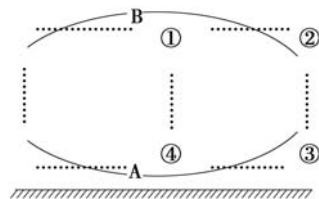
- A. 臭氧增多
- B. 氧气增多
- C. 水汽增多
- D. 二氧化碳含量增加

读地球大气的垂直分层(部分)示意图,回答 2~3 题。



2. 从大气垂直分层看,图示大气层是 ( )
  - A. 中纬度的平流层
  - B. 低纬度的对流层
  - C. 高纬度的对流层
  - D. 高纬度的平流层
3. 该层大气 ( )
  - A. 随高度增加,温度增幅变小
  - B. 能够大量吸收紫外线长波辐射
  - C. 以水平运动为主,有利于飞机飞行
  - D. 受强烈的太阳辐射呈电离状态
4. 逆温对沙尘天气有抑制作用,主要是由于逆温 ( )
  - A. 减弱了空气下沉运动
  - B. 增加了大气降水频率
  - C. 降低了地面升温速率
  - D. 减弱了空气对流运动
5. 关于地面辐射和大气逆辐射,下列叙述不正确的是 ( )
  - A. 地面辐射与下垫面性质有关
  - B. 地面温度越高,地面辐射越弱
  - C. 空气湿度越低,大气逆辐射越弱
  - D. 空气湿度大、云量多,大气逆辐射强
6. 关于大气的热力作用,说法正确的是 ( )
  - A. 云层越厚,反射作用越弱
  - B. 水汽和二氧化碳吸收红外线,有保温作用
  - C. 天空呈现蔚蓝色是因为可见光中的蓝色光最容易被大气吸收
  - D. 臭氧强烈吸收可见光,被称为地球的“保护伞”

右图为近地面与高空的大气热力环流示意图,A、B为等压面。据此完成 7~8 题。



7. 图中①②③④四地中,气压值排序正确的是 ( )
  - A. ①>②>③>④
  - B. ④>③>②>①
  - C. ③>④>①>②
  - D. ④>③>①>②

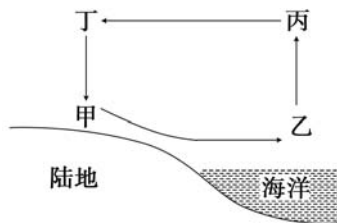
8. 图中①②③④间气流运动方向正确的是 ( )

- A. ①→②      B. ④→③      C. ①→④      D. ③→②

右图为海陆风示意图,读图完成9~10题。

9. 甲、乙、丙、丁四处,气压最高的是 ( )

- A. 甲      B. 乙  
C. 丙      D. 丁

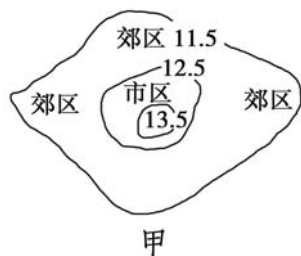


10. 此图表示的昼夜状况和风向是 ( )

- A. 白天、海风      B. 夜晚、海风      C. 夜晚、陆风      D. 白天、陆风

## 二、非选择题

11. 读北京市近地面多年平均气温分布图(图甲,单位:°C)和北京城市热岛环流模式示意图(图乙),根据所学知识回答下列问题。

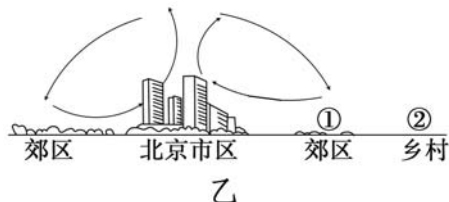


(1)观察图甲,北京市近地面多年平均气温的

分布特点是\_\_\_\_\_ ,  
这种分布特点的主要影响因素有

\_\_\_\_\_。(多选)

- A. 市区人口集中、建筑物密集  
B. 市区的降水量多  
C. 郊区空气中的尘埃多  
D. 郊区绿地多

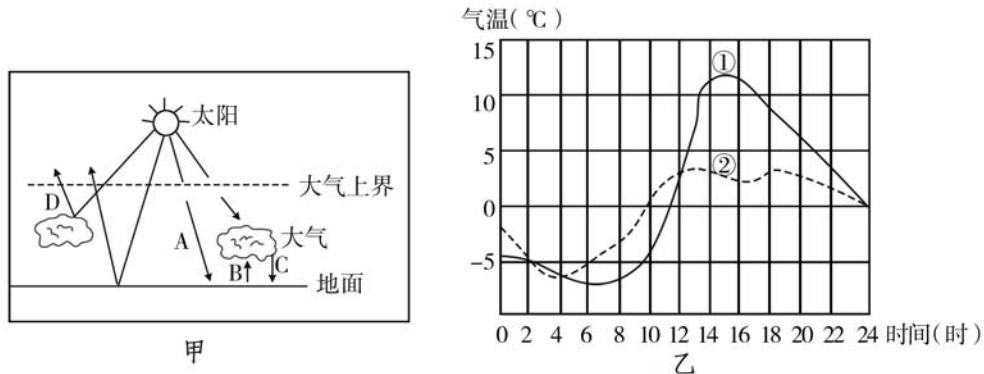


(2)根据城市热岛环流的大气运动特点,你认为北京市规划的造林地点应选在图乙①②两地中的\_\_\_\_\_ (填序号)地。植树造林对北京市环境治理的最主要作用是\_\_\_\_\_。

- A. 美化环境      B. 净化空气      C. 保持水土      D. 涵养水源

(3)北京市要把大气污染严重的某大型企业从城区迁出。根据城市热岛环流的特点,你认为最适合该企业的新厂址应选在图乙①②两地中的哪一地?请简述理由。

12. 图甲为大气受热过程示意图,图乙为某地晴天和阴天气温日变化曲线图,读图回答下列问题。



- (1) 低层大气主要的热量来源是\_\_\_\_\_ (填字母+名称);  
对地面起到保温作用的是\_\_\_\_\_ (填字母+名称)。
- (2) 我国青藏高原与四川盆地纬度相差不大,但青藏高原年太阳总辐射量却比四川盆地高得多,根据大气的受热过程原理进行解释。
- (3) 图乙两条曲线中,昼夜温差较小的是\_\_\_\_\_ (填序号),该曲线表示\_\_\_\_\_ (晴天/阴天)的气温变化状况。根据大气受热过程原理,解释该天气状况下昼夜温差较小的原因。

互动评价

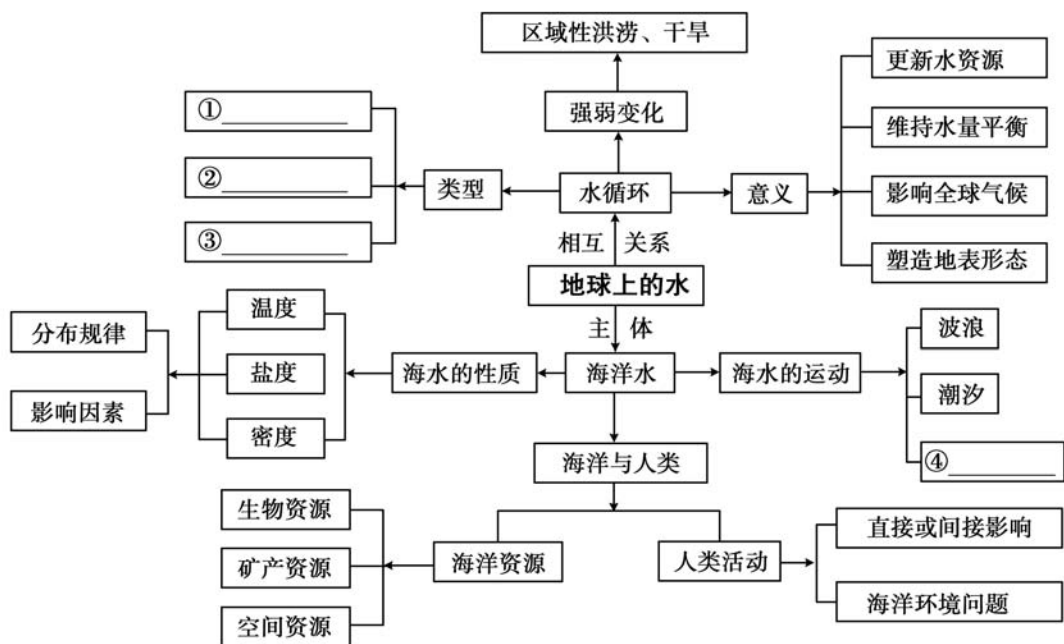
	学习时间	作业质量	学习态度	学习效果	我的疑惑
自我评价		对_____题 错_____题	<input type="checkbox"/> 好 <input type="checkbox"/> 良好 <input type="checkbox"/> 一般	<input type="checkbox"/> 好 <input type="checkbox"/> 良好 <input type="checkbox"/> 一般	
家长评价					



主题四

地球上的水

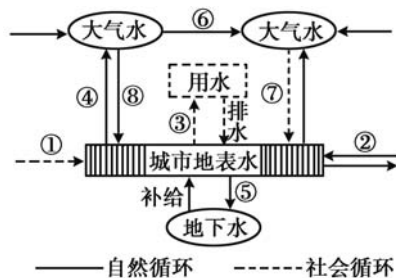
知识回顾



典例精析

【例1】有专家提出水循环可分为自然循环和社会循环两大类,图为某城市水循环示意图,读图回答下列问题。

- (1)图中①②③⑦分别表示 ( )
- A. 地表径流、地下径流、蒸发、人工降水
- B. 地下径流、地表径流、管道输水、跨流域调水



- C. 地表径流、跨流域调水、蒸发、人工降水
- D. 跨流域调水、地表径流、管道输水、人工降水

(2)关于人类对城市水循环影响的叙述,正确的是 ( )

- A. 用透水材料改造水泥路面,可以增加⑤
- B. 大量开采地下水,可以增加④
- C. 污水回收利用,可以减少⑧
- D. 城市绿地建设,可以减少⑥

**【解析】**(1)箭头①②⑦都为城市地表水来源,其中⑦来自大气水,且为社会循环,可能为人工降水;①为社会循环,②为自然循环,所以可判断①为跨流域调水,②为地表径流;③表示城市地表水变成用水的过程,判断③为管道输水。D正确。

(2)城市是硬地地面,城市建设使地表水增加,地下水减少,用透水材料改造水泥路面,可以增加下渗⑤,A正确;④为地表水蒸发,大量开采地下水,不可能增加④,B错误;⑧为大气降水,污水回收利用与大气降水关系不大,C错误;城市绿地建设,增加城市蒸发量,可以增加水汽输送⑥,D错误。A正确。

**【答案】**(1)D (2)A

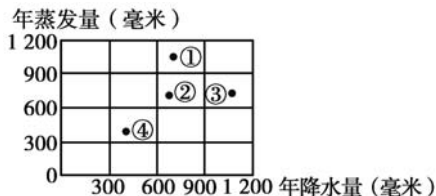
**【例 2】**图中四处皆位于海洋上。读图,回答下列问题。

(1)仅从图中信息看,表层海水盐度最大的应该是 ( )

- A. ①
- B. ②
- C. ③
- D. ④

(2)实地观察发现,上题答案并不是表层海水盐度最大的点,而且该地盐度有明显的季节变化,原因最可能是 ( )

- A. 纬度较高
- B. 暖流经过
- C. 河水注入
- D. 海水结冰与融冰

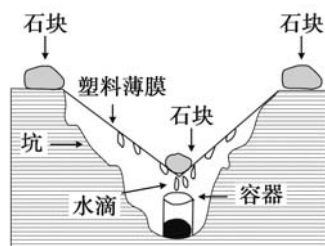


**【解析】**(1)本题考查海水盐度的影响因素。影响表层海水盐度的因素主要是蒸发量和降水量,蒸发量大于降水量,海水的盐度会比较大。盐度最大的应为蒸发量与降水量差值最大且蒸发量大于降水量的区域。由图可知,①符合,故选A项。(2)①地表层海水盐度具有明显的季节变化,原因可能为河水注入、海水的结冰与融冰。该地蒸发量较大,纬度应较低,海水可能没有结冰现象,故选C。

**【答案】**(1)A (2)C

一、选择题

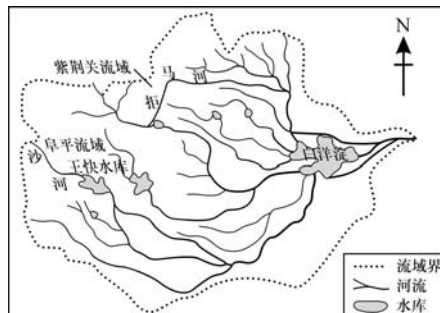
读某地理考察小组在沙漠地区利用“日光蒸馏法”取水示意图,回答1~2题。



1. 该方法揭示了水循环的主要动力包括 ( )  
 ①风力 ②重力 ③太阳能 ④温室效应  
 A. ①②                      B. ②③                      C. ①④                      D. ③④
2. 该方法可以模拟水循环的环节主要有 ( )  
 ①蒸发 ②水汽输送 ③大气降水 ④地下径流  
 A. ①④                      B. ①③                      C. ②③                      D. ②④

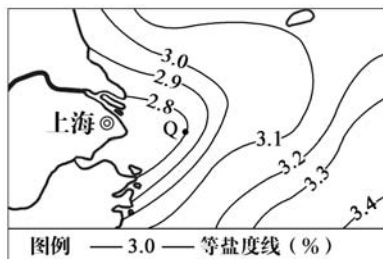
读华北海河某支流流域图,回答3~4题。

3. 下列不属于该河中下游地区多洪涝灾害的原因的是 ( )  
 A. 降水集中                      B. 地势低平  
 C. 水库较多                      D. 支流众多
4. 若图示区域雨季出现时间正常,则下列有关该区域洪涝灾害危害的叙述,错误的是 ( )  
 A. 淹没村庄,造成人员伤亡、财产损失  
 B. 淹没耕地,造成冬小麦减产或绝收  
 C. 冲毁公路、铁路,导致交通中断  
 D. 冲毁供水、供电设施,导致停水、停电



读图回答5~6题。

5. 图中,影响等值线向外海凸出的主要因素是 ( )  
 A. 降水                      B. 暖流  
 C. 寒流                      D. 径流
6. 在等值线的年内变动中,Q点(2.8等值线上的最东点)距大陆最近的时段是 ( )  
 A. 2月                      B. 5月                      C. 7月                      D. 10月

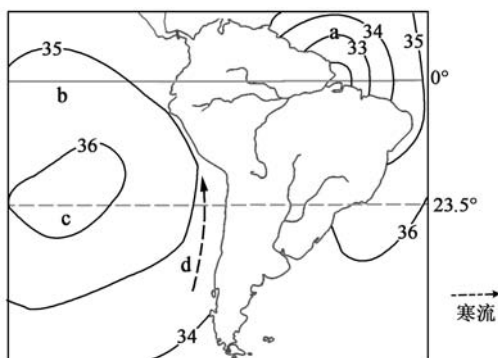


海洋水域占地球表面积的70%以上,海洋中蕴藏着丰富的生物资源。随着世界人口的增加,人类加速了对海洋生物资源的开发。如果开发过度,将会导致海洋生物资源的枯竭。据此回答7~8题。

7. 要使海洋生物资源可持续利用,就必须保持海洋生态系统的动态平衡。对一个平衡的生态系统来说,下列叙述错误的是 ( )
- A. 具有一定的自动调节能力                      B. 能量流动与物质循环保持动态平衡
- C. 植物与动物的数量相等                         D. 生物种群之间相互制约、相互协调
8. 下列开发和保护海洋鱼类资源的措施中,符合可持续发展的有 ( )
- ①全面禁止捕捞    ②实行休渔期,划分休渔区    ③控制渔网网眼大小    ④制定相应的法律法规
- A. ①②③                      B. ①②④                      C. ①③④                      D. ②③④

二、非选择题

9. 读南美洲附近海域海洋表面盐度分布图(单位:‰),回答下列问题。



- (1) b海区盐度比a海区盐度\_\_\_\_\_ ,  
主要原因是\_\_\_\_\_。
- (2) b海区盐度比c海区盐度低,主要是  
因为\_\_\_\_\_。
- (3) d海区盐度比c海区盐度低,主要原因是\_\_\_\_\_。
- (4) a、b、c、d四个海区的盐度由高到低排序为\_\_\_\_\_。

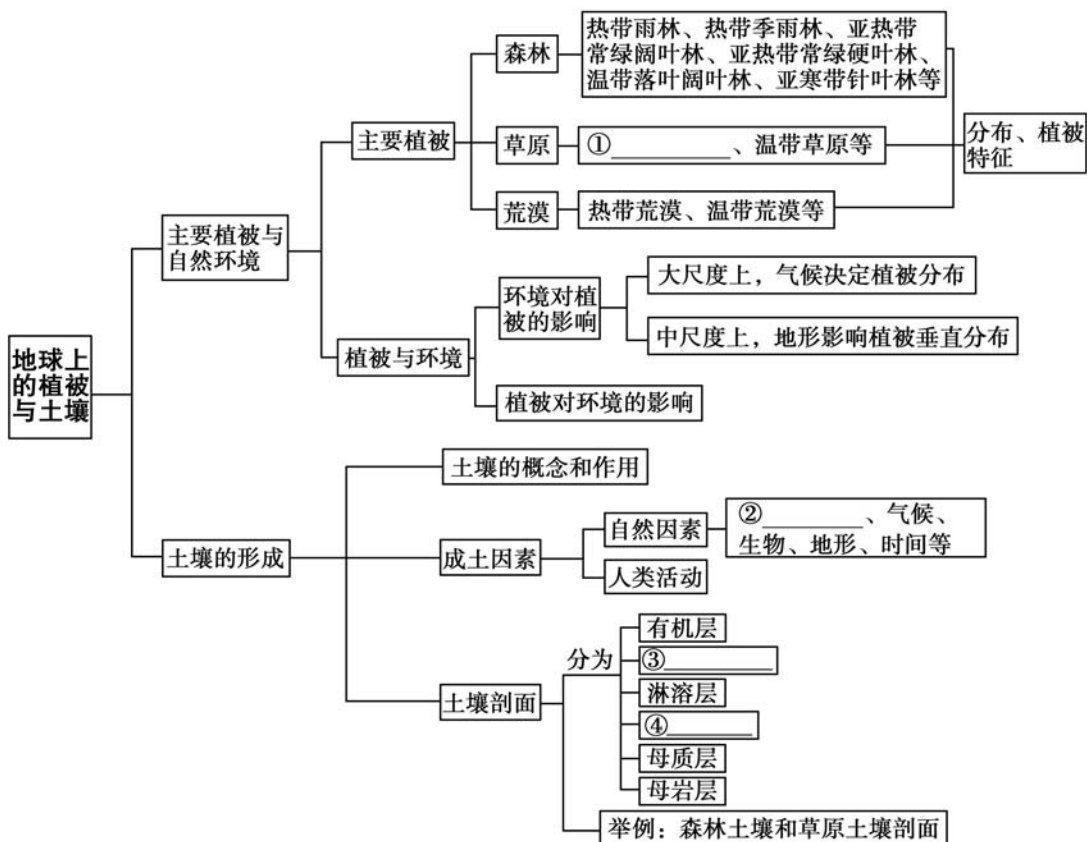
互动评价

	学习时间	作业质量	学习态度	学习效果	我的疑惑
自我评价		对_____题 错_____题	<input type="checkbox"/> 好 <input type="checkbox"/> 良好 <input type="checkbox"/> 一般	<input type="checkbox"/> 好 <input type="checkbox"/> 良好 <input type="checkbox"/> 一般	
家长评价					

主题五

地球上的植被与土壤

知识回顾



典例精析

【例1】猴面包树是非洲热带草原上一种非常奇特的常绿树种。读图, 回答下列问题。



- (1) 图示树木属于 ( )
- A. 乔木                  B. 灌木                  C. 草本植物                  D. 藤本植物
- (2) 不属于热带草原特征的是 ( )

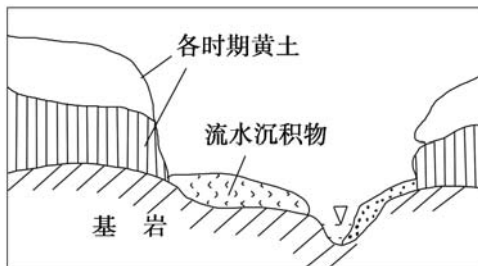


- A. 草本植物发达  
B. 星散分布着旱生乔木  
C. 乔木树枝较少  
D. 湿季葱绿

**【解析】**第(1)题,猴面包树是非洲热带草原上一种常绿乔木,高大、粗壮。第(2)题,热带草原上乔木由于旱季的影响,树干多分枝。

**【答案】**(1)A (2)C

**【例2】**某科学家在黄土高原某地考察,研究土壤剖面时发现最上面是黄土,下面土壤发红,最下面含有大量的鹅卵石。右图为黄土高原地区某沟谷剖面图,读图完成下列问题。



- (1) 鹅卵石的存在说明在黄土形成之前,这里的地理环境是 ( )  
A. 荒漠      B. 水乡      C. 森林      D. 草原
- (2) 土壤发红反映当时的气候特点是 ( )  
A. 炎热干燥      B. 温暖湿润      C. 寒冷潮湿      D. 寒冷干燥

**【解析】**本题考查地理环境特征的判断。(1)根据材料可知,该地区的土壤剖面最上面是黄土,下面土壤发红,最下面含有大量的鹅卵石,且图中有流水沉积物。鹅卵石的存在说明在黄土形成之前,这里的流水作用较强,地理环境应为水乡,B项正确。(2)在湿热气候条件下形成的土壤富含铁的氧化物,一般呈红色,所以土壤发红反映当时的气候特点是温暖湿润,B项正确。

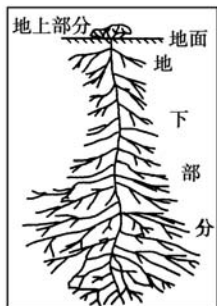
**【答案】**(1)B (2)B



### 一、选择题

植被的形态深受自然环境的影响。右图是某植物示意图。读图回答1~2题。

1. 该植被生长地区的自然环境最突出的特征是 ( )  
A. 干旱      B. 湿润  
C. 寒冷      D. 炎热



2. 随着全球变暖,当地蒸发加剧,该类植被最可能发生的变化是 ( )
- A. 地上部分植株变高大                      B. 地上部分叶片变大  
C. 地下部分向更深处生长                      D. 地下部分缩小减少

“我看不到春花,看不到秋叶,没有季节之流转……色彩、植被、山脉、村落及整个大地,都毫无变化,让我失去了时间意识。在这里,雨直直地下来,烟缕垂直地升起。”据此完成 3~4 题。

3. 符合上文描述的地点是 ( )
- A. 撒哈拉地区      B. 西欧地区      C. 南极地区      D. 马来群岛
4. 当地的自然植被类型是 ( )
- A. 荒漠              B. 雨林              C. 落叶林              D. 针叶林

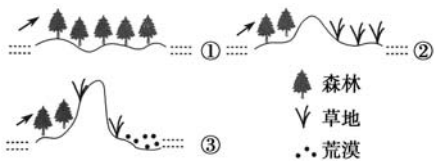
土壤既是自然地理环境的一个要素,也是反映自然地理环境整体性的一面“镜子”。结合所学知识,完成 5~6 题。

5. 土壤形成的物质基础是 ( )
- A. 成土母质      B. 土壤质地      C. 生物              D. 基性岩
6. 生物与土壤关系密切,下列叙述正确的是 ( )
- A. 生物为土壤形成提供最基本的矿物质  
B. 植物不能为土壤提供矿物质  
C. 动物不能为土壤提供有机质  
D. 微生物主要通过对有机质分解、转化及腐殖质的合成,促进土壤发育

20 世纪 30 年代,美国中西部大草原过度开垦、放牧,造成频繁的“黑风暴”,刮走了 3 亿吨尘土。据此完成 7~8 题。

7. “黑风暴”现象出现的直接原因主要是 ( )
- A. 植被遭到破坏                      B. 地下水位下降  
C. 降水异常减少                      D. 温室效应加剧
8. “黑风暴”现象对我国北方农业发展的启示是 ( )
- A. 少耕免耕,维持土地生态系统的平衡  
B. 深翻扩耕,充分挖掘土地的生产潜力  
C. 施用绿肥,防止土壤肥力不断下降  
D. 退耕还林还草,优化农业生产结构

右图为自然地理要素变化过程图,①②③是变化的顺序。读图完成9~10题。



9. 引起图中地理环境演变的根本原因是 ( )
- A. 海陆位置      B. 大气环流      C. 地壳运动      D. 人类活动
10. 引发图示地区东侧从森林→草原→荒漠演变的主要地理要素是 ( )
- A. 热量      B. 水分      C. 地形      D. 光照

## 二、非选择题

11. 读我国东部沿海某城镇示意图,回答图中数码处人类开发利用不当产生的问题。

(1)①处林区过度采伐森林→\_\_\_\_\_→  
水土流失→\_\_\_\_\_→洪涝灾害。

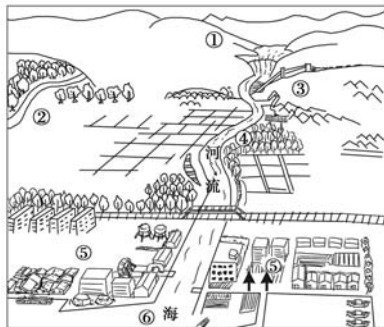
(2)②处林区修建旅游设施和道路→\_\_\_\_\_  
\_\_\_\_\_→水土流失。

(3)③处上游用水量剧增→河流径流量\_\_\_\_\_  
→河流自净能力减弱。

(4)④处河沙开采过量→河床堤岸\_\_\_\_\_  
→河岸后退→影响防汛。

(5)⑤处城市过量开采地下水→\_\_\_\_\_→海水入侵。

(6)⑥处河流径流量减少、海水入侵→河口\_\_\_\_\_→航道变浅。



## 互动评价

	学习时间	作业质量	学习态度	学习效果	我的疑惑
自我评价		对_____题 错_____题	<input type="checkbox"/> 好 <input type="checkbox"/> 良好 <input type="checkbox"/> 一般	<input type="checkbox"/> 好 <input type="checkbox"/> 良好 <input type="checkbox"/> 一般	
家长评价					

## 假期总结测评卷

(地理)

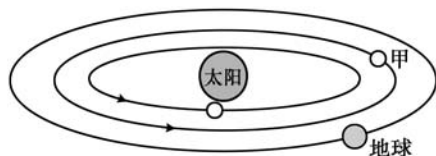
满分:100分 时量:90分钟

### 一、选择题(每小题3分,共60分)

读图,完成1~2题。

1. 甲天体是 ( )

- A. 水星                      B. 金星  
C. 火星                      D. 木星



2. 与甲天体相比,地球存在生命的条件有 ( )

- ①地球上具有适宜的温度    ②具有适合生物生存的大气    ③有液态水    ④绕日公转方向与甲天体相反

- A. ①②③                      B. ①②④                      C. ①③④                      D. ②③④

3. 右图为某天文爱好者拍摄的日全食照片。照片中肉眼所能看到的太阳外部圈层及其相应的太阳活动可能是 ( )

- A. 光球层、黑子                      B. 日冕层、耀斑  
C. 色球层、太阳风                      D. 色球层、耀斑



4. 地震波横波(S波)和纵波(P波)的传播速度在莫霍面处发生的显著变化是 ( )

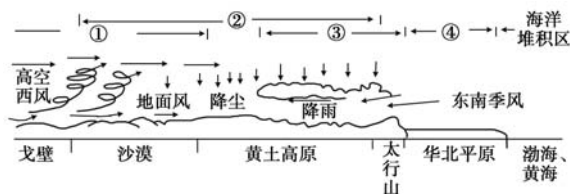
- A. S波、P波的波速都明显增加  
B. S波完全消失,P波的波速突然下降  
C. S波、P波的波速都明显下降  
D. P波完全消失,S波的波速突然下降

5. 联系地球大气圈、水圈、岩石圈和生物圈,能促进各圈层间物质迁移和能量交换的是 ( )

- A. 水循环                      B. 大洋环流                      C. 大气环流                      D. 海陆变迁

6. 下图为我国北部地区主要外力作用示意图。图中①②③④各区域的主要外力作用依次是 ( )

- A. 风力沉积、风力侵蚀、流水沉积、流水侵蚀
- B. 风力沉积、风力侵蚀、流水侵蚀、流水沉积
- C. 风力侵蚀、风力沉积、流水侵蚀、流水沉积
- D. 风力侵蚀、风力沉积、流水沉积、流水侵蚀



7. 右图为某一沉积层内的沉积物(颗粒)示意图,该沉积物的成因可能是 ( )

- A. 流水沉积作用
- B. 冰川沉积作用
- C. 海浪沉积作用
- D. 风力沉积作用



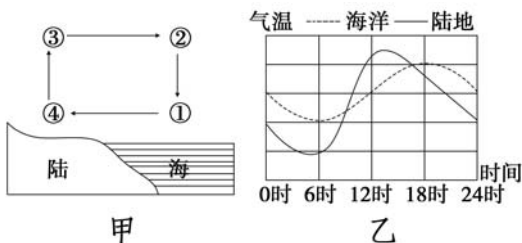
8. 2022年6月5日,搭载神舟十四号载人飞船的长征二号F遥十四运载火箭在酒泉卫星发射中心发射升空。火箭从发射至万米高空,经历的大气层气温 ( )
- A. 一直升高
  - B. 一直降低
  - C. 先降低,后升高
  - D. 先升高,后降低

读大气受热过程示意图,其中箭头表示不同的辐射。据此完成9~10题。



9. 近地面大气主要的、直接的热源是 ( )
- A. ①
  - B. ②
  - C. ③
  - D. ④
10. 人类活动排放的二氧化碳增多,会导致 ( )
- A. ①减弱
  - B. ②增强
  - C. ③增强
  - D. ④减弱

海子写过一首诗《面朝大海,春暖花开》。现在影视剧中往往让女主角面朝大海,在海风吹拂下让头发向后飘逸以反映女主角的快乐心情。甲、乙两图分别是北半球某滨海地区海陆环流图和气温变化特征图,读图回答11~12题。





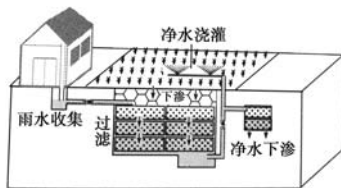
11. 甲图中①②③④四处气温最高的是 ( )

- A. ①处                      B. ②处                      C. ③处                      D. ④处

12. 为了完成材料中女主角头发向后飘逸的场景,应选择哪个时段完成拍摄 ( )

- A. 16 时至次日 8 时                      B. 8 时至 16 时  
C. 18 时至次日 6 时                      D. 6 时至 18 时

上海市建设“雨水银行”,在雨季过滤并储蓄雨水,非雨季将净化后的雨水用于浇灌绿地。读雨水利用过程示意图,完成 13~14 题。



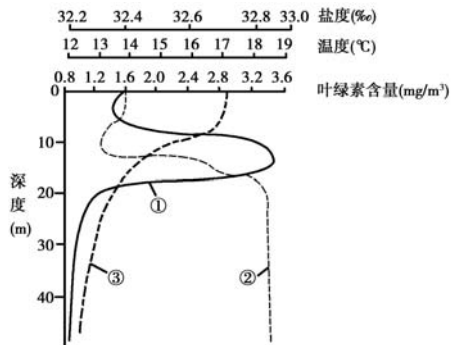
13. 在雨季过滤并储蓄雨水,影响的水循环环节主要是 ( )

- A. 水汽输送                      B. 降水  
C. 植物蒸腾                      D. 下渗

14. 上海市建设“雨水银行”,可以 ( )

- ①减少内涝发生    ②改善生态环境    ③提高江河水位    ④加剧热岛效应  
A. ①②                      B. ①④  
C. ②③                      D. ③④

右图是长江口外水域叶绿素含量、水温  
和盐度垂直分布的某次监测数据合成图。  
叶绿素含量在水深 10~20 米之间先升后  
降。据此回答 15~17 题。



15. 图中①②③曲线依次代表 ( )

- A. 盐度、温度、叶绿素含量  
B. 盐度、叶绿素含量、温度  
C. 叶绿素含量、盐度、温度  
D. 叶绿素含量、温度、盐度

16. 从图中可以看出 ( )

- A. 水深超过 10 米后,盐度随深度的增加持续升高  
B. 水深超过 10 米后,水温随深度增加持续降低

- C. 水深 15 米处,叶绿素含量、温度、盐度值均达到最高  
 D. 水深超过 20 米后,叶绿素含量随深度增加而升高
17. 此次监测所处的时节 ( )
- A. 长城内外——千里冰封,万里雪飘  
 B. 江淮平原——草长莺飞二月天  
 C. 燕赵大地——赤日炎炎似火烧  
 D. 太行群山——霜叶红于二月花
18. 对海洋资源的不合理开发,可能造成的后果是 ( )
- A. 围海造田,有可能引起海岸侵蚀  
 B. 过度开采海滨砂矿,会减少人工养殖海产品场所  
 C. 对鱼类过度捕捞,有助于减少生物对海洋造成的压力  
 D. 海产品受污染,会影响人体健康

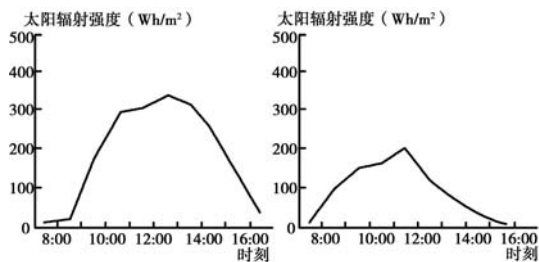
在不适合生长的季节里,树木处于休眠状态,到了春季(或某些地方的雨季),树木就重新开始生长了。新的细胞长在上一年度的树轮与树皮之间。刚开始的时候,新生细胞长得比较大,形成的是“早材”,随着季节的变化,以后长出的细胞就越来越小了,较小细胞的颜色也会逐渐变深,这时形成的是“晚材”。“晚材”与来年长出的“早材”之间会形成一道明显的界线,相邻两条界线之间的那部分木材,就形成了“树轮”,由于它代表树木生命中的一年,所以也称“年轮”,它是大自然的记录者。据此完成 19~20 题。

19. 影响树木“年轮”出现宽窄变化的因素主要是 ( )
- A. 风力强弱      B. 水热条件      C. 海拔高低      D. 土壤肥力
20. 在自然界,有些地区的树木“年轮”不明显甚至没有,这些树木所属的森林最有可能是 ( )
- A. 热带雨林      B. 亚热带常绿阔叶林  
 C. 温带落叶阔叶林      D. 亚寒带针叶林

## 二、非选择题(共 40 分)

21. 太阳辐射强度是指地面单位时间、单位面积获得的太阳辐射能量。下图示意某地连续两天太阳辐射强度变化,读图回答下列问题。(20 分)

(1) 据图归纳该地太阳辐射强度在一天中的总体变化特征。(6分)



某地连续两天太阳辐射强度变化

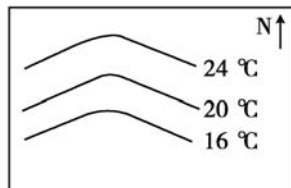
(2) 比较前后两天太阳辐射强度的总体差异,并说出可能的影响因素。(7分)

(3) 结合大气的受热过程,分析前后两天最高气温出现差异的原因。(7分)

22. 读某海域海水等温线图,回答下列问题。(20分)

(1) 该海域属于\_\_\_\_\_ (填“南”或“北”)半球,理由是\_\_\_\_\_。(6分)

(2) 如果该海域等温线的弯曲是由洋流引起的,那么按照性质分,该洋流属于\_\_\_\_\_流,理由是\_\_\_\_\_。



\_\_\_\_\_。(6分)

(3) 在图上画出该洋流的流向。(4分)

(4) 该洋流对沿岸地区气候的影响表现在\_\_\_\_\_。(4分)

互动评价

	学习时间	作业质量	学习态度	学习效果	我的疑惑
自我评价		对_____题 错_____题	<input type="checkbox"/> 好 <input type="checkbox"/> 良好 <input type="checkbox"/> 一般	<input type="checkbox"/> 好 <input type="checkbox"/> 良好 <input type="checkbox"/> 一般	
家长评价					

## ◎开场白

# 生活是一本精彩的书

假日是一叶扁舟，渴望伴你远航；假日是一枝蜡梅，期待为你传递春的讯息；假日是一首歌，盼望与你自由欢唱……

暂别紧张的校园学习，开启你的假日之旅，别忘了带上散发清香的《假日知新》。可以确信，这是一本充满惊喜、值得期待的假期作业。

**预习知新** 为你创设了富含趣味的情境预习，激发你对新学期、新知识的期待和向往；

**知新悦读** 为你挑选出一系列有魅力的文章，吸引你去思考与探究，获取新知识；

**活动设计** 为你设计了新颖有趣且富有挑战性的实践活动，促使你活学活用课堂知识，架起一座学习与生活的桥梁；

**生活探秘** 为你精选有意味的政治现象、人文风俗、地理景观进行生活探秘，让你发现生活之趣，体验探秘之味，学有所得，学有所思，学有所趣；

**图说天下** 为你展现一片多彩生活的天空，用一张张生动的图片，给你带来新鲜时政要闻和全球轶事趣闻的最直观感受。

生活是一个丰富多彩的大课堂，这里有一张张彩色的稿笺，愿你能够在那些彩笺上，用你的理想霞光去谱写青春的诗篇。

生活是一片静谧祥和的沙滩，这里有一枚枚色彩斑斓的贝壳，愿你能快乐拾起，发掘隐藏其中的那一颗颗耀眼的珍珠。

生活是一本精彩的书，他人的注释代替不了自己的理解，愿你能用心观察和领悟，勇于探索，最终能有所发现、有所创造。

希望《假日知新》陪伴你开心生活，尽情体验，度过一个快乐而充实的假期！

预习知新

# 新航路

当马可·波罗游历东方各国回到家乡后，他把这些年的所见所闻整理成了《马可·波罗行纪》一书，书中绘声绘色地描写了中国元代的繁盛景象，极尽赞美之词。随着此书在欧洲大陆的争相传阅和翻印，神秘的东方、富庶的中国令欧洲人为之神往，甚至不敢相信还有这样的世界。究竟这样一本神奇的书给达·伽马、哥伦布这些未来的航海家带来了怎样的梦想和勇气，我们无法准确估量，但至少，由此拉开了大航海时代的序幕。

## 世界的两端

自从丝绸风靡罗马后，欧洲人就知道了有一个神秘的东方王国的存在。早在15世纪以前，欧洲和亚洲就一直通过陆上丝绸之路有贸易往来，当时东方的香料、丝绸等在欧洲市场很受欢迎，但经过阿拉伯人和意大利人的转手后，价格一抬再抬而成为昂贵的奢侈品。更糟的是，1453年，东罗马帝国首府君士坦丁堡被奥斯曼土耳其人攻陷，土耳其人由此控制了亚欧商路的枢纽，他们的横征暴敛使正常的商业秩序遭到破坏，商品急剧减少，价格迅猛上涨，不仅东西方贸易几乎中断，欧洲人再也不能像他们的先辈那样通过波斯湾前往印度及中国了。这就迫使西欧各国纷纷将目光锁定在了大西洋上，企图寻找一条通达东方的新航路。



星盘



指向标

新航路开辟时使用的航海仪器

准确辨识方向的罗盘针、先进的地图绘制技术、高超的造船技术，在这些科技流传至欧洲之前，没有人真的可以实现一次全球冒险。从12世纪开始，欧洲人便开始制造用于航海的大型船只，1200年至1500年间，欧洲普通船舶的吨位普遍增加了一到二



倍。同时，中国发明的罗盘针经由阿拉伯人传入了欧洲，并在14世纪经过改造后得到了普遍使用。其他诸如六分仪、海图、三角帆、三桅帆船等工具或技术的飞速发展，使得欧洲人在准备寻找新航路的时候已经具备了可以大规模航海探险的客观物质条件。

另一方面，15世纪末，西班牙和葡萄牙都已经完成了政治上的统一和中央集权的进程，政府为了发展贸易、改善经济状况和扩大版图，大力支持开辟新航路的活动，不少封建贵族甚至成了优秀的探险者。

刚刚走过黑暗中世纪、开始文艺复兴的欧洲，对未知世界和神秘的东方文化充满着向往，中国的强大、富饶是他们难以想象的，而来自马可·波罗等东方游历者的见闻，更是让不少欧洲人意识到只有在那里才能实现自己的“黄金梦”，对资源、资本、财富和土地的渴望让他们早已迫不及待了。

### 目标——中国

首先发起大规模航海探险活动，第一个沟通了东西方联系的是葡萄牙。葡萄牙的地理位置为其海外扩张提供了便利，同时它又具有那个时代堪称强大的军事力量。



葡萄牙人要到达遥远的东方，首先需要探明相隔其间的非洲的情况。1487年，迪亚士在航行中因遭遇大风而意外绕过非洲西南端的好望角，到达非洲东海岸，为新航路的发现打下了基础。10年之后，航海家达·伽马率领舰队绕过了好望角，到达印度，海上东方新航路由此被发现。

1492年，获西班牙支持的哥伦布发现了美洲“新大陆”。1519—1522年，葡萄牙人麦哲伦率领的船队同样在西班牙的支持下完成了穿越大西洋、太平洋、印度洋再返回欧洲的环球旅行。然而，对于欧洲的航海家来说，中国依然是一片未知的土地。

1500年前后，新航路开辟，西方国家走上了殖民侵略道路，这个时期，欧洲的霸主是葡萄牙。1510年，葡萄牙侵略印度，在印度设立了殖民据点。1511年，葡萄牙攻占了大明朝贡国满刺加（马六甲）。正德十三年（1518年），葡萄牙终于同大明建立了联系，这是明朝第一次直接和西方国家接触。这一年葡萄牙国王的使节皮雷斯到了北京，他是第一个被正史明确记载的葡萄牙人。

1521年，正德皇帝驾崩，即位的嘉靖皇帝一口否决了葡萄牙人通商的请求，并下令将葡萄牙人驱逐出境。1522年，葡萄牙人在中葡屯门海战中惨败，转而进行走私贸易。当时葡萄牙国王下令，所有从东印度回来的商船所载货物的三分之一必须是瓷器。从此，中国瓷器开始源源不断地流向欧洲，成为当地最高档的中国物品。

直到1557年，葡萄牙才得以入居澳门，终于取得了在中国的立足之地，并慢慢将这里变成了其在东方的贸易基地。然而，葡萄牙并未能长久独享东西方贸易的高额利润，随后而来的西班牙、荷兰、英国、法国、瑞典等国家，也在新航路中找到了自己的位置。中国的瓷器，开始沿着这条航路越走越远……



下学期，我们将学到与新航路的开辟有关的知识，新航路的开辟是人类历史从分散走向整体过程中的重要节点。通过上文，你知道新航路的开辟对世界的影响有哪些吗？请查找相关资料。

# 《中华人民共和国 未成年人保护法》的 新变化



2020年10月17日，十三届全国人大常委会第二十二次会议高票通过新修订的《中华人民共和国未成年人保护法》，该法自2021年6月1日起施行。

此次新修订的未成年人保护法在现行法律的基础上，增加了多项内容，条文从72条增至132条。此次修订在强化法律责任、加强未成年人权益保护等方面亮点颇多。

## 增设发现未成年人权益受侵害时强制报告制度

●国家机关、居民委员会、村民委员会、密切接触未成年人的单位及其工作人员，在工作中发现未成年人身心健康受到侵害、疑似受到侵害或者面临其他危险情形的，应当立即向公安、民政、教育等有关部门报告。

●未履行报告义务造成严重后果的，由上级主管部门或者所在单位对直接负责的主管人员和其他直接责任人员依法给予处分。

## 增设密切接触未成年人行业从业人员准入资格制度

●国家建立性侵害、虐待、拐卖、暴力伤害等违法犯罪人员信息查询系统，向密切接触未成年人的单位提供免费查询服务。

●密切接触未成年人的单位招聘工作人员时，应当向公安机关、人民检察院查询应聘者是否具有性侵害、虐待、拐卖、暴力伤害等违法犯罪记录；发现其具有上述行为记录的，不得录用。

●密切接触未成年人的单位应当每年定期对工作人员是否具有上述违法犯罪记录进行查询。通过查询或者其他方式发现其工作人员具有上述行为的，应当及时解聘。



### 建立学生欺凌防控工作制度

●学校对学生欺凌行为应当立即制止，通知实施欺凌和被欺凌未成年学生的父母或者其他监护人参与欺凌行为的认定和处理；对相关未成年学生及时给予心理辅导、教育和引导；对相关未成年学生的父母或者其他监护人给予必要的家庭教育指导。

●对实施欺凌的未成年学生，学校应当根据欺凌行为的性质和程度，依法加强管教。对严重的欺凌行为，学校不得隐瞒，应当及时向公安机关、教育行政部门报告，并配合相关部门依法处理。

### 对性侵害、性骚扰未成年人行为，校方须及时报告

●法律规定，学校、幼儿园应当建立预防性侵害、性骚扰未成年人工作制度。

●对性侵害、性骚扰未成年人等违法犯罪行为，学校、幼儿园不得隐瞒，应当及时向公安机关、教育行政部门报告，并配合相关部门依法处理。

●对遭受性侵害、性骚扰的未成年人，学校、幼儿园应当及时采取相关的保护措施。

### 加强未成年人入住酒店登记管理

●明确规定住宿经营者保护未成年人的责任：旅馆、宾馆、酒店等住宿经营者接待未成年人入住，或者接待未成年人和成年人共同入住时，应当询问父母或者其他监护人的联系方式、入住人员的身份关系等有关情况；发现有违法犯罪嫌疑的，应当立即向公安机关报告，并及时联系未成年人的父母或者其他监护人。



从党的十八届四中全会对全面推进依法治国作出战略部署以来，我国制定和完善了一大批法律法规，为实现全面推进依法治国总目标打下了坚实的基础。“法者，治之端也。”下学期我们将要学到依法治国的相关知识，你可以提前了解一下我国在法治建设道路上的成就。

# 人口普查

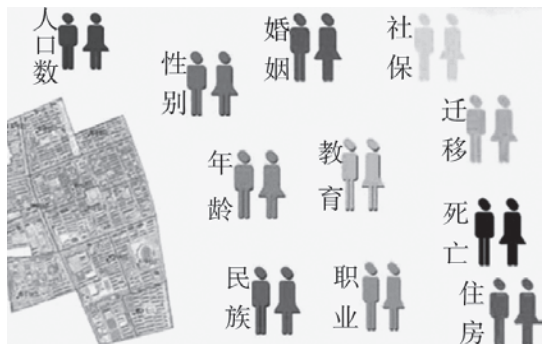


人口是经济社会发展的基础，人口普查是一项重要的国情调查，对国家管理、制定各项方针政策具有重要的意义。

中国的人口调查有近4 000年的历史，留下了丰富的人口史料。但是，具有近代意义的人口普查，在1949年以前只有两次：清宣统元年（1909年）进行的人口清查；民国十七年（1928年）国民政府试行的全国人口调查。前者多数省仅调查户数而无人口数，推算出当时中国人口约为3.7亿人，包括边民户数总计约为4亿人口。后者只规定调查常住人口，且没有规定标准时间。经过3年时间，也只对13个省进行了调查，其他未调查的省的人数只进行了估算。调查加估算的结果，全国人口约为4.75亿人。

中华人民共和国成立后，我国已成功进行七次全国人口普查，分别在1953年、1964年、1982年、1990年、2000年、2010年和2020年。前3次人口普查，是不定期进行的。根据《中华人民共和国统计法实施细则》和国务院的决定，自1990年开始改为定期进行，即每10年一次，在年号末位逢“0”年份举行。两次普查之间，进行一次简易人口普查。

第一次人口普查（1953年）的调查项目包括本户地址、姓名、性别、年龄、民族、与户主关系等6项，它在新中国历史上第一次查清了中国人口底数。第二次人口普查（1964年）增加了本人成分、文化





程度、职业3个调查项目。第三次人口普查（1982年）的调查项目增加到19项，还第一次使用了电子计算机进行数据处理。第四次人口普查（1990年）登记的项目共21项，是历次人口普查调查项目最多的一次。与前3次人口普查采取的设立普查登记站的办法相比，这次人口普查改为主要采取普查员入户查点询问、当场填报的方式进行。第五次人口普查（2000年）的普查项目增加到49项，并首次采用光电录入技术。第六次人口普查（2010年）是我国进入21世纪后进行的第一次全国范围的人口普查。这次人口普查使命重大，挑战空前——人口总量庞大，居住地域广阔；人口流动性强，锁定普查对象难；个人隐私保护意识增强，获得真实完整的数据难；首次普查外籍常住人口，沟通理解难。第七次人口普查（2020年）彻查人口出生变动情况以及房屋情况，2021年5月11日国家统计局发布人口数据。



下学期我们将学习到有关人口方面的知识，人口变化与自然条件、社会经济条件等有着密切联系。同学们在假期里通过查阅我国第七次人口普查的具体数据可以了解到我国现阶段人口有以下几大特征：一是我国人口进入低速增长阶段；二是人口出生率持续快速下滑，“少子化”将导致劳动力供给持续下降；三是老龄化率快速上升，未来十年的人口老龄化和社保压力巨大；四是人口持续向东部地区尤其是长三角和珠三角流入，东北三省人口流出现象突出；五是家庭户人口下降，养老和空巢老人问题凸显；六是性别比波动下降至历史低位水平，但男性仍高于女性。面对我国人口现阶段特征，你能思考一下其产生的原因吗？



知新悦读

# 千年书院 如何以文化人

文化薪火，书院相传。

书院文化是中华优秀传统文化的重要组成部分，书院精神为中华民族文化提供了强大的精神支撑和动力。作为一个社会组织机构，书院起源于唐朝，至南宋时发展成熟，经元、明、清直至近代，其文脉贯穿古今，是中华优秀传统文化的重要源头和载体。

## 岳麓书院：“惟楚有材，于斯为盛”

北宋开宝九年（976年），岳麓书院建立。南宋乾道元年（1165年），“东南三贤”之一的著名理学家张栻主教书院，一时群英骤至，人文荟萃，湖湘学派盛行。南宋乾道三年（1167年），朱熹不远万里从福建来到长沙，与张栻切磋学术，在此逗留两个月，就理学中的“中和”“太极”“仁德”等问题展开讨论。明末，王阳明等心学大师来书院讲学，“良知”之学一度成为中心议题，心学派与湖湘学派的交流发展，使得书院再现辉煌。



“中兴将相，什九湖湘”，一大批经世纬国之才在这里涌现。书院楹联“惟

楚有材，于斯为盛”，便是这种盛况的写照。思想家魏源，办洋务兴实业的曾国藩、左宗棠等清中后期叱咤风云的人物都深受湖湘学派经世致用之学的影响。

历史上，岳麓书院几经战火摧毁，几次于废墟上重建。朝代更迭，战火纷飞，每逢书院遇险，师生皆尽心筹措，竭力修复，只为守住中华传统文脉。

### 白鹿洞书院：“日月两轮天地眼，诗书万卷圣贤心”



白鹿洞书院位于江西庐山五老峰南。唐贞元年间，李渤隐居读书于此，因豢养一只白鹿，人称“白鹿先生”。至李渤为江州刺史，他创建台榭，命名“白鹿洞”。南宋淳熙六年（1179年），理学大家朱熹在江西为官时，亲临白鹿洞勘查北宋书院遗址，兴复白鹿洞书院。

朱熹在这里讲学著述，他总结前人办学所立规制，制定了《白鹿洞书院揭示》。这份揭示是白鹿洞书院的灵魂，也是后世学校教育的参考榜样。它提出了立教之目、为学之序、修身之要、处世之要和接物之要的基本准则，对后世书院教育影响深远。

### 鹅湖书院：“千古一辩”的时代回音

“鹅从天外飞来，藏修游息，返本开新，人文化成弥宇宙。湖自地心涌现，吞吐涵容，承先启后，书院论道贯古今。”

鹅湖书院位于江西省上饶市铅山县鹅湖镇，一场思想自由、兼容并包的“千古一辩”就发生在这里。

南宋淳熙二年（1175年），吕祖谦为调



和朱熹“理学”和陆九龄、陆九渊“心学”之间的理论分歧，使两种哲学观点“会归于一”，出面邀请陆九龄、陆九渊兄弟前来与朱熹会面，相约鹅湖进行学术交流。此后三天，双方就各自的哲学观点展开激烈辩论，场面盛极一时，史称“鹅湖之会”。

淳熙十五年（1188年），辛弃疾、陈亮在此“长歌相答，极论世事”，纵谈十日，共商抗金复国大计，是为“鹅湖之晤”。

“一会一晤”，让鹅湖书院成为“求同存异”思想的实践地。

### 嵩阳书院：“一立一叹”的文脉传承

嵩阳书院始建于北魏太和八年（484年），历史上曾是佛教、道教场所，五代后周时改为书院，成为儒学活动中心。

弘扬尊师重道精神的“程门立雪”即发生于此。“一日见颐，颐偶瞑坐，时与游酢侍立不去，颐既觉，则门外雪深一尺矣。”杨时为不打扰正在休息的儒师程颐，便在



旁边恭敬待立，及至程颐发觉时，门外的雪已积了一尺多厚了。后来，杨时学成南归之日，程颐目送杨时下山时意气风发的背影，不禁慨叹：“吾道南矣！”

程门立雪，“立”是学生对老师与真理的尊崇敬重；“吾道南矣”，“叹”的是老师对学生的希冀嘱托。这“一立一叹”，道出了老师与学生共为求道解惑而孜孜不倦的精神。嵩山高万尺，洛水流千秋。千年的嵩阳书院，始终吟诵着儒学大师的谆谆教诲与程门立雪的虔诚求学，其蕴含的尊师重道、立德树人的优良教育传统至今仍在传承。



# 为什么很少有人说

## “黄三角”



江河奔流中所裹挟的泥沙等杂质，在入海口处遇到含盐量较高的海水，凝絮淤积，逐渐成为河口岸边新的湿地，继而形成三角洲平原。

在我国，提到“长三角”“珠三角”，人们都会自然而然地想到长江三角洲和珠江三角洲附近的城市群和经济圈，但是我们的母亲河——黄河的入海口附近却没有形成大的城市或者城市群，这是什么原因呢？

在中国历史上，黄河是危害最大的河流之一。黄河的肆虐不仅表现在经常泛滥的水灾上，还有它的不稳定性，河道和入海口经常变迁。根据史料记载，战国初期的黄河应该是从天津市东南或东北入海，东汉至宋朝初期黄河从山东滨州东南入海，北宋时黄河从天津或者冀鲁之间入海，明朝时黄河改道更为频繁，直到光绪年间全线筑堤，才形成今天的黄河下游河道。我们现在所说的黄河三角洲，指的是1855年至今形成的三角洲，大致包括山东省滨州地区的一部分和东营市的全部。如果只用一个词来形容黄河三角洲，那就是“新鲜”，对于动辄以百万年计的大地貌来说，它就像个还在襁褓里的婴孩。

频繁改道、入海口的不断变迁，使得黄河三角洲无法形成一个固定的大型城市或城市群。除此之外，还有一个更重要的原因：黄河缺少航运价值。

长江自西向东有重庆、武汉、南京、上海等沿江城市，内河航运十分发达。




而相比之下的黄河却没有这个优势，一方面，北方内陆没有可用于出口海外的丰富物资，另一方面，从海外进口的货物大多是经天津，通过海河、京杭大运河和陆上交通运抵北方各地。

在海运上，“长三角”地区直面东海，有广阔的出海口，与世界沟通方便。“珠三角”地区也是直面南海，往南便是世界繁忙的海上通道，如此的地理优势促进了两个经济三角洲的发展。而黄河入海口在我国的内海当中，没有深水良港，出海通道还要绕行山东半岛，影响了当地正常的港口发展，东营港规模远远不及山东省的青岛、日照、烟台等港口。



虽然由于以上种种原因，黄河三角洲无法像“长三角”“珠三角”一样在经济建设上“锋芒毕露”，但是，黄河三角洲正在以另一种方式发挥着它的价值。经过一系列的保护性开发，黄河口湿地生态旅游区已形成沼泽地生态区、海滩湿地观光区、槐林生态接待区、芦苇湿地观鸟区和新国土观光区等五大功能区，集自然景观与人文景观为一体，既有沧海桑田的神奇与壮阔，又有黄龙入海的壮观和长河落日的静美，成了人们休闲、度假、观光的最佳场所。





## 沙漠上的“捕雾人”

南美洲西部的阿塔卡马沙漠是世界上最干燥的地区之一，在沙漠中的某些地方，已经数百年没有降下丝毫的雨水了。因此，这里也被称为世界的“旱极”。

然而，旱极却并不缺“水”，只是它以雾的形态呈现在人们眼前。

从大西洋登陆的暖湿气流自南美洲东部一路西进，翻过高大的安第斯山脉后水汽所剩无几，变得温暖干燥。这股气流继续向西，遇到了秘鲁寒流带来的密度较大的冷湿气流，便将这股湿冷气流稳稳地盖在了下面，湿冷气流无法上升形成降雨，只能维持大雾笼罩的形态。这种现象被当地人称为“卡门却加”，意思是“沉闷阴郁”。

1956年，智利一位退休的教授从该地区植物的生存方式中得到灵感，发明了一种以网捕雾的办法，在智利中部的海滨小村里开始了捕雾实验。

就像蜘蛛网在雨后会结满水珠，智利的“捕雾人”会在山坡上竖起细密的巨网，起雾的时候空气中潮湿的水汽就会在细小的网眼里凝成水滴，积攒下来流进网下的蓄水装置里，水就这样被“捕获”到手。

当地人凭借这种方法及从蓄水层中采集的少量地下水，种植橄榄、西红柿和黄瓜。而在高原上的人们则依靠高山雪水种植作物，放牧骆驼、羊驼。通过这些方法，100多万人在这片干旱贫瘠的土地上生存下来。



沙漠在地球上分布非常广泛，通常来说，沙漠地区气候干旱，降水稀少，水资源缺乏。请你查阅资料，了解在沙漠地区生活的人们获取水资源的方法。

# 古人乱扔垃圾，

## 处罚严苛



2019年7月1日，《上海市生活垃圾管理条例》正式实施。这让上海市民一下子进入了随时要面对如何丢垃圾的紧张状态，生怕一个不留神，就被罚了款。



那么，古人是如何管理城市卫生的？有没有就垃圾管理出台过专门的措施？

早在商代，各行各业的发展已经初具规模，生产生活垃圾数量可想而知。当时对垃圾的管理是非常严格的，甚至可以说到残酷的地步。《韩非子·内储说上》写道：“殷之法，刑弃灰于公道者断其手。”灰，就是垃圾。如果居民把垃圾随意倒在街上，一旦捉住，不问情由，一律受断手的惩罚。

这种严酷的惩罚一直被沿用到周朝，在收效甚大的同时，也导致民间怨声载道。到了秦朝，“秦连相坐之法，弃灰于道者黥”。黥，就是在脸上刺字，并且抹上擦不掉的墨水。这样的处罚和断手相比，似乎轻了，至少手还在，但脸上的记号就成了耻辱，同样起到了杀一儆百的作用，让人不敢乱扔垃圾。

那么，古代有没有专门负责清扫垃圾的人员呢？答案是肯定的。到了周朝，随着城市日益发展壮大，相关的“环保机构”和“公共厕所”也应运而生。最早记载了专门的清扫机构的是《周礼·秋官》，书中写道：“条狼氏，

下士六人、胥六人、徒六十人。”这些人，就是负责清扫城市街道，保持城市整洁的，也就相当于现代的环卫工人。

在周朝出现的“公共厕所”，也有着严格的规定，并且设有专门的管理部门。如果管理不力，导致恶果，管理者将受到与随意扔垃圾者同样的处罚。这样，谁还敢不尽其责？谁还敢以身试法？

到了盛唐，城市的繁华可想而知，对城市垃圾的管理自然也非常严格。据《唐律疏议》记载：“其穿垣出秽污者，杖六十；出水者，勿论。主司不禁，与同罪。”“其有穿穴垣墙，以出秽污之物于街巷，杖六十。直出水者，无罪，主司不禁，与同罪……”由此可见，管理不当，街道环境受到污染，不但当事者受罪，管理者也难辞其咎，同样领罚。

从古至今关于城市垃圾管理的范例还有很多，而且其中还有不少看起来让人匪夷所思的，但不能否认的是，这种强制执行的法令确实起到了良好的效果。



推广垃圾分类是利国利民的好事，我们应该全力支持。在日常生活中，你是否对垃圾进行了分类投放？除了法律法规外，你是否还能想到一些督促人们进行垃圾分类投放的金点子？



## 活动设计

# 中学生该如何消费

随着经济的发展和居民收入的提高，同学们的消费支出不断增加。我们要知道：只有正确的消费行为，才能满足我们各种物质文化生活需要，培养我们健康文明的生活方式，实现和谐消费；才能拉动我国的经济增长、增加就业；才能加快转变我国的经济增长方式，促进国民经济又好又快发展。但是当前，在同学们的生活中还存在着一些不健康、不文明的消费行为，铺张浪费、盲目攀比、过度消耗资源、破坏环境是其典型表现，这些行为对个人与社会都产生了不利的影响。

## 活动

### (1) 请你调查：同学们在生活中有哪些不良的消费行为？

例如：①从外面买盒饭，形成白色污染。②超前支出，每周借债。③买过多的名牌，好面子，攀比消费。④生日请客，一掷千金。

### (2) 针对上述消费现象起草一个评估报告。

评估报告要求：①对同学们的消费行为要有详尽的描述。②透过这种消费现象，抓住某些消费的本质与规律。③对同学们的消费现象进行全面的评价。④对同学们未来的消费行为给予合理的建议。

### (3) 假如假期生活中家长给你500元，为达到较高的消费效益，你该怎样花这笔钱？

- ①要有详尽的消费支出计划，且计划要可行。
- ②消费计划要体现适度消费、理性消费、绿色消费、勤俭节约。



# 寒假去哪儿之雪树银花篇

一到岁末年关，我们的快乐寒假就开始啦！每年寒假有近1个月的时间，如此长的假期，世界那么大，我要去看看！今年寒假去哪儿呢？不妨去银装素裹、雪树银花的东北看看吧！

## 活动第1站：哈尔滨

哈尔滨是中国东北北部的政治、经济、文化中心，是中国著名的历史文化名城、热点旅游城市和国际冰雪文化名城，有“文化之都”“音乐之都”“冰城夏都”的美誉。哈尔滨的游玩胜地有中央大街、防洪纪念塔、索菲亚教堂、冰雪大世界、太阳岛风景区、虎林园、极地馆和松花江等。对于吃货朋友来说，哈尔滨的美食也会让你垂涎三尺。哈尔滨的特色美食有糖炒栗子、马迭尔冰棍、俄罗斯列巴和秋林里道斯红肠等。中央大街上的小吃非常多，不过你一定不要错过马迭尔冰棍，还有华梅西餐厅的面包和大列巴，这些都是物美价廉的正宗俄式风味。你也可以品尝地道的东北菜及饺子，“东北杀猪菜”“东北饺子王”“老上号”“喜家得”都是很不错的选择。



## 活动第2站：二浪河风景区

有人曾说：二浪河是沉睡的雪乡，未染铅华素颜妆，当你真正来到后，才知道它有多美。在二浪河，你可以堆雪人、打雪仗，尽情地在雪地里撒欢！在修亚布力到二浪河的公路之前，一般的车辆是无法行进到二浪河的。也



正是由于它的闭塞，才让如今这般没有被商业破坏、具有原始景观的小村子得以保留。这里的人文景观充分体现了自然与真实，能满足你的好奇心和探索欲望。喜欢摄影的游客可以在村子里自由拍摄，随便拍哪里都是一幅画。在二浪河，你除了能住上传统的农家火炕，还可以吃到地道的小鸡炖蘑菇、猪肉炖粉条和地三鲜等东北农家特色菜。

### 活动第3站：大雪谷

假期里，你可以和家人一起来感受大雪谷的独特魅力。在这里，你可以体验20世纪五六十年代的林区生活，参观林区最具代表性的地窖子、马架子，感受



东北人的热情好客；你可以游览野生动物园，看到野猪、狍子、鹿、野兔等动物；你可以参观伐木工段和林区展览馆，了解新中国成立前后的各种生产和生活用品（如大肚子锯、弯把子锯、油锯、棉靴、军勾鞋等）；你也可以听到关于民风民俗的介绍和传说故事（如敬山神树、敬山仪式和可歌可泣的抗联英雄故事等）。这里的特

特色美食是浓香可口的东北大炖菜，你可不要流口水哦。还有，第二天早晨一定要记得早起！宁静的雪乡清晨，伴随着一缕缕炊烟，金色的阳光洒向洁白的屋顶。此等雪乡晨景，不容错过。

### 活动第4站：铭山绿洲滑雪场

到了东北，当然少不了滑雪项目，第四站就前往吉林市铭山绿洲滑雪场。这里可以办理不限时滑雪，你有多少体力都可以施展出来，直到你滑累为止。雪场设有初级滑道、中级滑道和高级滑道，不会滑雪的人一定要到初级滑道先学习一下，慢慢适应后再一步一步地提高难度。大家还可以去体验惊险刺激的雪圈活动。



### 活动第5站: 吉林市雾凇岛

冬日里,空气中的水蒸气遇冷,在树上凝结为霜花,气象学称之为“雾凇”。吉林市的雾凇远近闻名,人们了解最多的是市区一带的十里长堤,却少有人知道距吉林市35千米的松花江下游有一个雾凇岛。雾凇岛因雾凇多且美丽而得名。吉林雾凇与桂林山水、云南石林、长江三峡被国家有关部门誉为“中国四大自然奇观”。



亲爱的同学,如果你有到东北旅游的计划,请根据上面景点的介绍内容,上网查阅相关资料,制订一份旅游攻略吧!

# 元代皇帝为何没有陵墓



每个封建王朝的皇帝死后都有陵墓，唯独元朝皇帝没有留下一座陵墓，这是为什么呢？

南宋文人的笔记记载，当年成吉思汗在宁夏病逝后，其遗体被运往漠北肯特山下某处，在地表挖深坑密葬。其遗体存放在一个将大树中间掏空做成的独木棺里。独木棺下葬后，土回填，然后“万马踏平”。为了不让外人看出曾经动土的痕迹，“万马踏平”后，还要用帐篷将周围地区全部围起来，待到墓葬地面上的青草长出，与周围的青草无异，才将帐篷撤走，这样墓葬的地点就不会泄露了。

全套工作完成后，蒙古人会在墓葬地表杀死一头小骆驼，这时，陪伴这头小骆驼前来的母骆驼就会十分悲痛地号叫，并且记住这个地点。第二年来祭祀的时候，把这头母骆驼牵来，在杀死小骆驼的地点，母骆驼就会悲痛地流泪。这样，前来祭祀的人就能找到墓葬的确切地点了。

元朝建立以前，蒙古人有自己独特的丧葬习俗，其特点是薄葬简丧。蒙古人是生活在草原上的游牧民族，



他们没有固定的居所，生活方式比较简单实用。特别是在蒙古人大举扩张的战争年代，丧葬仪式尤其简单。忽必烈建立元朝以后，实行汉法，也渐渐受到汉人丧葬习俗的熏染，开始用棺木入葬，但所用棺木与汉人不同。死者入殓后，两块棺木合在一起，形成一棵圆木，然后“以铁条钉合之”。尽管入主中原，蒙古人入殓仍然俭朴如初，寿衣大多是平时穿的衣服，随葬的器物也比较少，大部分是死者生前喜好的武器，如弓箭、刀剑一类的东西。

元朝皇帝忽必烈在位期间，为自己也为后代子孙找出了陵墓不被盗掘的方法，那就是让下葬之处变成无人知晓的空白地：不允许汉族官员参加元朝皇帝的送葬仪式和到达下葬地点；皇帝去世后，对外宣称皇帝遗体运回漠北进行安葬，并且在历史的记录中加以记载，达到以假乱真的目的，让盗墓贼无从下手；没有过多的陵墓建筑，不设置过多的随葬品，不设置墓碑，使得皇陵外表看起来和普通的墓葬没有区别；在记录皇陵时只记录蒙古贵族和皇族知道的地名。

记录的不完整和有意的编造使得元朝皇帝下葬地点蒙上了神秘的面纱，加上蒙古族特有的文化习俗、生活习性还有很多不为外界所了解，这就使后代很难了解历史的真相。这或许就是元朝皇帝没有陵墓的缘故。不是没有，而是没有发现。




成吉思汗为了他和他子孙的陵墓不被人盗掘，而采用最简单、最原始的安葬方法。请你结合实际，谈一谈这种朴素的丧葬观念对现代社会有什么启示。



# 托普卡比宫的古地图

1929年，在土耳其伊斯坦布尔的托普卡比宫，发现了一张用羊皮纸绘制的古代航海地图，地图上有土耳其海军上将皮里·雷斯的签名，时间是1553年。皮里·雷斯是一位著名的船长，同时又是一个旅游制图家和收藏家。据他在自己著名的地图集和这幅地图的说明中所说，该图是根据前人的20幅地图绘制的。这20幅地图中有8幅是绘制于距今约2400年的亚历山大大帝时代。



地图上，只有地中海地区画得十分精确，其余地区，如美洲、非洲都严重变形。这很正常，毕竟那时候科技不发达，地图画得不准确也是能理解的。然而，随着进一步深入研究，科学家们惊讶地发现，这张古地图其实是一张空中鸟瞰图。同“阿波罗8号”飞船所拍摄的地球照片相比，土耳其的这张古地图就像是它的翻版一样。地图上美洲、非洲的变形轮廓线，同阿波罗飞船拍摄的照片完全重合。

这张地图不只画下了各大陆的轮

廓，而且连内陆的山脉、高峰、河流、岛屿和高原，都标画得清清楚楚。这幅地图还准确地标识了南、北美洲的相对经度，而南、北美洲的相对经度是直至18世纪才确定的。尤其令人惊讶的是，古地图上还绘出了南极洲冰层覆盖下的复杂地貌，而南极大陆直至1818年才发现，绘制成图则是100年以后的事了。南极洲的山脉几百年来一直被厚厚的冰层覆盖，肉眼无法看到，直到1952年，我们依靠回声探测仪才发现它的存在，而古地图绘制的南极洲地貌同南极探险队用回声探测仪对南极冰下地形的探测图毫无二致。




除了这张地图，其他的一些古代地图也同样让我们惊诧莫名。土耳其的一张标明时间为1559年的地图上，有一条桥梁一样的狭长地带把亚洲的西伯利亚和美洲的阿拉斯加连在一起，而根据地质学家的研究，这一地带曾经存在，但至少消失了10 000年，有谁能画出万年前的地貌呢？绘制这样的地图，需要准确地知道地球的大小、形状，还要在数学测量中应用球面三角学和超现代的制图投影术。在大洪水后不久，在冰川汇集两极之前，有谁能绘制这些奇妙的地图呢？

## 图说天下

## 问鼎“世界航天奖” 天问一号团队获赞誉

▼2022年9月18日，国际宇航联合会在第73届国际宇航大会开幕式上，将2022年度“世界航天奖”授予了中国天问一号火星探测团队。国际宇航联合会表示，天问一号火星探测团队为成功探索火星提供了创新性的选择，并为推进深空探测技术作出了杰出贡献。

“世界航天奖”旨在表彰在航天科学、航天技术、航天医学、航天工程管理等领域取得杰出成就的航天科技人员。



## 印象中国



## 为2035年的美好中国团结奋斗


▲2022年10月16日，中国共产党第二十次全国代表大会在北京开幕。中国共产党第二十次全国代表大会是在全党全国各族人民迈上全面建设社会主义现代化国家新征程、向第二个百年奋斗目标进军的关键时刻召开的一次十分重要的大会。党的二十大报告提出了到2035年我国发展的总体目标，让我们一起为2035年的美好中国，团结奋斗！



## 《新千里江山图》绘就新时代奋斗的画卷

▶ “青绿千里入画，山河无垠新卷。”2022年10月15日，在党的二十大召开前夕，人民日报新媒体推出的重磅原创视频《新千里江山图》，被网友和众多机构账号等热评热传。


该视频以古代名画《千里江山图》为创作蓝本，以“江山就是人民，人民就是江山”为创作理念，巧妙融合了绘画、舞蹈、戏曲、书法、民乐等多种中华优秀传统文化元素，在短短的几分钟时间里，为所有网友贡献了一场视听盛宴，不仅展现了我国的壮美山河，更展现了



了中国这十年在政治、经济、社会、文化、生态等各个领域取得的辉煌成就和中国人民面对种种困难挑战，埋头苦干、奋勇前进的精神。一笔一画，皆是江山如画；一情一景，皆是奋斗图景。

## 卫星助力碳中和

▼2022年8月4日，我国成功将“句芒号”卫星送入预定轨道。“句芒号”是世界首颗森林碳汇主被动联合观测的遥感卫星，能够实现对森林植被生物量、气溶胶分布、叶绿素荧光等要素的高精度定量遥感测量，进而计算出森林碳汇，即森林植被吸收并存储的二氧化碳量。（句芒是我国古代民间神话中的木神、春神、东方之神，主管树木的发芽生长，这个命名象征着对自然环境的敬畏与责任。）



2016年12月22日，我国首颗碳卫星、全球二氧化碳监测科学实验卫星发射升空并在轨运行；2018年5月9日，我国成功发射高分五号卫星，搭载的温室气体监测仪GMI的主要功能是定量监测二氧化碳和甲烷的全球浓度分布变化；2022年4月，我国成功发射大气环境监测卫星，以激光监测二氧化碳浓度变化；2022年8月又成功发射“句芒号”卫星……

仰望星空，这一颗颗卫星，成为助力碳中和的科技力量。

# 看世界

## 全球农产品行业未来十年面临根本挑战



▶ 2022年6月29日，亚太经合组织和联合国粮农组织联合发布《2022—2031年农业展望》，报告指出，全球农产品行业未来十年面临根本挑战，需要以可持续方式养活不断增长的人口，应对气候危机影响等带来的食品供应中断等冲击。

预计未来十年，全球食品消费受人口增长的驱动，每年将增长1.4%，农业产量每年将增长1.1%。全球平均农业生产力需提高28%，才能既实现零饥饿的可持续发展目标，又保证农业碳排放量达到《巴黎协定》目标。报告指出，在技术、基础设施和培训方面增加投资、提高生产力，是农业增长的关键驱动力。

## AI绘画，一场艺术领域的“智能危机”？



◀ 2022年8月31日，一位名为Jason Allen的美国游戏设计师在美国科罗拉多州博览会一项美术竞赛中斩获一等奖，获奖的作品名为《太空歌剧院》。消息一经宣布，便迅速在全球艺术领域引起热议，原因是这幅作品出自AI之手，它是Jason Allen使用AI绘图软件生成的。

不同于传统人工创作，即使你毫无艺术细胞，但只要你在AI绘图软件里输入几个关键词，再选择想要的风格与视角，就能收获一幅与AI共创的高水平画作。这种强悍的绘画能力刷新了大众对AI技术能力边界的认知。许多关于AI绘画的讨论也随之而来：AI画作到底是一种更深层次意义上的拼接，还是真正的艺术创作？AI的发展是否会在未来取代普通的艺术创作者？

对于整个行业来说，这些严肃的讨论是非常必要的，因为AI作画的冲击正切实地改变着艺术行业。但我们也应该知晓，AI终究只是工具，无法取代人类的想象力与创造力。



## 为全球反腐败治理贡献金砖力量

▼2022年7月13日，金砖国家首次反腐败部长级会议以视频形式举行，此次部长级会议的主题为“加强合作，携手反腐”。金砖各国反腐败机构部长级官员回顾金砖国家反腐败合作历史，探讨金砖国家如何在打击腐败资产非法流动、反腐败执法和追逃追赃合作、反腐败教育培训等重点领域继续深化合作，联合国毒罪办、国际反腐败学院、新开发银行也为金砖反腐败合作建言献策。与会各方表示，这样的高级别会议有助于巩固深化各方工作层专家之间的合作，加强金砖国家高级别合作交流，为全球反腐败斗争作出务实贡献。



## 英国女王伊丽莎白二世去世

▲2022年9月8日，英国白金汉宫证实，英国女王伊丽莎白二世当天下午在苏格兰巴尔莫勒尔堡去世，终年96岁。伊丽莎白二世是英国历史上在位时间最长的君主。1953年，她在伦敦加冕，成为英国第二位“伊丽莎白女王”。在她长达数十年的统治期间，英国经历了“日不落帝国”解体、英阿马岛战争、战后复苏又衰落、英国脱欧、新冠疫情等风风雨雨，可以说，伊丽莎白二世的一生，就是一部英国当代史。伊丽莎白二世去世后，她的长子、王储查尔斯继承王位。上图为伦敦市民在白金汉宫外摆放的鲜花和蜡烛。